

2021 / 2022 EĞİTİM – ÖĞRETİM YILIİLKOKULU
..... SINIFI MATEMATİK DERSİ 2.DÖNEM 2. YAZILI SINAVI

Adı Soyadı:

Sınıfı ve Numarası:

Aldığı Puan:

1) Aşağıdaki toplama işlemlerini yapınız. (4 p)

$$\begin{array}{r} 3.256 \\ + 2.574 \\ \hline \end{array} \quad \begin{array}{r} 6.209 \\ + 578 \\ \hline \end{array}$$

2) Aşağıdaki çıkarma işlemlerini yapınız. (4 p)

$$\begin{array}{r} 7.668 \\ - 2.557 \\ \hline \end{array} \quad \begin{array}{r} 5.603 \\ - 1.741 \\ \hline \end{array}$$

3) Aşağıdaki çarpma işlemlerini yapınız. (4 p)

$$\begin{array}{r} 87 \\ \times 9 \\ \hline \end{array} \quad \begin{array}{r} 74 \\ \times 38 \\ \hline \end{array}$$

4) Aşağıdaki bölme işlemlerini yapınız. (4 p)

$$\begin{array}{r} 97 \overline{) 4} \\ \hline \end{array} \quad \begin{array}{r} 560 \overline{) 9} \\ \hline \end{array}$$

5) Bir kütüphanede 3.506 tane roman, 1.089 tane şiir kitabı ve 2.779 tane masal kitabı vardır. Bu kütüphanede kaç kitap vardır? (5 p)

6) Babam 41 yaşındadır. Annem babamdan 8 yaş küçüktür. İkisinin yaşları toplamı kaçtır? (5 p)

7) Bizim çiftlikte 216 tane koyun vardır. Komşu çiftlikte ise bizim çiftliktekinin yarısının 25 fazlası kadar koyun vardır. Komşu çiftlikteki koyunların sayısı kaçtır? (5 p)


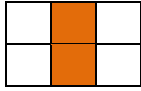
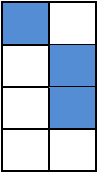
8) Çarşıya gidince kendime 8 tane çorap aldım. 8 çoraba 72 lira ödediğime göre, tek bir çorabın fiyatı ne kadardır? (5 p)

9) Okulumuzda 9 tane derslik vardır. Her derslikte ise 26 öğrenci okumaktadır. Öğrencilerden 18 tanesi hasta olduğu için okula gelemedi. Bugün okulumuzda kaç öğrenci vardır? (5 p)

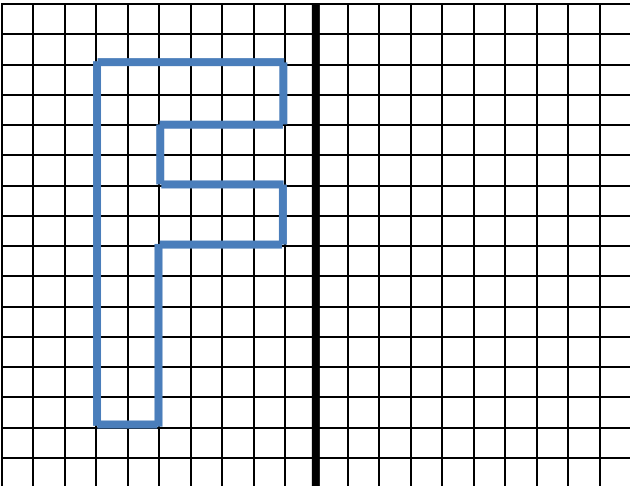
10) Aşağıdaki bölme işleminde verilmeyen bölüneni bulunuz. (4 p)

$$\begin{array}{r} \dots \\ \underline{\quad} \end{array} \overline{) 5} \\ \underline{18} \\ 2$$

11) Aşağıda verilen kesirlerin değerlerini yanlarına yazınız. (3 p)



12) Aşağıda verilen şeklin simetrisini diğer tarafa çizin. (5 p)



13) Aşağıda verilen hafta, ay ve yılların kaç gün olduklarını bulun. (5 p)

2 hafta: gün

2 ay: gün

1 yıl: gün

1 ay 1 hafta: gün

2 ay 2 hafta 5 gün: gün

14) Aşağıda verilen saatleri, dakikaya çeviriniz. (4 p)

1 saat: dakika

3 saat:dakika

4 saat 10 dakika: dakika

5 saat 25 dakika: dakika

15) Aşağıda söylenen özelliklerden hangisi dikdörtgen için doğru değildir? (5 p)

A) 4 tane köşesi vardır.

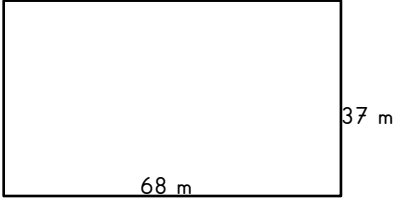
B) 4 tane kenarı vardır.

C) Tüm kenarları aynı uzunluktadır.

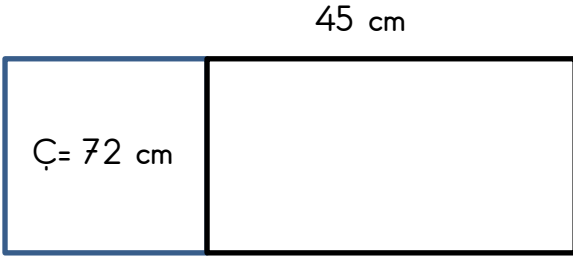
D) Karşılıklı kenarları aynı uzunluktadır.

16) Aşağıya kenar uzunluğu 4 cm olan bir kare çizin. Karenize isim vererek, çevresini hesaplayınız. (5 p)

17) Aşağıda verilen dikdörtgenin çevresini hesaplayın. (5 p)

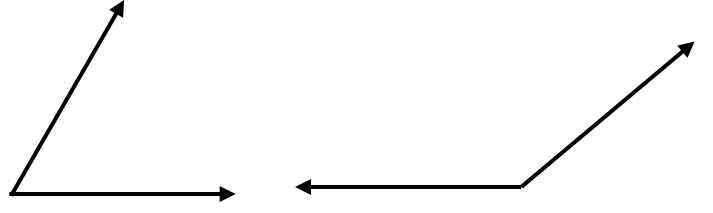


18) Aşağıdaki şekilde karenin çevresi 72 cm'dir. Dikdörtgenin uzun kenarı ise 45 cm'dir. Verilen bilgileri kullanarak aşağıdaki şeklin çevresini bulunuz. (5 p)



19) Açölçerinizi kullanarak 40 derecelik ve 75 derecelik iki açı çiziniz. (4 p)


20) Aşağıdaki şekillerde oluşan açıları, açıölçer kullanarak ölçünüz ve değerini yazınız. (4 p)



21) Çevresi 82 m olan dikdörtgen biçimindeki bahçenin uzun kenarı 28 m ise, bu bahçenin kısa kenar kaç m olur? (5 p)



22) Aşağıdaki şekil birbirine eş karelerden oluşmuştur. Bir karenin çevresi 28 cm olduğuna göre, şeklin tamamının çevresi kaç cm olur? (5p)



Cevaplaman tamamlandığında, tüm yaptıklarınızı kontrol et. 😊