

# BİLSEM HAZIRLIK

## BİLSEME ADAY ÖĞRENCİ BELİRLEME SINAVI

### BİLSEM HAZIRLIK KURSLARIMIZ BAŞLADI

Alanında uzman öğretmenler eşliğinde, 5-10 kişilik sınıflarda "Online Bilsem Sınavlarına Hazırlık" çalışmalarımız devam ediyor.

### BİLSEM SINAVLARINA HAZIRLIKTAKİ TÜRKİYE'NİN

- En Güçlü
- En Donanımlı
- En Kaliteli
- En Disiplinli Kurumu



**BİLSEMREHBERİ**

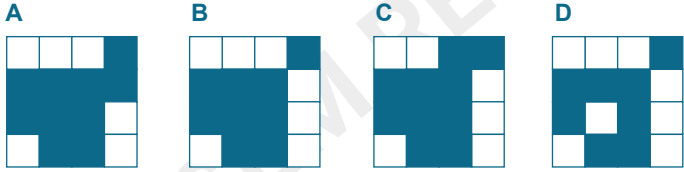
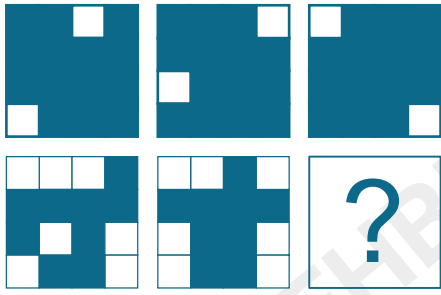
www.bilsemrehberi.com

 @bilsemrehberi

 0553 059 18 78



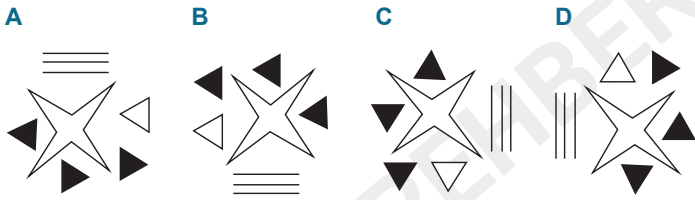
Soru 1:



Soru 2:



Aşağıdaki şekillerden hangisi yukardaki şekil ile aynıdır?



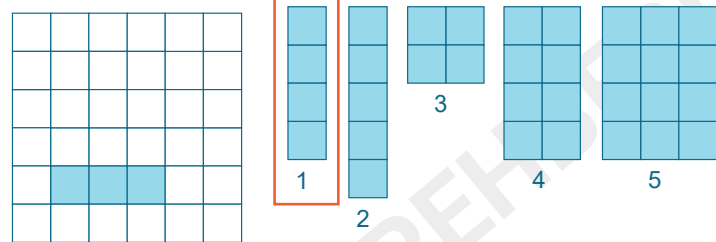
Soru 3:

G	A	Z	İ	A	N	T	E	P	B	O	N	C	U	K									
E	H	Y	C	V	B	Ğ	J	Y	C	L	Ö	S	Ü	Ç	G	O	S	?	?	?	?	?	?

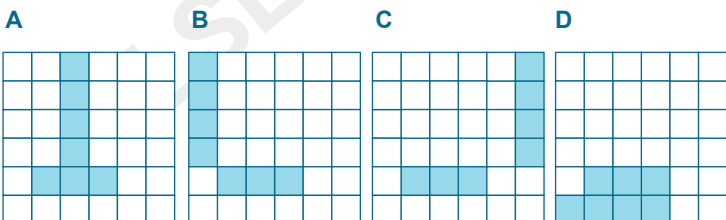
"GAZİANTEP" kelimesi şifreli olarak "EHYCVBĞJYCLÖSÜÇGOS" şeklinde yazılmıştır. "BONCUK" kelimesinin bu şifreleme yöntemine göre karşılığı nedir?

- A ZÇMPLÖADŞVİM C ZÇMPLÖADSVİM  
B ZCMLÖBDŞVİM D ZCMRLÖADSVİM

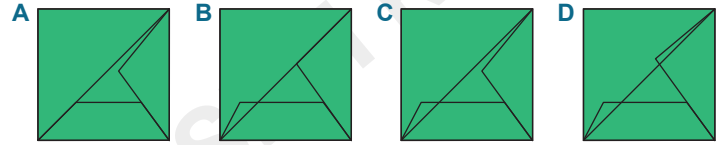
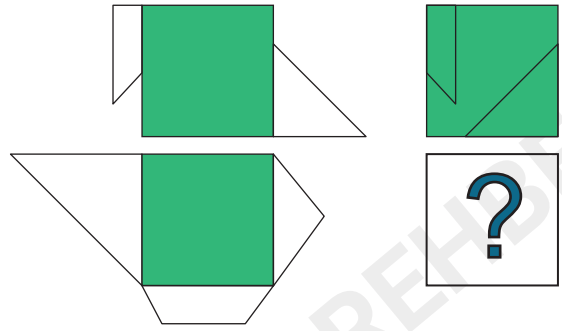
Soru 4:



Birim karelerden oluşan yukardaki 5 parça, üç tane birim karesi dolu olan 6x6 kareyi boşluk kalmayacak şekilde tamamlamaktadır. 6x6 kare tam olarak doldurulduğunda 1 numaralı şeklin konumu aşağıdaki seçeneklerden hangisi olur?



Soru 5:

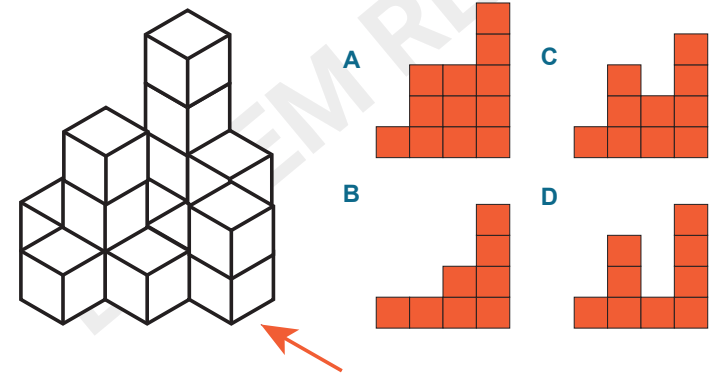


Soru 6:

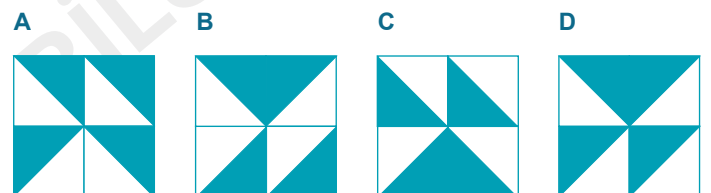



- A Maket C Nane  
B İnek D Aile

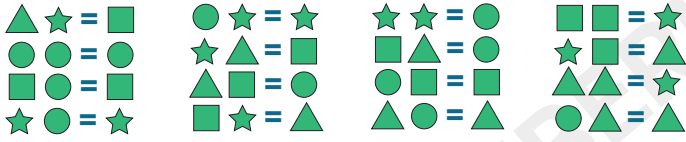
Soru 7: Küplerden oluşan şeklin turuncu ok yönündeki görünümü aşağıdakilerden hangisidir?



Soru 8:



Soru 9:

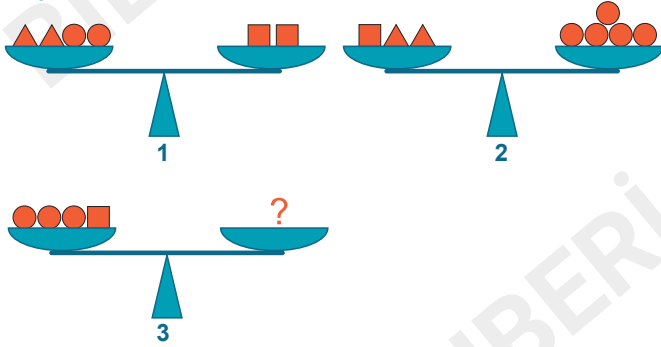


Yukarıda verilenlere göre aşağıdaki işlemin sonucu nedir?

$$\triangle + \star + \circ + \square = ?$$

A B C D

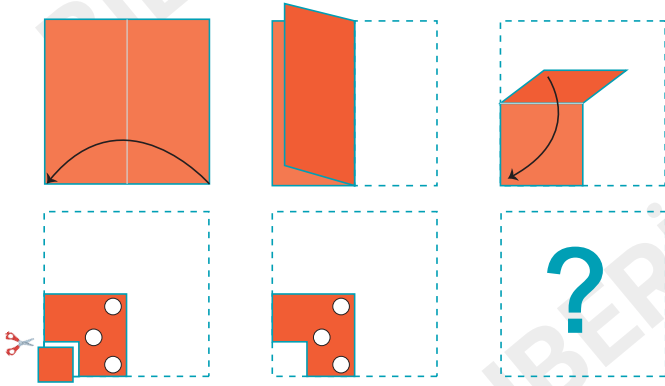
Soru 10:



1 ve 2 numaralı terazi dengededir. 3 numaralı terazinin dengede kalması için kaç tane ihtiyaç vardır?

A B C D

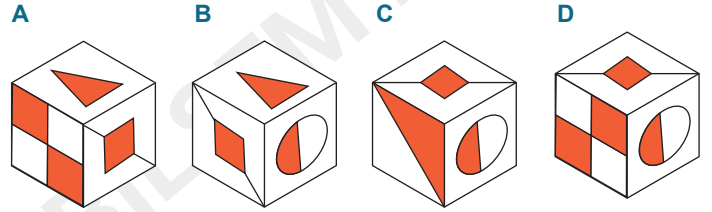
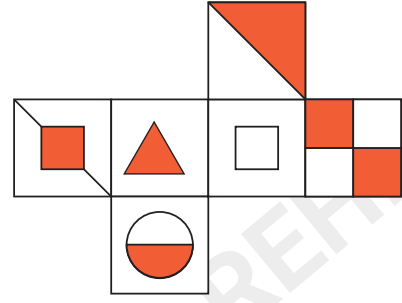
Soru 11:



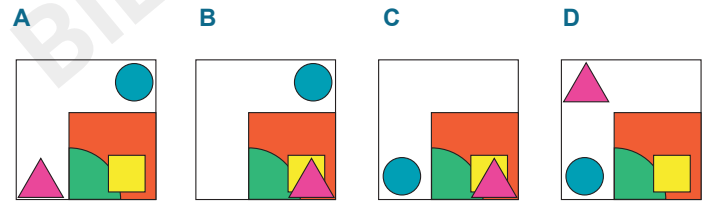

Kağıt tekrar açıldığında (eski haline getirildiğinde) nasıl görünür?

A B C D

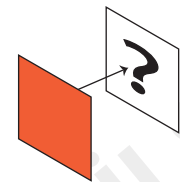
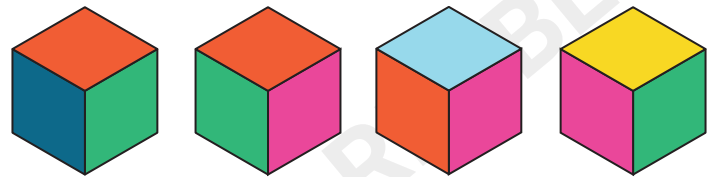
Soru 12



Soru 13:



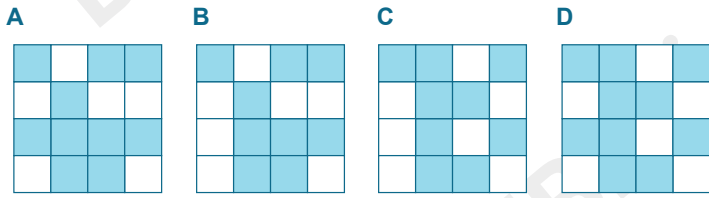

Soru 14:



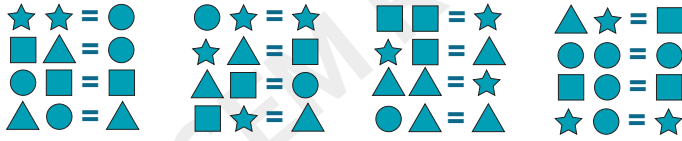
Yukarıda aynı küpün 4 farklı görünümü verilmiştir. Bu verilene göre turuncu yüzün karşısında hangi renk vardır?

A B C D

Soru 15:



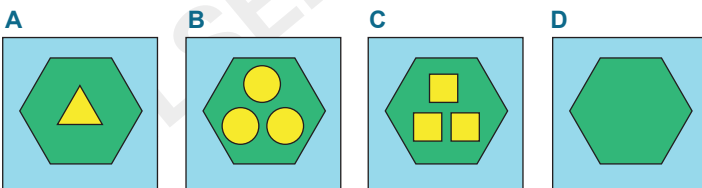

Soru 16:



Yukarda verilenlere göre aşağıdaki işlemin sonucu nedir?



Soru 17:

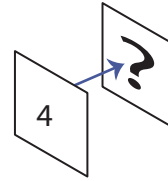
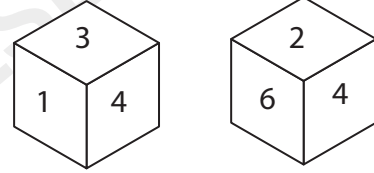


Soru 18:

Heceler	Sayısal Karşılıkları
EK	12, 91, 49, 21
Kİ	
İN	İSTENEN
Nİ	İNEK

A 1942 B 1249 C 2149 D 2194


Soru 19:




Yukarda her yüzünde (1,2,3,4,5,6) rakamlarından biri bulunan zarın iki farklı görünümü verilmiştir. Bu bilgilere göre 4 rakamının karşısında hangi rakam vardır?



Soru 20:



Aşağıdaki seçeneklerden hangisi yukardaki görselle farklı yönden bir ilişkiye sahiptir?



# DENEME UYGULAMA ESASLARI

- 1.Sınıf öğrencileri için 40 dakika süre verilecek.
- 2.Sınıf öğrencileri için 35 dakika süre verilecek.
- 3.Sınıf öğrencileri için 30 dakika süre verilecek.
- 4.Sınıf öğrencileri için 25 dakika süre verilecek.

CEVAP ANAHTARI İÇİN İLETİŞİME GEÇİNİZ.

DENEMEYİ DİĞER ÖĞRETMENLERLE PAYLAŞABİLİRSİNİZ.

EMEĞE SAYGI İÇİN FİRMA BİLGİLERİNİ SİLMEMENİZİ RİCA EDERİZ.

SADECE OKULLARDA KULLANIM İÇİN ÜCRETSİZ KULLANIMA İZİN VERİLMİŞTİR.

TİCARİ AMAÇLA ÜCRETSİZ KULLANIMI YASAKTIR. İZİNSİZ KULLANIMLARDA HER TÜRLÜ TELİF HAKKIMIZ SAKLIDIR.