



Instagram

Sınıftaki Yaşam

Dört İşlem Problemleri

1) Ülküsü her gün, bir önceki günden 5 kez daha fazla ip atlıyor. Ülküsü 4. gün 34 kez ip atladığına göre ilk gün kaç kez ip atlamıştır?



Sınıftaki Yaşam

Dört İşlem Problemleri

4) Bir yemek kaşığı, iki tatlı kaşığı limon suyu ile dolmaktadır. Hatice Hanım yapacağı salataya 6 yemek kaşığı limon suyu eklemesi gerekiyor. Ama evde temiz yemek kaşığı kalmadığı için kaç tatlı kaşığı kullanılmalıdır?



2) Bahçemizden topladığım 61 sebzenin 18 tanesi ebegümeci, 19 tanesi marul olduğuna göre kaç tane tere toplamışım?



Hakan KAYNAK

5) 8 katlı bir binanın her katında 5 pencere vardır. Pencerelerden 12 tanesi açık olduğuna göre kapalı olan kaç pencere vardır?



3) Boş bir tencereyi dört sürahi doldurmaktadır. Sürahi boş haldeyken üç bardak su ile dolduğuna göre boş tencere kaç bardak su alır?



Sınıftaki Yaşam

6) Salih'in annesinin cüzdanında 4 tane 5 lira, 3 tane on lira ve 2 tane 20 liralık banknot vardır. Salih'e 15 lira harçlık veren annesinin kaç lirası kalır?



7) Samet okula gittiği günlerde babasından 5 lira harçlık alıp bunun 3 lirasını okulda harcıyor. Samet bir haftada kaç lira para biriktirmiş olur?



8) Eymen'in cebinde en küçük banknotlardan 3 tane ve en büyük madeni paralardan 6 tane vardır. Eymen parasının tamamını Rüzgar ve Çınar ile paylaştığına göre her birine kaç lira düşer?



9) Anne, baba ve çocuktan oluşan bir aile doğum günü pastasını paylaşmak için pastayı 17 eş dilime ayırıyorlar. 3 dilimini anne yiyor. Kalanları ise diğer aile üyelerine paylaşıyor. Buna göre çocuk anneden kaç dilim fazla pasta yemiştir?




10) Manav Hakan, 52 kilogram biberin 32 kilogramını sattı. Kalan biberleri dörder kiloluk poşetlere eşit olarak paylaşırsa her bir poşette kaç kilogram biber olur?



11) Zeynep'in annesi ders çalışan Zeynep ve abisi için meyve tabağı hazırlıyor. Zeynep meyve tabağına baktığında 4 yarım elma, 8 çeyrek kivi ve 6 yarım armut görüyor. Buna göre Zeynep'in annesi kaç bütün meyve kullanmıştır?



12) Bahçemizdeki 24 patlicanın çeyreğini topladık. Babam 2 tanesini yemek yapmak için kullandı. Geriye kalanları komşumuza verdiğimizde göre komşumuza kaç patlican vermişizdir?



Sınıftaki Yaşam

Hakan KAYNAK

Sınıftaki Yaşam



Instagram

Sınıftaki Yaşam

Zaman Problemleri

1) En hızlı ulaşım aracını kullanan Pelin Ada saat 10.30'da yolculuğuna başlıyor. Yolculuğu 13.00' te bittiğine göre yolculuğu ne kadar sürmüştür?



Sınıftaki Yaşam

Zaman Problemleri

4) Toki İlkokulu ikinci sınıf öğrencileri 6 saat süren okul gezisine katıldılar. Gezi saat 15.30'da bittiğine göre geziye saat kaçta başlamışlardır?




2) Esmâ müzik kursuna saat 10.30' da gitmiştir. Kurstan 12.30'da çıktığına göre kursu kaç saat sürmüştür?



Hakan KAYNAK

5) Her saat başı hastaların tansiyonunu ölçen hemşire bir günde bir hastanın kaç kez tansiyonunu ölçmüştür?



3) Çınar ve ailesi saat 16.45'te film izlemeye başladılar. Film 1 saat 15 dakika sürdüğüne göre film bitiminde saat kaç olur?



Sınıftaki Yaşam

6) Çarşamba gününden salı gününe kadar her gün piyano kursuna giden Eflin, kaç gün kursa gitmiştir?





Instagram

Sınıftaki Yaşam

7) Pandemi döneminde almış olduğu kilolardan kurtulmak isteyen Buğra Bey, eylül ayında başladığı spor salonuna 20 hafta gittiğine göre hangi ay üyeliğini sonlandırmıştır?

Not: 1 ay = 4 hafta olarak hesaplayınız.



Sınıftaki Yaşam

8) Akşam 10.00 'da uyuyan Elif Naz sabah 08.00'de uyandığına göre kaç saat uyumuştur?




10) Cansın okula gitmek için sekizi çeyrek geçe evden çıkıyor. 6 saat 15 dakika sonra eve dönüyor. Cansın eve döndüğünde saat kaç olur?



Hakan KAYNAK

11) Damlanur, kütüphanede iki buçuk saat kaldıktan sonra akşam saat altıda kütüphaneden ayrılmıştır. Buna göre Damlanur kütüphaneye saat kaçta gitmiştir?



Sınıftaki Yaşam

12) Akşam saat yediyi çeyrek geçe markete giren Deniz, üç çeyrek saat markette kaldığına göre marketten çıktığında saat kaç olur?





Instagram

Sınıftaki Yaşam

Tablodaki sözcükleri kullanarak

atasözlerimizi tamamlayalım.

şeytan	düdüğü
yaş	yoğurdu
düştüğü	baştan
faydayla	yemeği
sükut	samanı
yorganına	yastığına
kornayı	sondan
kaya	pas
zararla	tavuk
zeytin	taş
güzellik	biçersin
peynir	iyilik
kötülük	dikersin
leke	yattığı
cezasını	kaldığı

Sınıftaki Yaşam

Hakan KAYNAK

Sınıftaki Yaşam

- Ne ekersen onu
- İşleyen demir tutmaz.
- Zorla olmaz.
- Söz gümüşse altındır.
- İyilik yapan bulur.
- Parayı veren çalar.
- Aslan yerden belli olur.
- Lafla gemisi yürümez.
- Sütten ağzı yanan üfleyerek yer.
- Ummadığın baş yarar.
- Ağaç iken eğilir.
- Balık kokar.
- Öfkeyle kalkan oturur.
- Ayağını göre uzat.
- Sakla gelir zamanı.
- Acele işe karışır.
- Ateş yeri yakar.
- Akılsız başın ayaklar çeker.
- Kaz gelecek yerden esirgenmez.



Instagram

Sınıftaki Yaşam

Kültürel Öğelerimiz

Bizim kültürümüze ait olanları işaretleyelim.



Kültürel Öğelerimiz

Aşağıdaki ifadelerden doğru olanların başına (D), yanlış olanların başına (Y) yazınız.

(.....) Kebap kültürümüze ait bir yemektir.

(.....) Kına geceleri kültürümüze ait değildir.

(.....) Her ülke aynı kültüre sahiptir.

(.....) Güreş ve okçuluk kültürümüze aittir.

(.....) Mimari yapılar kültürel mirasımızın birer öğeleridir.

(.....) Pizza kültürümüze ait bir yemektir.

(.....) Bale kültürümüze ait bir dansdır.

(.....) Sarma ve mantı kültürümüze ait yemeklerdir.

(.....) Hacivat ve Karagöz kültürümüze ait bir gölge oyunudur.

(.....) Süpermen kültürümüze ait bir kahramandır.

(.....) Nasrettin Hoca kültürümüzün bir parçasıdır.

(.....) Baklava ve lokum kültürümüze ait tatlılardır.

Sınıftaki Yaşam

Hakan KAYNAK

Sınıftaki Yaşam