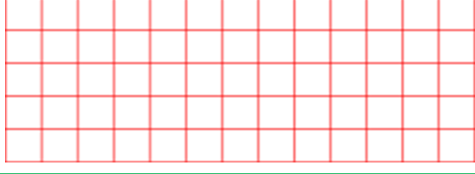



1 Şeyma'nın 30 TL'si vardır. Her gün 5 TL'sini harcarsa, kaç gün sonra parasının tamamı bitmiş olur?



5 Buse 22 tane çileğin 4 tanesini yedi. Kalan çilekleri 3 tabağa eşit olarak koydu. Her tabakta kaç çilek olur?



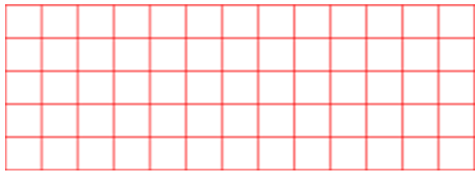
2 Hasan 20 muzu 4 maymuna eşit olarak paylaştırdı. Her maymuna kaç muz düşer?



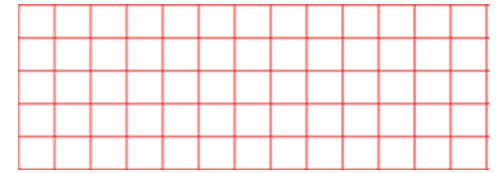
6 Nisa'nın 55 lirası vardı. 25 lirası ile bir kazak aldı. Kalan parası ile tanesi 5 lira olan defterden kaç tane alabilir?



3 Fulya 35 boncuğu 5 arkadaşına eşit olarak hediye etmek istiyor. Her bir arkadaşına kaç boncuk vermelidir?



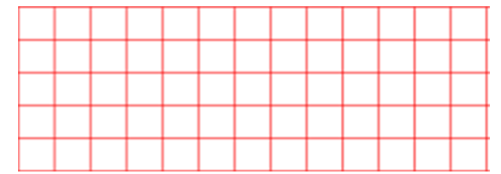
7 Aylin'in 18 sarı, 9 mavi bilyesi vardır. Aylin tüm bilyelerini eşit 3 gruba ayırırsa, her grupta kaç bilye olur?



4 Yusuf'un 18 TL'si vardır. Bu parayla, tanesi 2 TL olan kalemlerden kaç tane alabilir?



8 Efe 19 TL'sini, Mehmet 13 TL'sini vererek, fiyatı 4 TL olan kitaplardan aldılar. Aldıkları kitap sayısı kaçtır?



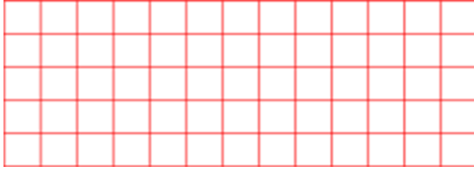
9 18 liranın yarısının 8 lira fazlası kaç lira yapar?




13 Osman üç düzine yumurtayı 4 kutuya eşit olarak paylaşmak istiyor. Her kutuya kaç tane yumurta koymalıdır?



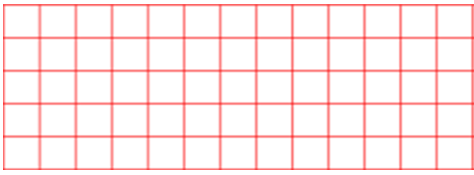
10 8 portakalın 3 katının 4 ile bölümü kaç portakal eder ?



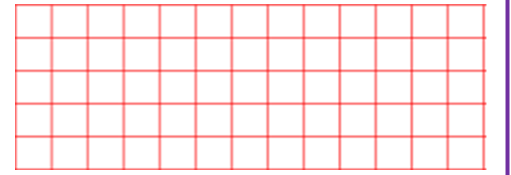
14 Ecrin 4 tanesi 32 TL olan kitaptan 5 tane almıştır. Ecrin kaç TL ödeme yapmalıdır?



11 Mahmut 18 lira annesinden, 22 lira da babasından aldı. Bu parayı 5 günde eşit olarak bitirdiğine göre, Mahmut her gün kaç lira harcamıştır?



15 Ömer'in 18 TL'si vardır. Hasan'ın parası, Ömer'in parasının yarısından 5 TL fazladır. İkinin toplam kaç TL'si vardır?



12 Bir çiftlikteki koyunların ayak sayısı 36, tavukların ayak sayısı 16 olduğuna göre, bu çiftlikte toplam kaç koyun ve tavuk vardır?



16 Beş deste cevizin üç düzine eksiğini, 2 kişi paylaşırsa her birine kaç ceviz düşer?

