

# GÜN GÜN ARA TATİL TEKRAR ETKİNLİKLERİ

( 11 NİSAN 2022 – PAZARTESİ )

## TÜRKÇE

Verilen kelimelerin zıt anlamlarını karşlarına yazınız.

gece : .....	sağ : .....	siyah : .....	hızlı : .....
aç : .....	bayat : .....	tek : .....	alt : .....
iyi : .....	dar : .....	dost : .....	uzun : .....
zayıf : .....	yakın : .....	acı : .....	dolu : .....
ucuz : .....	ön : .....	güzel : .....	eğri : .....

## MATEMATİK

Verilen çarpma işlemlerini yapınız. Boş bırakılan yerlere gelmesi gereken sayıları yazınız.

$2 \times 5 = \dots\dots$	$2 \times 4 = \dots\dots$	$3 \times 5 = \dots\dots$	$3 \times 4 = \dots\dots$
$3 \times 3 = \dots\dots$	$4 \times 3 = \dots\dots$	$5 \times 1 = \dots\dots$	$2 \times 2 = \dots\dots$
$4 \times 1 = \dots\dots$	$8 \times 2 = \dots\dots$	$9 \times 3 = \dots\dots$	$7 \times 1 = \dots\dots$
$\square \times 5 = 25$	$\square \times 3 = 18$	$\square \times 2 = 12$	$\square \times 4 = 36$
$\square \times 2 = 14$	$\square \times 2 = 20$	$\square \times 3 = 24$	$\square \times 3 = 21$

## HAYAT BİLGİSİ

Verilen kelimeleri uygun boşluklara yazınız.

Kemal	10 Kasım 1938	Mahalle Mektebi	Şemsi Efendi İlkokulu	Zübeyde	Ankara
Dolmabahçe	Ali Rıza	Makbule	Anıtkabir	İstanbul	Selanik

- Mustafa Kemal Atatürk, 1881 yılında ..... 'te doğdu
- Babasının adı ....., annesinin adı ....., kız kardeşinin adı ise .....
- Atatürk önce annesinin isteği ile ..... 'ne daha sonra ise modern bir eğitim veren ..... 'na gitti.
- Ortaokul matematik öğretmeni Mustafa'ya ..... ismini verdi.
- ..... 'de ..... 'da ..... Sarayı'nda vefat eden Mustafa Kemal Atatürk'ün mezarı başkentimiz ..... 'dadır. Atatürk'ün mezarının adı ..... 'dir.





( 12 NİSAN 2022 – SALI )



## TÜRKÇE

Verilen kelimelerin eş anlamlarını karşlarına yazınız.

yaşlı : .....	ak : .....	ulus : .....	hediyeye: .....
ırak : .....	düş : .....	özlem : .....	asır : .....
güz : .....	yanıt : .....	kelime : .....	görev : .....
yoksul: .....	yürek : .....	kırmızı: .....	ilan : .....
hızlı : .....	yurt : .....	konuk : .....	anı : .....

## MATEMATİK

Verilen bölme işlemlerini yapınız. Bölme işleminin elemanlarının isimlerini görsele yazınız.


$20 \div 5 = \dots\dots\dots$	$12 \div 4 = \dots\dots\dots$	$35 \div 5 = \dots\dots\dots$	$24 \div 4 = \dots\dots\dots$
$9 \div 3 = \dots\dots\dots$	$15 \div 3 = \dots\dots\dots$	$18 \div 2 = \dots\dots\dots$	$16 \div 2 = \dots\dots\dots$
$4 \div 1 = \dots\dots\dots$	$10 \div 2 = \dots\dots\dots$	$18 \div 3 = \dots\dots\dots$	$27 \div 3 = \dots\dots\dots$

45	5
—	

24	3
—	

28	4
—	

16	2
—	



## HAYAT BİLGİSİ

Milli bayramlarımızı yazınız.

- .....
- .....
- .....
- .....



Dini bayramlarımızı yazınız.

- .....
- .....






( 13 NİSAN 2022 – ÇARŞAMBA )

**TÜRKÇE**



Verilen eş sesli kelimelerle ilgili cümleler kurunuz.



.....  
.....




.....  
.....



.....  
.....

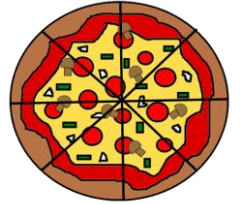

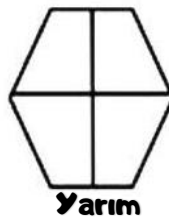
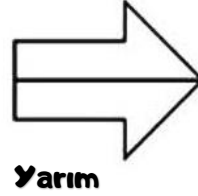
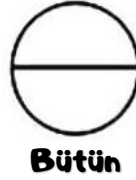
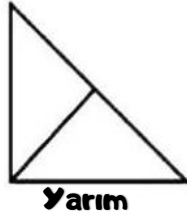


.....  
.....



**MATEMATİK**

Verilen şekillerin belirtilen kadarını boyayınız.



**HAYAT BİLGİSİ**

Verilen cümlelerin başına doğru ise (D), yanlış ise (Y) yazınız.


- ( ) Okul bahçesi, oyun parkı güvenli oyun alanlarındandır.
- ( ) Trafiğe açık alanlar, inşaatlar güvenle oyun oynayabileceğimiz yerlerdir.
- ( ) Bisiklet, paten, kay kay gibi araçları süratli kullanmamalıyız.
- ( ) Düşüğümüzde zarar görmemek için kask, dizlik, dirseklik gibi ekipmanlar kullanmalıyız.
- ( ) Evdeki elektrikli aletleri kullanırken kimseden yardım almak zorunda değiliz.



**TÜRKÇE**

Boşluklara uygun **noktalama işaretlerini** yerleştirelim.

- Yarın akşam tiyatroya gideceğiz( )
- Hatice( ) Gülden ve Mehmet çarşıya alışverişe çıktılar( )
- Funda( )nın bu olaylardan haberi var mı( )
- Neden böyle şeyler hep benim başıma gelir anlamıyorum( )
- Hey( ) elektrik kaçağı var sakın oraya dokunma( )
- İzmir( )in boyozu( ) gevreği ve kumrusu meşhurdur( )
- Toplantı saat (2( )30( )da mı başlayacak( )
- Kerem eve girdi( ) ellerini yıkadı( ) kıyafetlerini değiştirdi( ) sofraya oturdu( )
- Yarışmada Şerife ( ( ) Sinem 2( ) İbrahim ise 3( ) oldu( )
- İlköğretim kelimesi il( )köğ( )re( )tim şeklinde mi hecelenir( )



**MATEMATİK**

50 ye yuvarlanan en küçük ve en büyük doğal sayıların toplamı kaçtır?



Simitçi tezgâhında 2 düzine simit vardı. Bir destesi satıldı. Tezgâhta kaç simit kaldı?



Bir bölme işleminde bölünen 36, bölen 9 ise bölüm kaçtır?



Bir çiftlikte 4 tavuk, 8 civciv, 2 köpek vardır. Çiftlikteki hayvanların ayak sayıları toplamı kaçtır?



**HAYAT BİLGİSİ**

Boşlukları doldurunuz.

- Türkiye Cumhuriyeti'nin başkenti .....'dır.
- Türkiye'nin ..... tane şehri vardır.
- Ülkemizin çevresinde 4 tane deniz vardır. Bunlar ....., ....., ..... ve ..... 'dir.

( 15 NİSAN 2022 – CUMA )

**TÜRKÇE**

Verilen kelimeleri hecelerine ayırınız.

- tatil : .....
- günaydın : .....
- simitçi : .....
- elbise : .....
- bilgisayar : .....
- uzunluk : .....
- ! • hanımeli : .....
- ! • kırkayak : .....
- ! • semizotu : .....
- ! • ilkokul : .....
- ! • kardanadam : .....

Yanlış yazılan kelimelerin doğrusunu yazınız.

- herkez : .....
- gaste : .....
- öretmen : .....
- sovan : .....
- sarmısak : .....
- tiren : .....
- sipor : .....
- şarz : .....
- kiprik : .....
- penbe : .....
- bütüm : .....

**MATEMATİK**

Eda ve L arkadaşı 20 kurabiyeyi eşit olarak paylaşıyor. Her birine kaç kurabiye düşer?

Bir çıkarma işleminde çıkan 2L, fark 18 ise, eksilen kaçtır?

7 onluk L birlik sayısı ile 5 onluk 8 birlik sayısının farkının, yarısı kaçtır?

6 yıl önce 2 yaşında olan Kemal, 5 yıl sonra kaç yaşında olur?

**HAYAT BİLGİSİ**

İstenenlere göre her bölüme ilgili taşıtları yazarak tabloyu tamamlayınız.

Kara Taşıtları	Deniz Taşıtları	Hava Taşıtları	Demiryolu Taşıtları
.....	.....	.....	.....
.....	.....	.....	.....
.....	.....	.....	.....
.....	.....	.....	.....