

MATEMATİK

Zaman Ölçme

Adı Soyadı: _____

Tarih: _____

1

Saat 12.30 'da başlayan tiyatro oyunu 1 saat 40 dakika sürdüğüne göre oyun bitince saat kaç gösterir?

2

Saat 21.30 'da uyuyan Asya, saat 7.30' da uyandığına göre Asya kaç saat uyumuştur?


3

Bir günde 2 bardak süt için Mesut, 3 haftada kaç bardak süt içmiş olur?

4

7:45

Verilen zamanı çizerek gösterelim.



5



Saatin okunuşunu yazalım.

6

Gösterilen zamanın okunuşunu yazalım.



7


Her hafta 3 kitap okuyan Mert, bir yılda kaç kitap okumuş olur?

8

Saat 8.30'da şurubunu içen Derin, 6 saat sonra tekrar şurup içecektir. Derin saat kaçta şurup içmelidir?

9

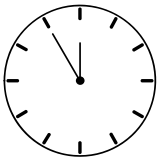
Saat öğleden sonra "ikiyi yirmi geçiyor" Verilen zamanı çizerek gösterelim.



10

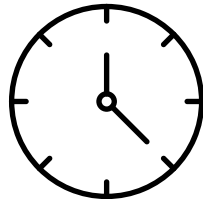
Bir saat otuz dakika sonra saat 15.30 olacaktır. Saat şimdi kaçtır?

11



Yukarıda gösterilen zamanın iki saat öncesi kaçtır?

12



Yukarıda gösterilen zamanın bir saat sonrası kaçtır?

13



Yukarıdaki saat kaç göstermektedir?

14

Her hafta 14 tane ekmek tüketen bir aile, bir yılda kaç ekmek tüketir?

15

Saat kaç göstermektedir?



.....