

ŞEKİL GRAFİĞİNİ ÖĞRENİYORUM

Bir sınıftaki öğrencilere en sevdikleri içecek türleri sorulmuş ve aşağıdaki yanıtlar alınmıştır.

Gazoz sevenler = 6
Ayran sevenler = 8
Kola sevenler = 5
Meyve suyu sevenler = 7

Yukarıdaki verileri kullanarak sıklık, çetele ve sütun grafiklerini oluşturup aşağıdaki soruları yanıtlayınız.

İÇECEK ADLARI	SIKLIK SAYISI

İÇECEK ADLARI	ÇETELE SAYISI

Aşağıdaki sütun grafiğini oluştururken her veri için 1 kare şeklini kullanınız.

8				
7				
6				
5				
4				
3				
2				
1				
İçecekler				
	Kola	Meyve suyu	Gazoz	Ayran

1. Sınıfta en az sevilen içecek hangisidir ?
.....
2. Sınıfta en çok sevilen içecek hangisidir?
.....
3. Kola ve gazoz sevenlerin toplamı kaçtır?
.....
4. Ayran ve meyve suyu sevenlerin farkı kaçtır?
.....
5. Sınıfta kaç kişi bulunmaktadır?
.....

Bir sınıftaki öğrencilere en sevdikleri çizgi filmler sorulmuş ve aşağıdaki yanıtlar alınmıştır.





Vikingler = 7
Keloğlan = 6
Nasreddin Hoca = 8
Rafadan Tayfa = 9

Yukarıdaki verileri kullanarak sıklık, çetele ve sütun grafiklerini oluşturup aşağıdaki soruları yanıtlayınız.

ÇİZGİ FİLM ADLARI	SIKLIK SAYISI

ÇİZGİ FİLM ADLARI	ÇETELE SAYISI

Aşağıdaki sütun grafiğini oluştururken her veri için 1 üçgen şeklini kullanınız.

9				
8				
7				
6				
5				
4				
3				
2				
1				
filmler				
	Keloğlan	Vikingler	Nasreddin Hoca	Rafadan Tayfa

1. En çok sevilen çizgi filmin adı nedir ?
.....
2. En az sevilen çizgi filmin adı nedir ?
.....
3. Keloğlan ve Vikingler sevenlerin toplamı kaçtır?
.....
4. Sınıfta toplam kaç kişi bulunmaktadır?
.....