


2.SINIF MATEMATİK NESNE SAYISINI BULMA

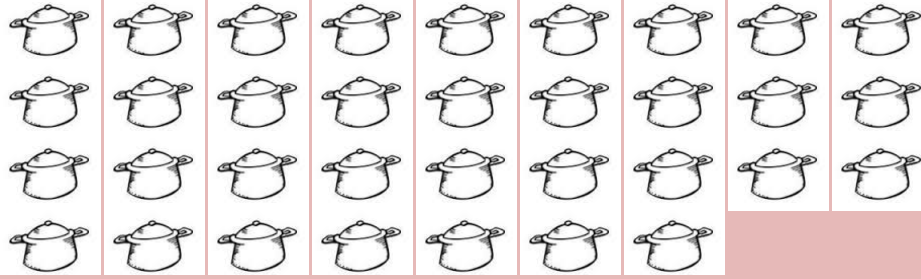
- Sayıları ifade etmeye yarayan işaretlere **rakam** denir.
- Rakamların bir araya gelmesiyle **sayılar** oluşur. Nesnelerin sayarken sayıları kullanırız.

- Aşağıdaki varlıkları sayarak kaç tane olduklarını yanlarına sayı ve yazıyla yazınız.




Sayıyla:.....

Yazıyla:.....



Sayıyla:.....

Yazıyla:.....



Sayıyla:.....

Yazıyla:.....

2.SINIF MATEMATİK NESNE SAYISINI BULMA

- Aşağıdaki ağaçlarda bulunan meyve sayısı ile ilgili verilen bilgilerin doğru olanlarının başına (D) yanlış olanlarının başına (Y) yazınız.




- () Elma ağacında 29 adet elma vardır.
- () Limon ağacında 19 adet limon vardır.
- () Portakal ağacında 22 adet portakal vardır.
- () Elmaların sayısı portakallardan fazladır.
- () Üç ağaçta toplam 67 adet meyve vardır.

- Aşağıda verilen şekillerin, 1 onluk 2 birlik kadarını yuvarlak içine alınız.



- Aşağıda verilen şekillerin, vücudumuzda bulunan parmak sayımız kadarını sarı renge boyayınız.



2.SINIF MATEMATİK NESNE SAYISINI BULMA

- Aşağıda belirtilen alana "Yarın okul açılacağı için çok heyecanlıyım." Cümlesindeki harf sayısı kadar çiçek çiziniz.

- Aşağıda belirtilen alana 2 şer 2 şer sayarken söylediğimiz 12.sayı kadar top çiziniz.

2/A sınıfında 12 kız, 15 tane erkek öğrenci vardır. Bu sınıfın mevcudu kadar yıldız boyayınız.

