

## ÇIKARMA İŞLEMİ DEĞERLENDİRME TESTİ

1. Sınıftaki 16 öğrencinin önce 5' i , sonra da 7 ' si teneffüse çıktı. Sınıfta kaç öğrenci kalır?

- a) 4                      b) 5                      c) 0

2. Cebimdeki 7 liranın bir kısmı ile dondurma aldım. Cebimde 3 liram kaldığına göre, dondurma için kaç liramı harcamış oldum?

- a) 5                      b) 4                      c) 3

3. Eyüp 9 yaşındadır. Kardeşi, Eyüp' ten 7 yaş küçük olduğuna göre kaç yaşında olabilir?

- a) 1                      b) 2                      c) 3

4. " 3 " sayısı , " 11 " sayısından kaç eksiktir?

- a) 8                      b) 4                      c) 6

5. Yuvadaki 8 kuşun 2 tanesi uçup giderse, geriye yuvada kaç kuş kalır?

- a) 1                      b) 3                      c) 6

6. Babam, kümesteki 13 tavuğun 9 tanesini sattı. Geriye kaç tavuğumuz kalır?

- a) 4                      b) 7                      c) 2

7. " 15 ' ten.....çıkarsa sonuç 10 olur. " cümlesinde noktalı olan yere hangi sayı gelmelidir?

- a) 5                      b) 7                      c) 4

8. Parkta oyun oynayan 20 çocuktan 8 tanesi evine gitti. Geriye parkta oynayan kaç çocuk kalır?

- a) 9                      b) 11                      c) 12

9. Sepette 11 armut, 9 elma vardır. Sepetteki armutlar, elmalardan kaç tane fazladır?

- a) 3                      b) 2                      c) 1

10. Ada'nın 17 kalemi vardı. 8 tanesini arkadaşı Bade'ye verdi. Ada'nın geriye kaç kalemi kalır?

- a) 9                      b) 5                      c) 10

11. 16 ile 9 'un farkı kaçtır?

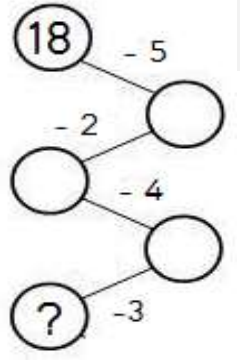
- a) 9                      b) 8                      c) 7

12. Yandaki şekle göre, " ? " yerine hangi sayı yazılmalıdır?

a) 3

b) 4

c) 5



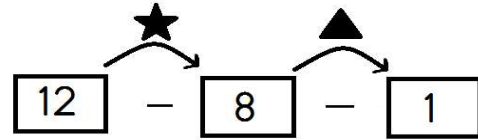
$$15 - 6 = 8$$

$$10 - 3 = 4 \qquad 9 - 6 = 3$$

D                      Y                      D                      Y  
Ceylin                      Cenk                      Beyza                      Erer

13. Tablodaki çıkarma işlemleri doğru veya yanlış olarak takip edilirse, hangi isme ulaşılır?

- a) Cenk                      b) Beyza                      c) Ceylin



14. Yukarıdaki çıkarma işlemlerinde sembol ile gösterilen yerlere hangi sayılar yazılmalıdır?

- a) 

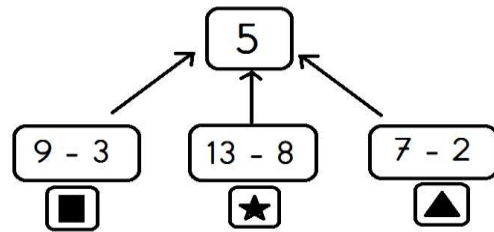
★	5
▲	3

                      b) 

★	6
▲	2

                      c) 

★	4
▲	7



15. Şekle göre hangi sembolle gösterilen işlemin sonucu yukarıdaki sayıyı vermez?

- a) ▲                      b) ■                      c) ★

16. "?" yerine hangisi gelmelidir?

- a) 

•	•
---	---

                      b) 

•	•	•
---	---	---

                      c) 

•	•	•	•
---	---	---	---

