



2021 / 2022 EĞİTİM ÖĞRETİM YILI İLKOKULU
4/..... SINIFI FEN BİLİMLERİ DERSİ 1.DÖNEM 1.YAZILI

ADI SOYADI:

ALDIĞI PUAN:

1- Aşağıdaki boşlukları verilen sözcüklerden uygun olanıyla doldurunuz. (2x10=20 puan)


maden	obezite	fosil	dönme	batıdan doğuya
mevsimler	yağlar	mineraller	yer kabuğu	paleontoloji

- a) Ekonomik değeri olan kayalara denir.
b) Milyonlarca yıl önce ölen canlı olan, bitki ve hayvanların taşlaşmış kalıntılarına denir.
c) Dünya kendi eksenini etrafında doğru döner.
d) Kayaların rengini ve yapısını belirler.
e) İnsanların ve canlıların üzerinde yaşadığı yere denir.
f) Dünya kendi etrafında hareketi yapar.
g) Dünya'nın Güneş etrafında dolanması sonucunda oluşur.
h) Karbonhidratların yeterli olmadığı durumlarda enerji ihtiyacımızıdan sağlarız.
i) Fosilleri inceleyen bilim dalına denir.
j) Karbonhidratlar fazla tüketilirseye sebep olur.

2- Aşağıda verilen ifadelerden doğru olanların başındaki paranteze «D», yanlış olanların başındaki paranteze «Y» harfi yazınız. (2x10=20 puan)

- () Fosil oluşumu milyonlarca yıl sürer.
() Katkı maddesi içeren besinler tüketmeliyiz.
() Dünya'nın dönme ve dolanma olmak üzere iki türlü hareketi vardır.
() Bütün kayaların rengi ve parlaklığı aynıdır.
() Sağlığımız için gerekli olan mineralleri sadece hayvansal gıdalardan alırız.
() Vücudumuzun büyüyüp gelişmesi, boyumuzun uzaması için gerekli olan besin içeriği proteinlerdir.
() Türkiye, dünyadaki bor rezervlerinin yüzde yetmişine sahiptir.
() Tüm besinlerde mutlaka su ve mineral bulunur.
() Temizlik ürünlerinde ve roket yakıtlarında altın bulunur.
() Vitaminleri yeteri kadar almazsak vücudumuzun direnci azalır ve çabuk hastalanırız.

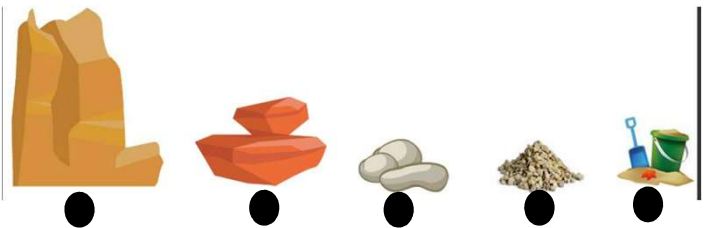
3- Aşağıdaki şekli inceleyiniz soruları uygun harfleri yazarak cevaplayınız. (2x4= 8 puan)



a) Hangi nokta veya noktalarda gündüz yaşanır?

b) Hangi nokta veya noktalarda gece yaşanır?

4- Verilen görsellerle isimlerini eşleştiriniz.(5 puan)



Çakıl Kayaç Kum Kaya Taş

5- Aşağıdaki besin gruplarını, yapısında bulunan uygun besin içeriği ile eşleştiriniz.(5x2=10 puan)

	Bulunduğu besinler
1	Ekmek-şeker-makarna
2	Et-süt-yumurta-nohut-mercimek
3	Ayçiçeği-fındık-zeytin-balık-tereyağı
4	Yiyeceklerin hepsinde
5	Elma,portakal,mandalina

	Besin içeriğinin adı
	Proteinler
	Vitaminler
	Karbonhidratlar
	Su ve mineraller
	Yağlar

6- Kullanım alanları verilen madenlerin isimlerini yanlarındaki kutucuklara yazınız. (5x2= 10 puan)

altın

bor

demir

mermer

bakır

İnşaatlarda, heykeltçilikte ve mutfak tezgâhı yapımında kullanılır.

Elektrik kablolarında, madeni paraların yapımında kullanılır.

Temizlik ürünlerinin yapımında ve uçak yakıtlarında yararlanır.

Otomobil yapımında ve inşaatlarda kullanılır.

Takı ,kuyumculuk ve süs eşyası olarak kullanılır.

7- Görsellerdeki besinleri inceleyiniz. Hayvansal besin olanların altına «hayvansal» , bitkisel besin olanların altına «bitkisel» yazınız. (4x2= 8 puan)



8- Besinleri satın alırken nelere dikkat etmemiz gereken kurallardan iki tanesini aşağıya yazınız. (2x3= 6 puan)

a)

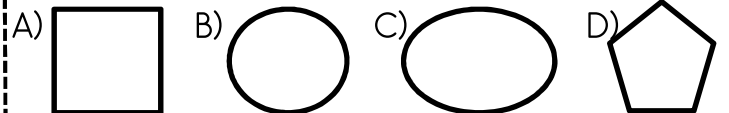
.....

b)

.....

Aşağıdaki çoktan seçmeli soruları cevaplayınız.

9- Aşağıdaki şekillerin hangisi Dünya'nın Güneş etrafında dolanırken çizdiği yörüngeye benzer? (3 puan)



10- *MINERALLER – VİTAMİN – SU*

Yukarıda verilen besin içeriklerinin ortak özelliği hangi seçenekte verilmiştir? (5 puan)

- A) Enerji verici olmaları
B) Yapıcı ve onarıcı olmaları
C) Soğuktan korumaları
D) Düzenleyici olmaları

11- Yeşim sokakta oynarken düştü ve kolunu kırdı. Kolunun en kısa sürede iyileşmesini isteyen Yeşim hangi besin içeriğini daha çok tüketmelidir?(5 puan)

- A)Vitamin
C)Yağ
B) Karbonhidrat
D) Protein

SİZİN BAŞARINIZ BENİM MUTLULUĞUMDUR.

Başarılar