

1.

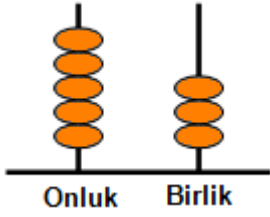


| Basamak Adı | Onlar Basamağı | Birler Basamağı |
|------------------------|----------------|-----------------|
| Rakamın Basamak Değeri | ? | 4 |
| Sayı | 64 | |

Tabloda "?" ile gösterilen yere aşağıdakilerden hangisi yazılmalıdır?

- A) 40 B) 6 C) 60

2. Aşağıdaki abaküste gösterilmek istenen sayı "83" olduğuna göre onluk bölümüne kaç boncuk daha konulmalıdır?



- A) 5 B) 3 C) 80



3. 100 den geriye doğru ikiye ritmik sayma yapan Ali Mete, 46 'dan sonra söylediği sayı ile 32 'den önce söylediği sayı hangi seçenekte doğru verilmiştir?

- A)44-34 B)48-30 C)46-30



4. İleriye doğru dörder ritmik sayma yapmak isteyen Pelin Ada, 47 ile 49 arasındaki sayıdan başlayarak sayma yaparsa 4. sırada hangi sayıyı söyler?

- A) 60 B) 62 C) 66



5. Çınar ile Eylül bahçelerindeki elmaları topluyorlar.

Çınar ikiye ikiye sayarken 34'ten sonraki sayı kadar elma, Eylül ise üçer üçer sayarken 45' ten sonraki sayı kadar elma topluyor.

Buna göre Eylül, Çınar'dan kaç tane fazla elma toplamıştır?

- A) 10 B)12 C)14

6.



Yukarıdaki sayı örüntüsünde "?" yerine gelecek olan sayının yarım düzine fazlası kaçtır?

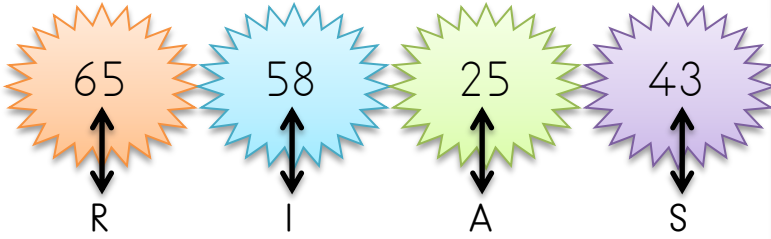
- A) 70 B) 68 C) 64



Yukarıdaki ifadenin doğru olabilmesi için yerine yazılabilecek en küçük sayının bir deste fazlası kaçtır?

- A) 47 B) 48 C) 49

8.



Yukarıdaki sayılar harflerle eşleştirilmiştir. Sayılar küçükten büyüğe doğru sıralandığında hangi sözcük oluşur?

- A) SIRA B) ASIR C) SARI

9.



Beş desteye yuvarlanabilen en büyük sayı ile dört desteye yuvarlanabilen en küçük sayı hangi seçenekte beraber verilmiştir?

- A) 54-35 B) 49-39 C) 45-44

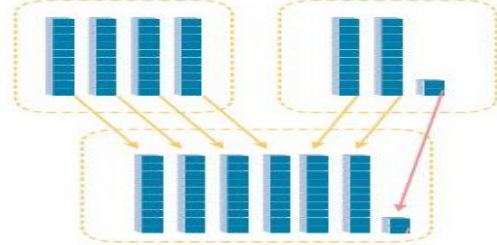
10.



73, 48, 74, 65 sayılarının en yakın onluklara yuvarlanışları sırasıyla hangisinde verilmiştir?

- A) 70-50-80-70
B) 70-40-70-60
C) 70-50-70-70

11.



Yukarıda modellerle gösterilen işlem aşağıdakilerden hangisidir?

- A) $40 + 21 = 61$
B) $41 + 20 = 61$
C) $40 - 21 = 19$

12.

| | |
|---|-----------|
| 1 | $45 + 24$ |
| 2 | $18 + 61$ |
| 3 | $37 + 41$ |

Yukarıdaki işlemlerden hangisinin sonucu diğerlerinden büyüktür?

- A) 1 B) 2 C) 3