

2021 -2022 EĞİTİM ÖĞRETİM YILI
FEN BİLİMLERİ DERSİ 1 .DÖNEM 1 .YAZILI SINAVI

Ad ve Soyad:

Sınıf ve Numara:

Aldığı Puan:

A Aşağıdaki cümlelerdeki boşlukları, verilen kelimelerden doğru olanları ile doldurunuz.

(5 x 4 = 20 puan)

365 gün	dolanma hareketi	24 saat
dönme hareketi	yörünge	gece gündüz

- Dünya'nın kendi etrafında yaptığı harekete denir.
- Dünya'nın Güneş'in etrafında yaptığı harekete denir.
- Dünya'nın Güneş'in etrafında dönmesi sürer.
- Dünya'nın kendi etrafında dönmesi sürer.
- Dünya'nın Güneş'in etrafında dolanırken izlediği yola denir.

B Aşağıdaki cümleleri okuyun. Doğru olanların başına **D**, yanlış olanların başına **Y** yazınız.

(10 x 4 = 40 puan)

(...) Taş, toprak ve kaya gibi maddelerden oluşan kara parçasına yer kabuğu denir.

(...) Değerli kayalara maden denir.

(...) Ülkemizde bor madeni çokça bulunmaktadır.

(...) Fosiller birkaç yılda oluşabilir.

(...) Sadece hayvanların fosili olur.

(...) Altın, demir ve bakır birer madendir.

(...) Fosiller bize geçmiş dönemler hakkında bilgi verebilir.

(...) Dünya'nın tek bir hareketi vardır.

(...) Karbonhidratlar bize enerji verir.

(...) Tüm besinlerin içinde su bulunur.

C Aşağıdaki soruları cevaplayınız

(8 x 5 = 40 puan)

1) Aşağıdakilerden hangisi yanlıştır?

A) Ay, Dünya'nın uydusudur.

B) Güneş, Dünya'nın etrafında dönmez.

C) Dünya'nın iki türlü hareketi vardır.

D) Dünya'nın en kısa dönüşü 365 gün sürer.



2)

Eylül, kumsalda oyun oynarken kuma bir çubuk batırmıştır. Eylül, gün içinde çubuğun gölge boyunun değiştiğini gözlemlemiştir.

Yukarıdaki Eylül'ün gözlemlediği olayın nedeni aşağıdakilerden hangisidir?

A) Güneş'in doğudan doğması.

B) Dünya'nın dönme hareketi.

C) Dünya'nın dolanma hareketi.

D) Ay tutulması.

- 3) ★ Mevsimler oluşur.
■ Bir yıl oluşur.
● Gece ve gündüz oluşur.
▲ Gün içinde gölge boyları değişir.


Yukarıdaki verilenlerden hangileri Dünya'nın dolanma hareketi sonucu oluşur?

- A) ★ , ■ B) ■ , ●
C) ★ , ▲ D) ● , ▲

- 4) Protein Enerji verici
Karbonhidrat Yapıcı - onarıcı
Vitamin Düzenleyici

Yukarıda besin içerikleri ve görevleri eşleştirildiğinde aşağıdakilerden hangisi oluşur?





- A)  B)  C)  D) 

- 5)  Sabah kahvaltımı protein ağırlıklı yapıyorum.

Aşağıdakilerden hangisi Ahmet'in kahvaltısı olabilir?

- A) Meyve suyu - kek
B) Çay - domates - peynir
C) Süt - peynir - yumurta
D) Ekmek - yumurta

- 6) Aşağıdaki besin gruplarından hangisinde en fazla su bulunur?

- A)  B) 
C)  D) 

- 7) Kağan tüm gün spor yapacak ve antremana gidecek. Buna göre Kağan vücudu için gerekli enerjiyi karşılamak için aşağıdakiler besin gruplarından hangisini tercih etmelidir?

- A) Protein ve Mineral
B) Karbonhidrat ve Yağ
C) Vitamin ve Protein
D) Yağ ve Su

- 8) Aşağıdaki besin içerikleri ile yiyecekler eşleştirilmiştir. Hangi seçenekte yanlış bir eşleştirme yapılmıştır?

- A) Makarna - Protein
B) Elma - Vitamin
C) Zeytin - Yağ
D) Simit - Karbonhidrat