






1- Yandaki görseldeki yaya geçidi aşağıdaki çizgi modellerinden hangisine örnektir?

- A) Doğru parçası
- B) Doğru
- C) Işın

2- Aşağıdakilerden hangisi ışın modeline örnektir?

- A) 
- B) 
- C) 

3- Aşağıda verilen bilgilerden yanlış olanı işaretleyelim.

- A) Şerit metre doğruya örnektir.
- B) Her iki ucundan çekilen lastik doğruya örnektir.
- C) Yanan bir mum ışın modeline örnektir.


4- 'Başlangıç ve bitiş noktası belli olan çizgi modelleridir'.

Yukarıda tanımı verilen çizgi modeline aşağıdakilerden hangisi örnek verilemez?

- A) Soba borusu
- B) Cetvel
- C) El feneri

5- Nokta ile ilgili verilen bilgilerden hangisi yanlıştır?

- A) Nokta küçük harfler gösterilir.
- B) Kalemın kâğıt üzerinde bıraktığı iz nokta olarak belirtilir.
- C) Nokta büyük harfle gösterilir.



6- Yukarıdaki görsellerin kaç tanesi ışına örnektir?

- A) 2
- B) 3
- C) 4

7-



Merdiven aşağıdaki görsellerden hangisinin örneğidir?

- A) Doğru
- B) Işın
- C) Doğru parçası

8- A  B

Yukarıdaki görselin adı aşağıdakilerden hangisidir?

- A) A ışını
- B) AB doğru parçası
- C) AB doğrusu

H C E

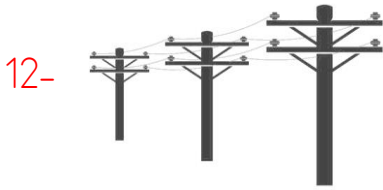
9- Yukarıdaki harflerden hangisinde hem yatay hem de dikey doğru örneği yoktur?
A) H B) C C) E

10- **KALEM** kelimesinde kaç tane eğik doğru vardır?
A) 6 B) 7 C) 8





Yandaki minare görseli aşağıdakilerden hangisine örnek verilebilir?

- A) Doğru
B) Doğru parçası
C) Işın



Yukarıdaki görsel için aşağıdakilerden hangisi söylenebilir?

- A) İki ucu kapalı olduğu için doğru parçasıdır.
B) Bir ucu açık bir ucu kapalı ışın örneğidir.
C) İki ucu açık doğru örneğidir.




13- A  B
C  D

Yukarıda verilen AB ve CD doğruları için aşağıdaki ifadelerden hangisi söylenebilir?

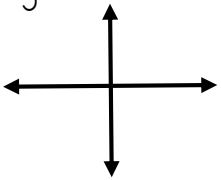

- A) AB ve CD doğruları kesişen doğrulara örnektir.
B) AB ve CD birbirine paralel iki doğrudur.
C) AB ve CD dik doğrulardır.



Yandaki görseldeki itfaiyecinin su hortumunu çekmesi aşağıdaki çizgi modellerinden hangisine örnektir?

- A) 
B) 
C) 

15- Aşağıda hangi seçenekte verilen doğrular dik doğrulardır.

- A) 
B) 
C) 