







Yönergelere göre çalışmayı tamamlayalım.

<p>Sayının okunuşunu yaz.</p>	<p>2 590</p>	<p>8743</p>	<p>100236</p>
<p>Basamak adlarını yaz.</p>	<p>3095</p> 	<p>189432</p> 	<p>368982</p> 
<p>Basamak değerlerini yaz.</p>	<p>368982</p> 	<p>189432</p> 	<p>743669</p> 
<p>Sayıyı çözümler.</p>	<p>34820</p> <p>Üç on binlik +</p> <p>+ +</p> <p>+</p>	<p>98809</p>	<p>529010</p>
<p>Verilen rakamlarla yazılan en büyük sayıyı oluştur.</p>	<p>6-5-1-9</p>	<p>9-4-2-7-8</p>	<p>6-2-5-9-3-0</p>
<p>Verilen rakamlarla yazılan en küçük sayıyı oluştur.</p>	<p>1-0-8-3</p>	<p>5-6-9-2-8</p>	<p>0-2-9-7-1-4</p>
<p>Şekillere karşılık gelen rakamları bul.</p>	<p>Dört bin sekiz yüz on iki</p> <p>4 ★ 1 ✱</p> <p>↓ ↓</p>	<p>Yirmi bin altı yüz kırk üç</p> <p>♥ 64 ☯</p> <p>↓ ↓ ↓</p>	<p>Dokuz yüz yetmiş dört bin on yedi</p> <p>9 ♣ ▲ ♠ 17</p> <p>↓ ↓ ↓</p>