
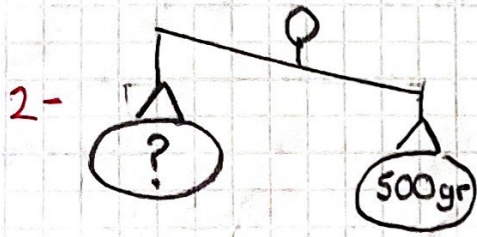


ELMALARI TARTALIM, PROBLEMİ YAPALIM

Sevgili çocuklar aşağıda bazı sorular hazırladım. Bunları çözebilmek için önce elmaların her birinin kütlesini bulmanız gerekir. Sonraki soruları bu değere göre çözeceksiniz.



Yandaki terazinin kolları eşit olduğuna göre elmaların her birinin kütlesi kaç gramdır?



Yandaki terazinin kollarının eşitlenmesi için kaç tane elma koymamız gerekir?



3- Bu manavdan aldığım bir tane elmayı, arkadaşım ile eşit paylaşırsam bana kaç gram elma düşer?



4- 5 tane elma 10 lira ediyor. Her bir elma kaç lira eder?



5- 15 kilogram elma olan 3 kasa elmanın 12 kilogramı satıldı. Kalan elmaların 7 kilogramı ile tatlı yapıldı. Kaç kg elma kaldı?




6- 3 kg elma ile, 15 elmali kurabiye yapiliyor.
Buna göre :

•• a) 6 kg elma ile kaç kurabiye yapılır?

• b) 1 kg elma ile kaç kurabiye yapılır?

• c) Kurabiyelerin tanesi 2 lira olduğuna göre,
2 kilo elmadan oluşan kurabiyelere kaç lira
ödemem gerekir?

7- Annem elma sirkesi yapmak için 21
kilogram elma aldı. Bu elmaların 3 kilogra-
mı şürüdü. Geriye kalan elmaları da iki
esit kaba koydu. Her kaptaki kaç kilogram
elma oldu?



8- Bir manavda her kasada 8 kg elma var.
Bu manavda, yan yana dizilmiş 5 kasa elma
var. Bu elmaların yarısını isteyen Ahmet Bey'e
manav kaç kg elma verir?



9- Yıldızlar Krez'inde her gün 3 kg elma tüketi-
liyor. 3 hafta boyunca kullanılan elma kaç
kg eder?

10- Kütlesi 100 gr olan her bir elmayı soyduğumda
20 gr kabuk çıkıyor. 500 gr elmadan kaç gram
kabuk çıkmıştır?