




T.C.
MİLLÎ EĞİTİM BAKANLIĞI
ÖLÇME, DEĞERLENDİRME VE SINAV HİZMETLERİ GENEL MÜDÜRLÜĞÜ

2. SINIF ÇALIŞMA YAPRAKLARI

HAYAT BİLGİSİ



1. Aşağıdaki boşluklara kendi özelliklerinizi yazın.

Göz rengim
.....

Ten rengim
.....

Boyum
.....

Saç rengim
.....

Kilom
.....

Fiziksel Özelliklerim

Hoşlandıklarım (İlgi Alanlarım)	Yapabildiklerim (Yeteneklerim)
.....
.....
.....
.....
.....



2. Aşağıda bir sınıfta yaşanan sorunlar sıralanmıştır. Daha iyi bir eğitim-öğretim ortamının olması için belirlenmesi gereken sınıf kurallarını verilen boşluklara yazın.

Sorun: Sınıfta yerlere çöp atılıyor.

Kural:

Sorun: Sınıfta çok gürültü oluyor.

Kural:

Sorun: Sınıf eşyaları özensiz kullanılıyor.

Kural:

Sorun: Ders zili çaldığı hâlde herkes ayakta dolaşıyor.


Kural:

Sorun: Sınıf çok havasız kalıyor.

Kural:

Sorun: Çocuklar sınıfta kovalamaca oynuyor.

Kural:



3.

Okul eşyalarını, kaynaklarını özenli ve tutumlu kullanmalıyız. Bu kaynakları bilinçli, özenli ve tutumlu kullanarak okulumuzu ve ülkemizi sevdiğimizi göstermeliyiz.

Aşağıda okul eşyalarına ve kaynaklarına ilişkin olduğu düşünülen konuşmalar verilmiştir. Bu konuşmalar ile eşyalar ve kaynakların adlarını eşleştirin.

Konuşmalar

Beni gereksiz yere açar sürekli kırarsan çabuk tükenirim.

Hava aydınlıkken açarsan gereksiz elektrik harcarım.


Üzerime yazı yazar, çizer yıpratırsan çabuk eskirim.

Kapatmayı unutursan boşa akar dururum.

Çok köpük olsun diye gereksiz harcarsan çabuk tükenirim.


Soğuk havalarda kapı ve pencereleri uzun süre açık tutarsan boşa yanmış olurum.

Eşyalar ve Kaynaklar





4. Arkadaşlarıyla oyun oynarken kurallara uymayan çocukların bulunduğu görsellerin altındaki kutucukları boyayın.





5. Aşağıda millî gün ve bayramlar ile ilgili açıklamalar verilmiştir. Millî bayramların üzerinde yazan rakamları kullanarak açıklamaların altındaki noktalı alanları tamamlayın.

1

30 Ağustos Zafer Bayramı

Türkiye Büyük Millet Meclisinin Cumhuriyet yönetimini ilan ettiği gün olan ve tüm yurttta coşkuyla kutlanan millî bayramımızdır.

.....

2

23 Nisan Ulusal Egemenlik ve Çocuk Bayramı

Atatürk'ün komutasında zaferle sonuçlanan Büyük Taarruz ve Başkomutanlık Meydan Muhaberesi'ni anmak için kutladığımız millî bayramımızdır.

.....

3

19 Mayıs Atatürk'ü Anma, Gençlik ve Spor Bayramı

Türkiye Cumhuriyeti'nin millî birlik ve bütünlüğüne karşı yapılan hain darbe girişiminin milletimizin cesareti ve dik duruşuyla engellendiği gündür.

.....

4

15 Temmuz Demokrasi ve Millî Birlik Günü

Ramazan ayının sonunda kutlanan üç günlük bayramdır.

.....

5

29 Ekim Cumhuriyet Bayramı

Türkiye Büyük Millet Meclisinin açıldığı gün olan ve Atatürk'ün tüm çocuklara armağan ettiği millî bayramımızdır.


.....

Atatürk'ün Kurtuluş Savaşı'nı başlatmak için Samsun'a çıktığı gün olan ve tüm yurttta coşkuyla kutlanan millî bayramımızdır.

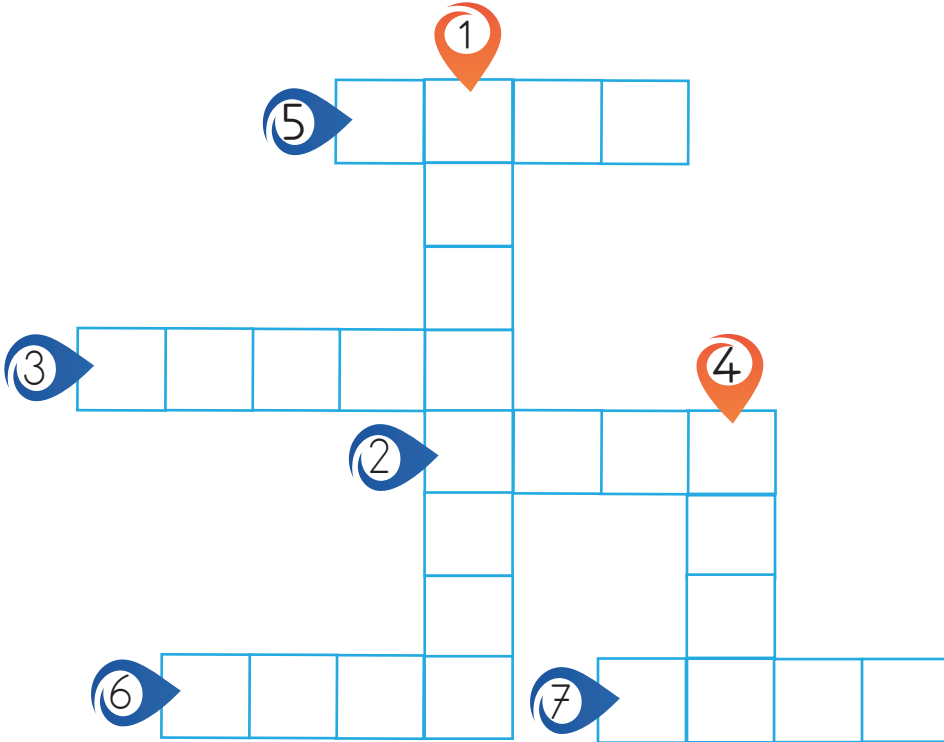
.....



6. Aşağıdaki soruların cevaplarını bulun. Bulmacayı tamamlayın.



1. Annemizin annesine ne deriz?
2. Babamızın erkek kardeşine ne deriz?
3. Annemizin kız kardeşine ne deriz?
4. Bizden büyük kız kardeşimize ne deriz?
5. Annemizin erkek kardeşine ne deriz?
6. Babamızın babasına ne deriz?
7. Babamızın kız kardeşine ne deriz?





7. Aşağıdaki cümleleri okuyun. Doğru olanların başındaki kutucuğa 😊, yanlış olanların başındaki kutucuğa ☹️ yapın.



Bayramlarda akrabalarımızı ziyaret ederiz.



Uzaktaki akrabalarımızla bağlarımızı koparabiliriz.



Akrabalarımızla zaman geçirmek bizi mutlu eder.



Sevgi, saygı, şefkat akrabaları bir arada tutan değerlerdir.



Düğün, cenaze, bayram gibi özel günlerde akrabalarımızla bir araya geliriz.



Akrabalarımızın zor günlerinde yanlarında olmamalıyız.






MUSTAFA KEMAL'İN ÇOCUKLUĐU

Türkiye Cumhuriyeti'nin kurucusu Mustafa Kemal Atatürk bin sekiz yüz seksen bir yılında Selanik'te üç katlı şirin bir evde doğdu. Babası Ali Rıza Efendi, annesi Zübeyde Hanım'dır.

Küçük Mustafa, mahalle mektebinde öğrenim hayatına başladı. Sonra babasının isteđiyle Şemsi Efendi Mektebine geçti. 7 yaşındayken babası Ali Rıza Efendi vefat etti. Bunun üzerine annesi Zübeyde Hanım ve kardeşi Makbule ile birlikte dayısı Hüseyin Efendi'nin yanına taşındılar. Burada dayısına tarla işlerinde yardım eden Mustafa bol bol kitap okuyarak kendini geliştirdi. Henüz çocuk yaşlarında asker olma hayalleri kurmaya başladı. Zübeyde Hanım ise askerlik mesleđini tehlikeli buluyor ve ođlunun memur olmasını istiyordu. Buna rağmen annesinden gizli sınava girdi ve askerî okulu kazandı.

Mustafa'nın üstün zekâsını ilk fark edenlerden biri matematik öğretmeni oldu. Öğretmeni "Senin de adın Mustafa, benim de adım Mustafa. Sana bundan sonra Mustafa Kemal diyelim." dedi. Böylece ortaokul döneminde adı "Mustafa Kemal" oldu.



Aşağıdaki soruları okuduğunuz metne göre cevaplayın.

1. Mustafa nerede doğdu?

.....

2. Zübeyde Hanım'ın tehlikeli bulduğu meslek nedir?

.....

3. Mustafa, öğrenim hayatına nerede başladı?

.....

4. Matematik öğretmeni Mustafa'ya hangi adı verdi?

.....

9. Aşağıdaki cümlelerden doğru olanlar için "D" bölümündeki harfi, yanlış olanlar için "Y" bölümündeki harfi işaretleyin. İşaretlediğiniz harfleri kutucuklara sırayla yazarak şifreyi bulun.

	D	Y
1. Ailede bütün bireylerin söz hakkı olmalıdır.	S	K
2. Karar alınırken farklı fikirlere saygı duyulmaz.	E	A
3. Ailede alınan kararlara herkes uymalıdır.	Y	R
4. Ailede karar alınırken herkesin fikri sorulmalıdır.	G	U
5. Ortak karar alınırken fikirlerimizi söylememiz gerekmez.	İ	İ

ŞİFRE: 1 2 3 4 5

○ ○ ○ ○ ○




10.

Sağlık ve güvenlik gibi acil durumlarda adresimize ihtiyaç duyarız. Yangın durumunda itfaiyeye, acil hastalık durumunda ambulansa, hırsızlık durumunda polise evimizin yerini bildirmek için adresimizi bilmeliyiz. Ayrıca okulda bazı formların doldurulması sırasında adresimizi bilmek bize kolaylık sağlar. Ancak adresimizi herkesle, özellikle tanımadığımız kişilerle paylaşmamalıyız.

Aile büyüklerinizden yardım alarak siz de ev adresinizi Özlem gibi aşağıdaki boş çerçeveye yazın.

Özlem




Evimizin adresi:
Atatürk Mahallesi, Çamlıca
Sokak, Varlık Apartmanı,
No:10/23 Gölbaşı / ANKARA

.....



















.....

.....

.....




11. Aşağıda evde tek başınıza yapabileceğiniz veya yapamayacağınız işler verilmiştir. Tek başına yapabileceğiniz işlerin bulunduğu ifadelerin karşısındaki kutucukları boyayın.


 Çalışma masamın üzerini toplayabilirim. 	<input type="checkbox"/>	
 Okul kıyafetlerimi ütüleyebilirim. 	<input type="checkbox"/>	
 Evdeki bozuk ampulleri değiştirebilirim. 	<input type="checkbox"/>	
 Ders programına uygun olarak çantamı hazırlayabilirim. 	<input type="checkbox"/>	
 Sabah kalktığımda yatağımı düzeltebilirim. 	<input type="checkbox"/>	
 Evdeki bozuk priz ve muslukları tamir edebilirim. 	<input type="checkbox"/>	
 Oyuncaklarımla oynadıktan sonra odamı toplayabilirim. 	<input type="checkbox"/>	
 Giysilerimi temiz ve düzenli tutabilirim. 	<input type="checkbox"/>	



12. Evdeki kaynakların tasarruflu kullanılmasına yönelik olarak aşağıdaki tabloda yer alan ifadelerden doğru olanların bulunduğu kutucuğu maviye, yanlış olanların bulunduğu kutucuğu kırmızıya boyayın.

<input type="checkbox"/>	Tabağımıza yiyeceğimiz kadar yemek almak
<input type="checkbox"/>	Kaynakları ihtiyacımız kadar kullanmak, gereksiz harcama yapmamak
<input type="checkbox"/>	Bayatlamış ekmekleri çöpe atmak
<input type="checkbox"/>	Akşam boş odanın lambasını açık bırakmak
<input type="checkbox"/>	Eve alınan gıdaları zamanında tüketmek
<input type="checkbox"/>	Klozetin düğmesine ihtiyaç olmadığı durumlarda basmak
<input type="checkbox"/>	Eşyalarımızı özenli kullanmak





13. Aşağıdaki çocukların konuşmalarını okuyun. Hangilerinin ihtiyaç hangilerinin istek olduğunu belirleyip oklarla eşleştirin.



Ceyda

Ayakkabım var ama Tuğçe'nin ayakkabısını çok beğendiğim için aynısından ben de istiyorum.



Tuğçe

Montum küçük geldiği için annemden yenisini almasını istedim.

İstek

İhtiyaç



Yiğit

Annemin kantinden süt ve simit almam için verdiği paraıyla çikolata aldım.



Cengiz

Kırılan numaralı gözlüğümün yerine yenisini aldım.



14. Aşağıdaki bulmacada gizlenmiş yiyecek isimlerini bularak önce numaralanmış noktalı yerlere yazın. Sonra bu yiyeceklerle kahvaltı ve akşam yemeği menüleri oluşturun.



Z	A	Y	V	F	C	R	T	U	N
E	K	U	P	P	E	Y	N	İ	R
Y	E	M	B	Ç	U	C	F	M	M
T	S	U	A	O	Z	Ü	R	İ	E
İ	Z	R	L	R	A	İ	Ğ	T	Y
N	G	T	F	B	A	L	İ	K	V
Ü	S	A	L	A	T	A	O	İ	E



1).....

2).....

3).....

4).....

5).....

6).....

7).....

8).....

KAHVALTI MENÜSÜ

.....
.....
.....
.....

AKŞAM YEMEĞİ
MENÜSÜ

.....
.....
.....
.....



15. Aşağıda yemek yerken uyulması gereken görgü kurallarıyla ilgili bir metin verilmiştir. Metni okuyup soruları cevaplayın.



2. sınıf öğrencilerinden Merve ve Mehmet kardeşlerdir. Merve ve Mehmet, okul sonrası evde bir saat kadar dinlendi. Akşam yemeğinde anneleri sofrayı kurmak için Merve ve Mehmet'ten yardım istedi. Merve ve Mehmet annesine sofrayı kurmada yardımcı oldu. Sofraya oturmadan önce Merve ellerini yıkadı. Mehmet ellerini yıkamayı unuttu ve hızlı yemek yediği için üzerine döktü. Merve ve Mehmet annelerine güzel yemekler için teşekkür edip sofradan kalktı. İki çocuk da yemek sonrası ellerini yıkamayı unutup oyun oynamaya daldı.

Merve ve Mehmet'in doğru davranışlarını yazın.

1.
2.
3.

Merve ve Mehmet'in yanlış davranışlarını yazın.

1.
2.
3.



16. Aşağıdaki ifadelerden doğru olanların başına "D", yanlış olanların başına "Y" yazın.

Mevsimi dışında yetiştirilen meyve ve sebzeler doğal olmayan bazı yöntemlerle ve tarım ilaçları kullanılarak yetiştirilmektedir.

Mevsiminde tükettiğimiz besinler mineral ve vitamin açısından daha zengindir.

Vücudumuza enerji veren besinlere en çok yaz mevsiminde ihtiyaç duyarız.

Kış mevsiminde vücudumuzu serinletecek besinlere ihtiyaç duyarız.

Mevsiminde tüketilen yiyeceklerin besin değeri daha yüksektir.

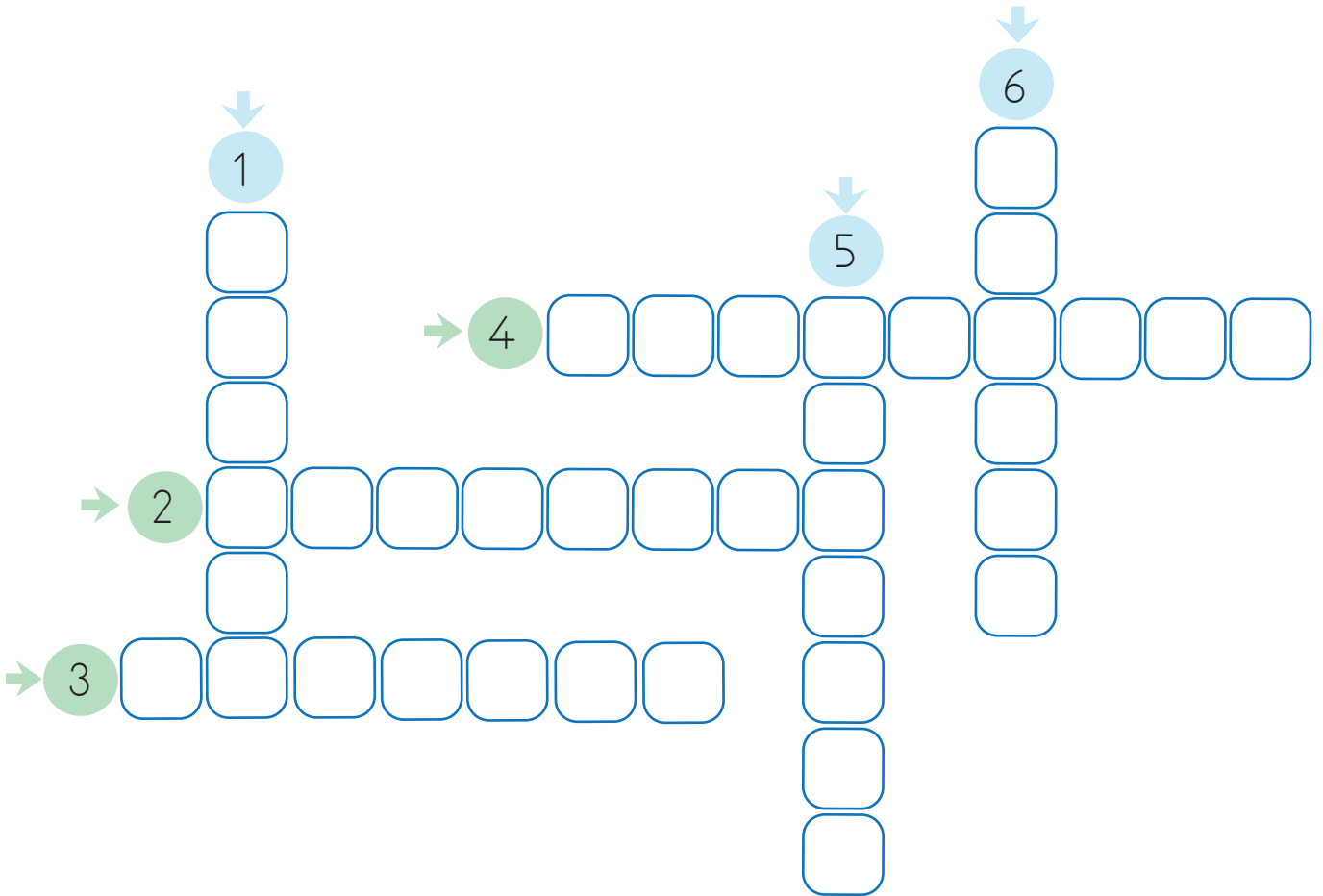




17. Aşağıda sağlıkla ilgili hizmet veren kurum ve mesleklerle ilgili ipuçları verilmiştir. Bu ipuçlarından yararlanarak bulmacadaki boşlukları doldurun.

- ↓
1. İlaçları satın aldığımız yer.
 5. Tedavi olduğumuz yer.
 6. Hastaları muayene eden kişi.

-
2. Acil hastaları taşıyan araç.
 3. Hastaların tedavisinde doktorlara yardımcı olan kişi.
 4. Dişlerin kontrolünü ve tedavisini yapan kişi.





18. Gün içinde giyeceğimiz kıyafetleri seçerken hava durumunu takip etmeli, mevsime göre giyinmeliyiz. Aşağıda mevsim şartlarına göre giyinmeyle ilgili verilen cümleleri uygun şekilde tamamlayın.

1- Sonbahar mevsiminde yağmur yağdığı için.....
.....giyerim.



2-için atkı, eldiven,
bere takarım.



3- İlkbahar mevsiminde hava ısınmaya başladığı için.....
..... giyerim.



4-açık renkli, ince
ve terletmeyen kıyafetler giyerim.





19. Aşağıda ulaşım araçlarının görselleri verilmiştir. Görsellerdeki ulaşım araçlarının isimlerini altlarında verilen boşluklara yazın. Sonrasında ulaşım araçlarını tablodaki boşluklara yazarak sınıflandırın.





Kara Yolu:

- 1).....
- 2).....
- 3).....

Deniz Yolu:


- 1).....
- 2).....
- 3).....


Hava Yolu:

- 1).....
- 2).....
- 3).....

Demir Yolu:

- 1).....
- 2).....
- 3).....





20. Aşağıdaki kutuların içinde verilen cümlelerden bazıları doğru, bazıları yanlıştır. Cümleleri okuyarak doğru veya yanlış olduğuna karar verin ve okları takip edin. Sonuçta ulaştığınız çıkışı işaretleyin.





CEVAPLAR

1. **NOT:** Her öğrenci sahip olduğu özelliklere uygun şekilde, anlamlı ifadeler kullanarak kendini tanıtır.

2. Kural 1- Yerlere çöp atılmaz.

Kural 2- Derste parmak kaldırarak söz istenir.

Kural 3- Sınıf eşyalarına zarar verilmez, çizip karalanmaz.

Kural 4- Ders zili çalınca herkes yerlerine oturur.

Kural 5- Teneffüslerde sınıf havalandırılır.

Kural 6- Sınıfta koşup oyun oynanmaz.

NOT: Öğrenci sınıfta yaşanan sorunlara yönelik uygun kurallar belirler. Bu kuralları anlamlı ve kurallı bir şekilde ifade eder.



3.

Konuşmalar

Eşyalar ve Kaynaklar

Beni gereksiz yere açar sürekli kırarsan çabuk tükenirim.


Hava aydınlıkken açarsan gereksiz elektrik harcarım.

Üzerime yazı yazar, çizer yıpratırsan çabuk eskirim.

Kapatmayı unutursan boşa akar dururum.


Çok köpük olsun diye gereksiz harcarsan çabuk tükenirim.

Soğuk havalarda kapı ve pencereleri uzun süre açık tutarsan boşa yanmış olurum.





4.



5.

1
30 Ağustos Zafer Bayramı

Türkiye Büyük Millet Meclisinin Cumhuriyet yönetimini ilan ettiği gün olan ve tüm yurttta coşkuyla kutlanan millî bayramımızdır.

5
.....

2
23 Nisan Ulusal Egemenlik ve Çocuk Bayramı

Atatürk'ün komutasında zaferle sonuçlanan Büyük Taarruz ve Başkomutanlık Meydan Muhaberesi'ni anmak için kutladığımız millî bayramımızdır.

1
.....

3
19 Mayıs Atatürk'ü Anma, Gençlik ve Spor Bayramı

Türkiye Cumhuriyeti'nin millî birlik ve bütünlüğüne karşı yapılan hain darbe girişiminin milletimizin cesareti ve dik duruşuyla engellendiği gündür.

4
.....

4
15 Temmuz Demokrasi ve Millî Birlik Günü

Ramazan ayının sonunda kutlanan üç günlük bayramdır.

.....

5
29 Ekim Cumhuriyet Bayramı

Türkiye Büyük Millet Meclisinin açıldığı gün olan ve Atatürk'ün tüm çocuklara armağan ettiği millî bayramımızdır.

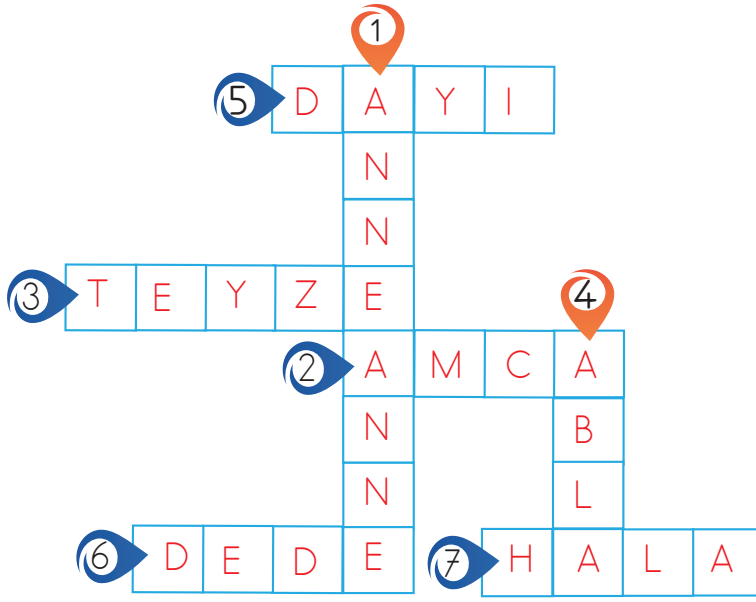
2
.....

Atatürk'ün Kurtuluş Savaşı'nı başlatmak için Samsun'a çıktığı gün olan ve tüm yurttta coşkuyla kutlanan millî bayramımızdır.


3
.....





6.





7.


 Bayramlarda akrabalarımızı ziyaret ederiz.


 Uzaktaki akrabalarımızla bağlarımızı koparabiliriz.


 Akrabalarımızla zaman geçirmek bizi mutlu eder.

 Sevgi, saygı, şefkat akrabaları bir arada tutan değerlerdir.

 Düğün, cenaze, bayram gibi özel günlerde akrabalarımızla bir araya geliriz.

 Akrabalarımızın zor günlerinde yanlarında olmamalıyız.





8. 1) Mustafa Selanik'te doğdu.
2) Zübeyde Hanım'ın tehlikeli bulduğu meslek, askerlik mesleğidir.
3) Mustafa, öğrenim hayatına mahalle mektebinde başladı.
4) Matematik öğretmeni Mustafa'ya "Kemal" adını verdi.

9.

	D	Y
1. Ailede bütün bireylerin söz hakkı olmalıdır.	<input checked="" type="radio"/>	<input type="radio"/>
2. Karar alınırken farklı fikirlere saygı duyulmaz.	<input type="radio"/>	<input checked="" type="radio"/>
3. Ailede alınan kararlara herkes uymalıdır.	<input checked="" type="radio"/>	<input type="radio"/>
4. Ailede karar alınırken herkesin fikri sorulmalıdır.	<input checked="" type="radio"/>	<input type="radio"/>
5. Ortak karar alınırken fikirlerimizi söylememiz gerekmez.	<input type="radio"/>	<input checked="" type="radio"/>

ŞİFRE: 1 2 3 4 5
 S A Y G İ

10. **NOT:** Öğrenci, adresini doğru şekilde yazar.



11.

<input checked="" type="checkbox"/>	Çalışma masamın üzerini toplayabilirim.	<input checked="" type="checkbox"/>	
<input type="checkbox"/>	Okul kıyafetlerimi ütüleyebilirim.	<input type="checkbox"/>	
<input type="checkbox"/>	Evdeki bozuk ampulleri değiştirebilirim.	<input type="checkbox"/>	
<input checked="" type="checkbox"/>	Ders programına uygun olarak çantamı hazırlayabilirim.	<input checked="" type="checkbox"/>	
<input checked="" type="checkbox"/>	Sabah kalktığımda yatağımı düzeltebilirim.	<input checked="" type="checkbox"/>	
<input type="checkbox"/>	Evdeki bozuk priz ve muslukları tamir edebilirim.	<input type="checkbox"/>	
<input checked="" type="checkbox"/>	Oyuncaklarımla oynadıktan sonra odamı toplayabilirim.	<input checked="" type="checkbox"/>	
<input checked="" type="checkbox"/>	Giyisilerimi temiz ve düzenli tutabilirim.	<input checked="" type="checkbox"/>	

12.

<input checked="" type="checkbox"/>	Tabağımıza yiyeceğimiz kadar yemek almak
<input checked="" type="checkbox"/>	Kaynakları ihtiyacımız kadar kullanmak, gereksiz harcama yapmamak
<input checked="" type="checkbox"/>	Bayatlamış ekmekleri çöpe atmak
<input checked="" type="checkbox"/>	Akşam boş odanın lambasını açık bırakmak
<input checked="" type="checkbox"/>	Eve alınan gıdaları zamanında tüketmek
<input checked="" type="checkbox"/>	Klozetin düğmesine ihtiyaç olmadığı durumlarda basmak
<input checked="" type="checkbox"/>	Eşyalarımızı özenli kullanmak

13.



Ceyda

Ayakkabım var ama Tuğçe'nin ayakkabısını çok beğendiğim için aynısından ben de istiyorum.



Tuğçe

Montum küçük geldiği için annemden yenisini almasını istedim.

İstek

İhtiyaç



Yiğit

Annemin kantinden süt ve simit almam için verdiği parayla çikolata aldım.



Cengiz

Kırılan numaralı gözlüğümün yerine yenisini aldım.



14.



Z	A	Y	V	F	C	R	T	U	N
E	K	U	P	P	E	Y	N	İ	R
Y	E	M	B	Ç	U	C	F	M	M
T	S	U	A	O	Z	Ü	R	İ	E
İ	Z	R	L	R	A	İ	Ğ	T	Y
N	G	T	F	B	A	L	İ	K	V
Ü	S	A	L	A	T	A	O	İ	E



- 1) Zeytin
- 2) Yumurta
- 3) Meyve
- 4) Balık
- 5) Bal
- 6) Salata
- 7) Corba
- 8) Peynir

KAHVALTI MENÜSÜ

..... Zeytin

..... Yumurta

..... Bal

..... Peynir

AKŞAM YEMEĞİ MENÜSÜ

..... Corba

..... Balık

..... Salata

..... Meyve

15. Merve ve Mehmet'in doğru davranışları:

1. Sofra kurmada annelerine yardım ettiler.
2. Merve, sofraya oturmadan önce ellerini yıkadı.
3. Annelerine güzel yemekler için teşekkür ettiler.



Merve ve Mehmet'in yanlış davranışları:

1. Mehmet'in ellerini yemekten önce yıkamaması.
2. Mehmet'in hızlı yemek yiyip üzerine dökmesi.
3. Yemekten sonra ellerini yıkamamaları.

16.


D Mevsimi dışında yetiştirilen meyve ve sebzeler doğal olmayan bazı yöntemlerle ve tarım ilaçları kullanılarak yetiştirilmektedir.

D Mevsiminde tükettiğimiz besinler mineral ve vitamin açısından daha zengindir.

Y Vücudumuza enerji veren besinlere en çok yaz mevsiminde ihtiyaç duyarız.

Y Kış mevsiminde vücudumuzu serinletecek besinlere ihtiyaç duyarız.

D Mevsiminde tüketilen yiyeceklerin besin değeri daha yüksektir.



17.

1
E
C
Z
2
A M B U L A N S
N
3
H E M Ş İ R E
4
D İ Ş H E K İ M İ
5
A
T
O
R
6
D
O
T
O
R
A
N
E



18. 1- Sonbahar mevsiminde yağmur yağdığı için **kalın olmayan uzun kollu kıyafetler** giyerim.
2- **Kışın kar yağdığı ve hava soğuduğu** için atkı, eldiven, bere takarım.
3- İlkbahar mevsiminde hava ısınmaya başladığı için **uzun kollu ince kıyafetler** giyerim.
4- **Yazın hava sıcak olduğu için** açık renkli, ince ve terletmeyen kıyafetler giyerim.

NOT: Verilen örnek cevaplar dışında mevsimine uygun şekilde giyinmeyle ilgili, anlamlı ve kurallı ifadeler içeren cevaplar da doğru olarak kabul edilir.

19.



Uçak



Otobüs



Metro



Helikopter



Balon



Feribot



Kayık



Vapur



Tramvay




Bisiklet



Otomobil



Tren



Kara Yolu:

- 1) **Otomobil**
- 2) **Bisiklet**
- 3) **Otobüs**

Deniz Yolu:

- 1) **Kayıt**
- 2) **Vapur**
- 3) **Feribot**

Hava Yolu:

- 1) **Uçak**
- 2) **Helikopter**
- 3) **Balon**

Demir Yolu:

- 1) **Tren**
- 2) **Tramvay**
- 3) **Metro**

20.

