

1)



Beş duyu organımızdan biridir. Sesleri duymamıza yardımcı olur.

Yukarıdaki bilgilere göre **doğru** seçenek hangisidir?

- A) Göz B) Burun C) Kulak


2)



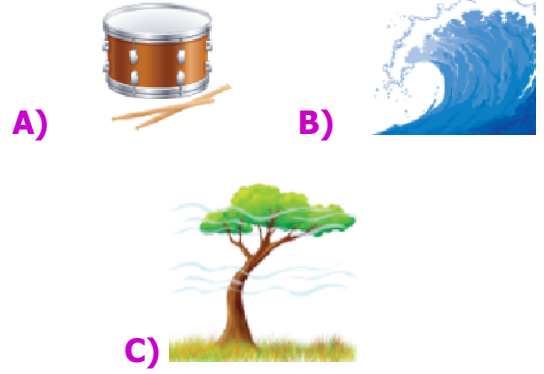
Yukarıdaki şemada ve semboller ile gösterilen yerlere hangi **ses kaynakları** gelmelidir?

- | | |
|---------------|-----------|
| | |
| A) Köpek Sesi | Kedi Sesi |
| B) Kuş Sesi | Saat Sesi |
| C) Kapı Sesi | İnek Sesi |


3) Aşağıdaki **görsellerden** hangisi **doğal** ses kaynağına örnektir?



4) Aşağıdaki **görsellerden** hangisi yapay ses kaynağıdır?



5) Aşağıdaki **ortamlardan** hangisinde **şiddetli sestem** insanlar rahatsız olurlar?




6)



Arkadaşlar, bazı sesleri insan kulağı duymaz.

Aşağıdaki **seçeneklerden** hangisi bu ifadeye örnek verebiliriz?



7)



Görselleri verilen **ses kaynaklarının** çıkardıkları seslerin **kaynağına göre** sınıflandırdığımızda hangi seçenek doğru olur?

	Doğal Ses	Yapay Ses
A)		ve
B)		ve
C)	ve	

8)



Aşağıdaki **seçeneklerden** hangisini bu **kamyon** ile taşıyamayız?

- A) Şelale Sesi
- B) Gök Gürültüsü Sesi
- C) Düdük Sesi

9)



Düdük Sesi

Arı Sesi

Rüzgar Sesi

Çocuklar **civciv** çok acıkmış.
Civcivimizin yemi **yapay sesin** yazılı olduğu yemdir.

Onu beslemek için hangi seçeneği seçmeliyiz?



A)



B)



C)

10)



Evimizin eksik tuğlasını yerine koyarsak hangi seçenek doğru olur?

A) Leylek Sesi

B) Gitar Sesi

C) Eşek Sesi

11)



Yukarıda verilen **görsel** ile ilgili ifadelerden hangisi yanlıştır?

- A) Sokak lambası yapay ışık kaynağıdır.
- B) Ay, doğal ışık kaynağıdır.
- C) Yıldızlar doğal ışık kaynağıdır.

12)

arttığını	azaldığını	çoğaldığını
-----------	------------	-------------

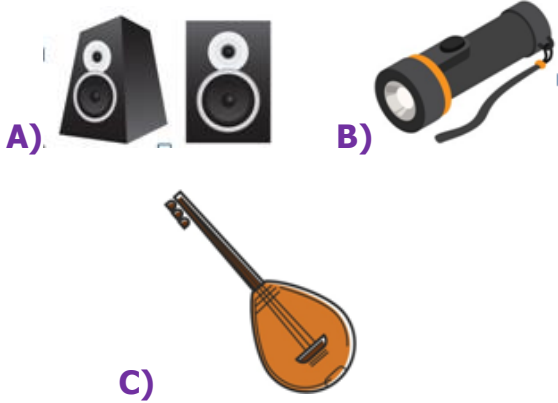


Sinan, konser alanından uzaklaştıkça müziğin sesinin şiddetinin giderek fark eder.

Yukarıdaki ifadeyi, kutucukların içindeki **hangi** kelimeyle tamamlarsak yanlış olmaz?

- A) arttığını B) çoğaldığını
C) azaldığını

13) Aşağıdaki **görsellerden** hangisi sesin şiddetini artırır?



14)

Yükses sesli ortamlar kulak sağlığımızı bozar.

(D)

(Y)

Bütün sesleri **kulağımızla** duyarız.

Uzaktan gelen **sesleri** daha iyi duyarız.

(D)

(Y)

(D)

(Y)



Yukarıdaki **ifadelere** göre hangi şekilden çıkmalıyız?

- A) B) C)

15)



Sinan



Sena



Serhat

Yukarıdaki **resimde** hangi çocuk **saatin alarm** sesini daha **şiddetli** duyar?

- A) Sinan
B) Serhat
C) Sena

16)

gürültü	dalga	hava	uzay	titreşim
----------------	--------------	-------------	-------------	-----------------

I) Ses halinde her yöne yayılır.

II) Düzensiz ve şiddetli seslere denir.

III) Ses sonucu oluşur.

IV) Sesler boşluğunda yayılmazlar.

Yukarıdaki ifadeleri **uygun kelimelerle** tamamladığımızda hangi kelime **dışarıda** kalır?

- A) dalga
B) uzay
C) hava

CEVAP ANAHTARI**1) C****2) C****3) B****4) A****5) C****6) A****7) B****8) C****9) A****10) B****11) B****12) C****13) A****14) A****15) A****16) C**