

MATEMATİK DEĞERLENDİRME



Sayıları yazmak için rakamları kullanırız.
Rakamlarımız 1, 2, 3, 4, 5, 6, 7, 8, 9, 0' dır.

Veli imza

1. Aşağıda rakamla verilen sayıların okunuşlarını karşlarına yazınız.

70 : 49 :

84 : 56 :

2. Aşağıda okunuşları verilen sayıları karşlarına rakamla yazınız.

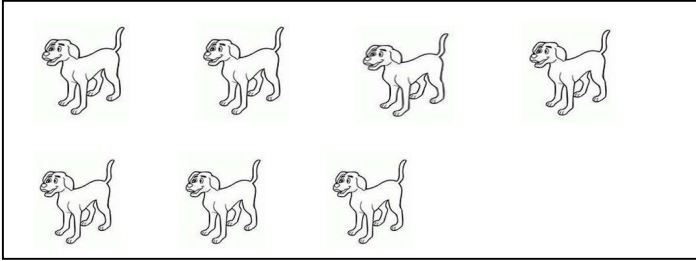
Kırk beş :

Seksen dört :

Doksan sekiz :




Altmış dokuz :

3.



Köpeklerin ayak sayısını gösteren sayıyı yazalım.

Cevap :

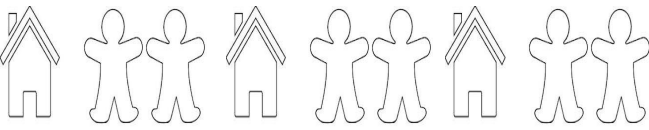
4. 17-18-19-    -23-24 ritmik saymaya göre eşleştirmelerden hangisi yanlıştır?

 --20

 --25

 --22

5.



Örüntünün kuralı nedir?

Kural :

6. Aşağıdaki boşlukları tamamlayınız.


18= onluk + birlik

1 onluk + 3 birlik =

11= onluk + birlik

1 onluk + 7 birlik =


7.



Örüntünün kuralı nedir?

Kural :


8.



Kuşların bir onluk olması için kaç kuşun daha katılması gerekir?

Cevap =


9.



Simitçi simitlerin 5 tanesini sattı. Geriye kaç simidi kaldı?

Cevap =

10.





Elmaları onluk ve birliklerine ayırın.

Cevap = onluk + birlik

11. Aşağıdaki nesne gruplarından hangisinin birlik sayısı daha fazladır?



12. Nesnelerin sıralarını sıra bildiren sayılarla söyleriz. Sıra bildiren sayıyı yazarken sayının yanına nokta (.) koyarız. Gergedan yarış 3. sırada sürdürmektedir. Diğer hayvanların kaçınıcı sırada olduklarını siz yazın.



BITİŞ

Gergedan = 3.

Tırtıl = ...

Horoz = ...

Tavşan = ...

Aslan = ...

Fil = ...

13. 7 tane cevizi olan kardeşime 6 ceviz verirsem kaç cevizi olur?



14. Yumurta kolisinde 12 yumurta vardı. Annem kahvaltıda 5 yumurta kırıdığına göre kaç yumurta kalmıştır?

