

ADI SOYADI :	TARİH : 09.09.2021
--------------	--------------------

A. Dikte Çalışması

- 1.....
- 2.....
- 3.....
- 4.....

B. Kurallı Cümleler Yazalım :

5. yüzdü / aylin / denizde / bugün

.....

6. çok/ okulu/ ben / özledim

.....

7. tiyatroya / ile / gittim / Mehmet / bugün

.....

C. Aşağıdaki sözcüklerin zıt anlamlılarını karşılarına yazınız.

yüksek:.....

az:.....

soğuk:.....

büyük:.....

kısa:.....

yeni:.....

D. Aşağıdaki kelimeleri hecelerine ayırınız ?

Kitaplık -----> ki - tap- lık ----- 3 hece 8 harf

Gazeteci -----> -----

Kütüphane-----> -----

Alışveriş -----> -----

E. Uygun noktalama işaretlerini yerleştiriniz ?

- * Defter () kalem () silgi aldım ()
- * Yeter artık ()
- * Bugün biize teyzemler mi gelecek ()
- * Kalemim nerede ()
- * Karnım acıktı ()

F. Hataları düzeltip yeniden yazınız ?

- ali ve ayşe bugün kız kulesine gittiler

.....

- babam bana küçük prens kitabını verdi

.....

- dayım ankaradan bana tablet almış

.....

G. Dağlar ardında bir orman varmış. Orda bir eşek, bir köpek, bir kedi bir de horoz yaşarmış. Bu hayvanların en önemli özellikleri hepsinin seslerinin çok güzel olmasıymış. Bir gün bu dört hayvan tren yolculuğu yapmak istemişler. Tekir isimli trene binen bu dört arkadaş Ankara'ya gidip çok ünlü birer sanatçı olmuşlar.

SORU: Dağlar ardında yaşayan hayvanlar hangileriymiş?

CEVAP:.....

SORU: Dört arkadaşın en önemli özelliği neymiş?

CEVAP:.....

SORU: Hikayede geçen trenin adı nedir?

CEVAP:.....

SORU: Bu dört arkadaş trenle nereye gitmiştir?

CEVAP:.....

ADI SOYADI :

TARİH : 09.09.2021

A - Aşağıdaki ritmik saymaları yapınız

- 1- 2 - -20
→ 20- 19 -0
→ 5 -10 -50
→ 2- 4- 6-20

B- Aşağıdaki sayıların okunuşlarını yazınız

- 51 → Elli bir
63 → yetmiş beş → 7
75 → on iki →
96 → dokuz →
seksen dört →

C- Aşağıdaki sayıları onluk birliğine ayırınız

- 2 onluk 4 birlik → 24
5 onluk 0 birlik →
4 onluk 3 birlik →
6 onluk 6 birlik →
1 onluk 4 birlik →
8 birlik 4 onluk →

D- Aşağıdaki toplama işlemlerini yapınız

$$\begin{array}{r} 5 \\ + 4 \\ \hline \end{array} \quad \begin{array}{r} 6 \\ + 3 \\ \hline \end{array} \quad \begin{array}{r} 14 \\ + 5 \\ \hline \end{array} \quad \begin{array}{r} 12 \\ + 7 \\ \hline \end{array} \quad \begin{array}{r} 10 \\ + 3 \\ \hline \end{array}$$

E - Aşağıdaki çıkarma işlemlerini yapınız.

$$\begin{array}{r} 8 \\ - 3 \\ \hline \end{array} \quad \begin{array}{r} 9 \\ - 2 \\ \hline \end{array} \quad \begin{array}{r} 10 \\ - 6 \\ \hline \end{array} \quad \begin{array}{r} 14 \\ - 4 \\ \hline \end{array} \quad \begin{array}{r} 12 \\ - 0 \\ \hline \end{array}$$

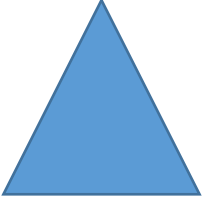
F - Kerem'in 11 tane topu vardır. Babası Kerem'e 5 top daha alırsa Kerem'in kaç topu olur?

Çözüm:.....
.....
.....

G - Yağmur'un 9 tane tokası vardır. 3 tanesini kaybederse Yağmur'un kaç tokası kalır?

Çözüm:.....
.....
.....


H - Aşağıdaki şekillerin adını altına yazınız.



.....

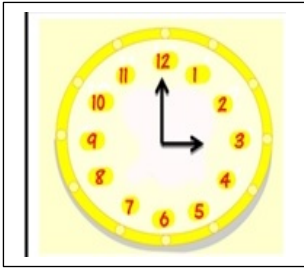


.....

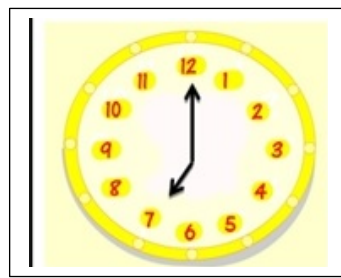


.....

I - Aşağıdaki saatler kaçı gösteriyor? Altına yazınız.



.....




.....

ADI SOYADI :

TARİH : 09.09.2021

A - Aşağıdaki resimlerin altına kim olduklarını yazınız.



.....



.....

B - Aşağıdaki ifadelerden doğru olanların yanına **DOĞRU**, yanlış olanların yanına **YANLIŞ** yazınız.

- *Sınıfta parmak kaldırarak söz hakkı alırım.(.....)
- *Atatürk Hopa'da doğmuştur.(.....)
- *Okulda sadece kendi sınıfımızı temiz tutmalıyız.(.....)
- *Arkadaşımın kalemimi izinsiz kullanabilirim.(.....)
- * Okul eşyalarımı temiz ve düzenli kullanırım.(.....)

C - Aşağıdaki soruları cevaplayınız

- 1 - Okulunuzun adıİlkokulu
- 2 - Ülkemizin adı'dir.
- 3- Ülkemizin başkenti'dır.

D - Kahvaltıda hangi yiyecek ve içecekler tüketilmelidir? Aşağıya yazınız

.....
.....
.....

E - Aşağıdaki acil durumlarda aranması gereken yerlerin numaralarını yazınız.

İTFAİYE:.....

AMBULANS:.....

POLİS:.....

JANDARMA.....