

Adı:  
Soyadı:

2021-2022 EĞİTİM-ÖĞRETİM YILI  
FATİH SULTAN MEHMET İLKOKULU 4. SINIFLAR  
SOSYAL BİLGİLER DERSİ 1.DÖNEM 2.YAZILI SINAVI

Puan:





\*Doğru seçeneği işaretleyin. (12x5=60p)



1) Yukarıdaki haritaya göre ülkemizin kuzeydoğusunda hangi il yer almaktadır?

- A) Ordu B) Sinop  
C) Gaziantep D) Bartın

2) Aşağıdakilerden hangisi hava olayları arasında yer almaz?

- A)  Kar yağışı  
B)  Rüzgar  
C)  Deprem  
D)  Yağmur




3) Herhangi bir kişinin resmî kimlik belgesine bakarak o kişi hakkında aşağıda verilen sorulardan hangisi cevaplanamaz?

- A) Kaç yaşındadır?  
B) Babasının adı nedir?  
C) Vatandaşlık numarası nedir?  
D) Kardeşinin adı nedir?

4) Kurtuluş Savaşı'nda Urfa, Maraş ve Antep şehirlerimize halkın kahramanca düşmana karşı direniş gösterdiği için bazı unvanlar verilmiştir. Aşağıdakilerden hangisi bu unvanlardan biri değildir?

- A) Gazi B) Kahraman  
C) Meraşal D) Şanlı

5)   
Yukarıdaki unsurları numaralarına göre doğal ve beşerî unsurlar olarak gruplandırdığımızda hangi sonuca ulaşılır?

	<u>Doğal Unsurlar</u>	<u>Beşerî Unsurlar</u>
A.	3, 4, 6	1, 2, 5
B.	1, 2, 5	3, 4, 6
C.	2, 4, 5	1, 3, 6
D.	1, 3, 4	2, 5, 6

6) Hava durumuyla ilgili bilgileri hangi kurumdan alınız?



- A) Türk Hava Kurumu  
B) Meteoroloji İşleri Genel Müdürlüğü  
C) Milli Eğitim Bakanlığı  
D) Karayolları Genel Müdürlüğü

7) Aşağıdakilerden hangisi her bireyde kesinlikle farklıdır?

- A) Parmak izi B) Boy C) Kilo D) Göz rengi

8) Ailemizin tarihini araştırırken aşağıdakilerden hangisini kullanmayız?

- A) Sözlü tarih B) Aile albümü  
C) Kütüphane D) Eski eşyalar

- I. Okuma, yazmayı öğrendim.  
II. Konuşmaya başladım.  
III. 2012 yılında Karasu'da doğdum.  
IV. 4. Sınıfta Sosyal Bilgiler dersi sınavındayım.

9) Yukarıda verilen olayların kronolojik olarak sıralanışı aşağıdakilerden hangisidir?

- A) I - II - III - IV      B) III - I - II - IV  
C) II - I - IV - III      D) III - II - I - IV

10) Hangisi diğerlerinden farklı bir yönü gösterir?

- A) Kutup yıldızı  
B) Pusulanın renkli ucu  
C) Ağaçların yosunlu tarafı  
D) Mezarlıkların baş kısmı

11) Aşağıdakilerden hangisi Kurtuluş Savaşı'nda Güney Cephesi'nde mücadele eden millî kahramanlarımızdan biri değildir?

- A) Ali Saip Bey      B) Şahin Bey  
C) Sütçü İmam      D) Yörük Ali Efe

12) 1. Dünya savaşından sonra yurdumuzu işgal eden düşmanlara karşı, Kurtuluş Savaşı'nda birçok cephede mücadele ettik.  
*Buna göre Batı Cephesinde kimlere karşı savaştık?*

- A) Yunanlılara      B) Ermenilere  
C) Fransızlara      D) İngilizlere

13) Aşağıda verilen bilgilerden doğru olanlara D; yanlış olanlara Y yazınız. (5x2=10p)

- ( ) Öğle vakti, gölgemizin en kısa olduğu taraf kuzeyi gösterir.  
( ) Atatürk, Türkiye Cumhuriyeti'nin kurucusu ve ilk cumhurbaşkanıdır.  
( ) Parklar, tarlalar, barajlar çevremizdeki doğal unsurlara örnektir.  
( ) Toplumdaki herkes bir konu hakkında aynı şeyi düşünmelidir.  
( ) Doğu Cephesinde Ermenilerle savaştık.

14) (5x4=20p)  
Güneş fırının oradan doğup manavın o taraftan battığına göre aşağıda verilen soruları cevaplayınız.

Okul

Kafe

Bakkal

Fırın

Otel

Manav

Park

Pastane

Kırtasiye

1) Otelin kuzeyinde ne vardır?

2) Manavın güneyinde ne vardır?

3) Kafenin doğusunda ne vardır?

4) Pastanenin batısında ne vardır?

5) Manavın kuzeydoğusunda ne vardır?

15) Aşağıda verilen cümleleri kutucuklardaki sözcüklerden uygun olanlar ile tamamlayınız.

(5x2=10p)

**kroki - harita - Meteoroloji - hava olayı -  
hava durumu - kuzeye - güneye - doğal -  
beşeri - Samsun - Sakarya - Ankara**

- Bir yerin kuşbakışının kabataslak olarak çizilmesine ..... denir.
- Havada meydana gelen ısınma, soğuma, rüzgar, yağış, sis gibi değişimlere ..... denir.
- Ağaçların ve taşların yosun tutmuş tarafları ..... bakar.
- Çevremizdeki fabrikalar, köprüler, binalar ..... unsurlardır.
- Atatürk Milli Mücadele'yi başlatmak için ilk olarak .....'a çıktı.

*Hepinize başarılar dilerim...*

