

Adı,Soyadı:

2.DÖNEM 5.MATEMATİK SINAVI

Uğur

2-4-6-8-
10-12-14-
16-18

Ece

6-8-10-
12-14-16-
18-20

Ecrin

2-4-6-7-
8-10-12-
14



1- Yukarıdaki çocuklar 2'şer ritmik sayma yapıyor. Buna göre hangi çocuk yanlış sayıyor?

- A) Uğur B) Ece C) Ecrin

2-20'den geri doğru birer sayarsak 5. saymada hangi sayıyı söyleriz?

- A) 16 B) 15 C)24

3-Aşağıdaki ifadelerden hangisi yanlıştır?

- A) 12 sayısı 8 sayısından büyüktür.
B) 9 sayısı 19 sayısından küçüktür.
C) 16 sayısı 17 sayısına eşittir.

4- Aşağıdaki işlemlerden hangisi doğru değildir?

- A) $13+12=25$
B) $12+8=20$
C) $15+4=18$



5- Görseldeki öğrencilerin yarısı teneffüse çıkarsa, sınıfta kaç öğrenci kalır?

- A) 3 B) 4 C) 5

16


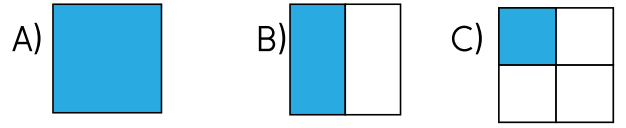
Mert



6- Mert'in aklından tuttuğu sayısının 8 eksiği kaçtır?


- A) 8 B)9 C) 10

7-Aşağıdaki şekillerden hangisi çeyreği ifade eder?



8-Vazoda 3 kırmızı, 5 sarı, 4 tane de pembe gül vardır. Vazoda toplam kaç tane gül vardır??

- A)11 B)12 C)10



9- 1 bütün elma ile 4 yarım elma kaç bütün elma eder?

- A) 3 B)2 C) 1

10- Babam bana kağıt paraların en küçüğünden 3 tane verdi. Babam bana kaç lira verdi?

- A) 10 B)15 C)20