

## Matematik Problemleri

1. Ersin ' in annesi bir tencere mercimek çorbası pişirmiştir. Bu çorbayı 6 tabağa eşit olarak koymuştur. Her tabak 5 kepçe alıyor ise tencerede kaç kepçe çorba vardır? Resimleyerek çözünüz.

Çözüm:

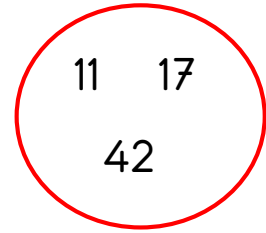
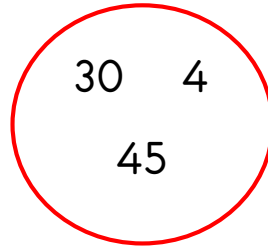
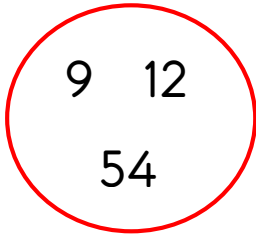
2. Tamamen dolu bir çaydanlığın yarısından 6 tane çay bardağı doldurulabiliyorsa, tamamından kaç tane çay bardağı doldurulur ?

Çözüm:

3. Yarısı 14 tane olan sakızın tamamı kaç sakız eder?

Çözüm:

4.



Öğretmen tahtaya yukarıda verilen çemberleri çiziyor. Çemberlerin içine rakam ve sayılar yazıyor. Öğrencilerine söylediği sayıları çemberlerin içinden bulup toplamalarını istiyor. Söylediği sayılar;

- ✓ En büyük rakam,
- ✓ En küçük sayı,
- ✓ 20 ve 40 sayılarının arasındaki onluk,

Öğrenciler sonucu kaç bulmuştur?

Çözüm:

selmaozcan5506



5. 6' dan başlayarak 2' şer sayarken beşinci söylediği sayı ile ikinci söylediği sayı arasındaki fark kaçtır?

Çözüm:

6. İbrahim' in 13 kalemi vardı. İbrahim' e 6 kalem de arkadaşı verdi. İbrahim' in kalemlerinin sayısı için hangisini söyleyebiliriz?

- A. Kalemlerinin sayısı azalmıştır.
- B. Kalemlerinin sayısı artmıştır.
- C. Kalemlerinin sayısı değişmemiştir.

7.



Param: .....TL



Param: .....TL



Param: .....TL



Param: .....TL

## Türkçe Telafi Türkçe Çalışması 3

➤ Aşağıdaki tümcelerın sonuna ( . ), ( ? ), ( ! ) ( , ) işaretlerinden uygun olanı koyunuz ve cümleleri Türkçe defterimize yazalım.

Bitkiler ( ) hayvanlar ve insanlar canlıdır ( )

İlkbaharda çiçekler açar ( )

Sonbahar mevsiminin aylarını nelerdir ( )

Yangın var ( )

Atatürk' ün anıtmezarı nerededir ( )

Koş ( ) köpek salyalarını akıtarak bize doğru geliyor ( )

Papatya ( ) gelincik ve menekşe yabancı bitkilerdir ( )

Eyvah ( ) Anahtar evde kaldı ( )

Vah yavrum ( ) vah ( )

Domatesin sebze değil de meyve olduğunu biliyor musun ( )

29Ekim 1923 ( ) te cumhuriyet ilan edildi ( )

Ali 3( ) sınıfa gidiyor ( )

Yaşasın ( ) kitabımı buldum ( )

➤ Aşağıdaki özel adların hangileri doğru yazılmıştır? Doğru olanların başına "D", yanlış olanların başına "Y" yazınız.

( ) Zeyneb' in defteri yırtılınca ağladı.

( ) Çanakkale' deki Şehitler Anıtı' nı görünce çok duygulandım.

( ) Türkiye'nin para birimi Türk Lirasıdır.

( ) Kars'ın kaşar peyniri meşhurdur.

( ) Marmara Denizi, akdeniz, ege denizi, karadeniz ülkemizin denizleridir.

( ) Türkiye Büyük Millet Meclisi Ankara' dadır.

( ) Ayşe, Bursadan ne zaman gelecek?

selmaozcan5506



## 5. ÜNİTE ÜLKEMİZDE HAYAT

### DEĞERLENDİRME ÇALIŞMALARI

1. Yaşadığımız yerler yönetim birimlerine ayrılmıştır. Aşağıdakilerden hangisi bu yönetim biçimlerinden değildir?

A. İl

B. Köy

C. Sokak

2. Aşağıda sıralanan yerleşim yerlerinden hangisi büyükten küçüğe doğru sıralanmıştır?

A. il - köy - ilçe

B. il - ilçe - köy

C. köy - ilçe - il

3. Aşağıdakilerden hangisi en küçük yerleşim yeridir?

A) Kasaba

B) İlçe

C) Köy

4. Gezmek, görmek, incelemek, eğlenmek amacıyla başka şehir, bölge veya ülkeye giden kişilere.....denir. Noktalı yere aşağıdaki sözcüklerden hangisi gelmelidir?

A) Turist

B) Gezgin

C) Bilgin

5. Aşağıdakilerden hangisi insanların başka ülkelere göç etmesinin nedenleri arasında yer almaz?

A) Savaşlar

B) Eğitim görmek

C) Gezmeyi sevmek

6. Köy ile ilgili verilen bilgilerden hangisi doğru değildir ?

A) Köyde yaşayan insanlar hayvancılık yaparlar.

B) Köyü muhtar yönetir.

C) Köyde yaşayan insan sayısı ilçede yaşayanlardan fazladır.

7. Turistik yerler tarihi ve doğal yerler olmak üzere ikiye ayrılır. Aşağıdaki yerlerden hangisi doğal güzelliklerimize örnektir?

A.



B.



C.



8. Aşağıdaki çocuklardan hangisi doğru bir davranış sergilemektedir?

- A. Sınıfımıza Suriye' den gelen Eslem' e ödev yaparken yardım ediyorum.
- B. Pakistan' dan gelen Zübeyir ile oynamak istemiyorum.
- C. Irak' tan gelen Ayşe' nin dilimizi öğrenebilmesi için ona yardımcı oluyorum.

9. Aşağıda verilen cümlelerden hangileri doğrudur?

- 1. Ülkemizdeki diğer ülkelerden zorunlu olarak göç etmiş olan arkadaşlarımıza saygılı davranmalıyız.
- 2. Bu insanlar bizimle aynı özelliklere sahip olmak zorunda değildir.
- 3. Sınıfımıza gelen farklı kültürdeki öğrencilerle arkadaşlık yapmamalıyız.

A. 1 ve 2                      B. 2 - 3                      C. 1 - 2 - 3

B.

➤ Aşağıdaki ifadelerin başına doğru ise "D" , yanlış ise "Y" koyunuz.

Göller, denizler, şelaleler doğal güzelliklerimizdendir.

İlleri kaymakam yönetir.

En büyük yerleşim yerleri ilçelerdir.

Camiler, saraylar, kaleler görülmesi gereken tarihi mekanlardır.

İller en büyük yerleşim yerleridir ve valiler tarafından yönetilir.

➤ Aşağıda verilen şehirleri haritadan bulalım. Bu şehirlerin neleri meşhurdur? Araştırıp yazalım.

Gaziantep → .....

Şanlıurfa → .....

Kahramanmaraş → .....

Samsun → .....

Bursa → .....

Çorum → .....

Kayseri → .....

Konya → .....

