

# 1. SINIF 1. DEĞERLENDİRME SINAVI

# 1.SINIF

## KAZANIM DEĞERLENDİRME SINAVI

ADI SOYADI

.....

SINIFI: 1/.....  
NO : .....

HAZIRLAYAN  
SALİH ÖZENÇ

## TÜRKÇE

### SALİH'İN BİR GÜNÜ



Salih 1-D sınıfına gidiyordu. Sınıfın en çalışkan öğrencilerinden biriydi. O gün okuldan sonra evlerinin bahçesinde Ahmet ile birlikte ders çalışmak için elma ağacının altına oturdular. Tam o sırada Salih havada bir kelebek ile bir arı gördü. Aaa Ahmet havaya bak diye seslendi. Dersi bırakıp kelebek kovalamaya başladılar. (1,2,3,4. Soruları okuma parçasına göre cevaplayınız.)

1) Salih nerede ders çalışmaya gitti?

- A) Odasında.
- B) Ahmet'in evinde.
- C) Evlerinin bahçesinde.

2) Salih okuma parçasında havada ne gördü?


- A) Kelebek ve karga
- B) Arı ve kelebek
- C) Arı ve leylek

3) Okuma parçasına göre Salih kimle ders çalışıyordu?

- A) Ali
- B) Ahmet
- C) Mehmet

4) Aşağıdakilerden hangisi parçaya göre Salih'in bir özelliğidir?

- A) Çalışkan olması.
- B) Yaramaz olması.
- C) Sinirli olması.



5) Aşağıdaki cümlelerden hangisi bu resme ait olamaz?

- A) Kart horoz şarkı söylemeye başladı.
- B) Hindi horozun sesini duyunca kaçmaya başladı.
- C) Ördekler horoza eşlik ettiler.

6) "Cemil basketbol oynamayı çok seven bir çocuktur." Buna göre hangisi Cemil olabilir?



A






B



C


# 1. SINIF 1. DENEME SINAVI

7) Aşağıdaki hayvanlardan hangisinin adı yanlış yazılmıştır?


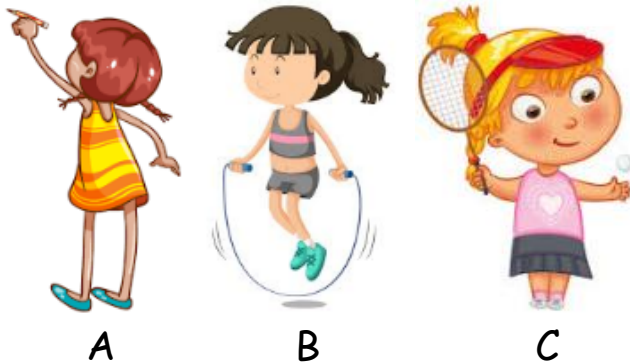
- A) 
- B) 
- C) 

8) "Melis meyvelerden en çok elmayı seviyor."

Aşağıdaki resimlerden hangisi Yukarıdaki cümleye ait olabilir?



9) Aşağıdaki çocuklardan hangisi ip atlamaktadır?



10)

Yukarıdaki resimdeki hayvanın adı nedir?

- A) Kaplunbaa  
B) Kaplanbağa  
C) Kaplumbağa


## MATEMATİK




1) Yukarıdaki boşluğa hangi sayı yazılmalıdır?

- A) 11 B) 13 C) 15

2) Aşağıdaki hayvanlardan hangisi dışındadır?

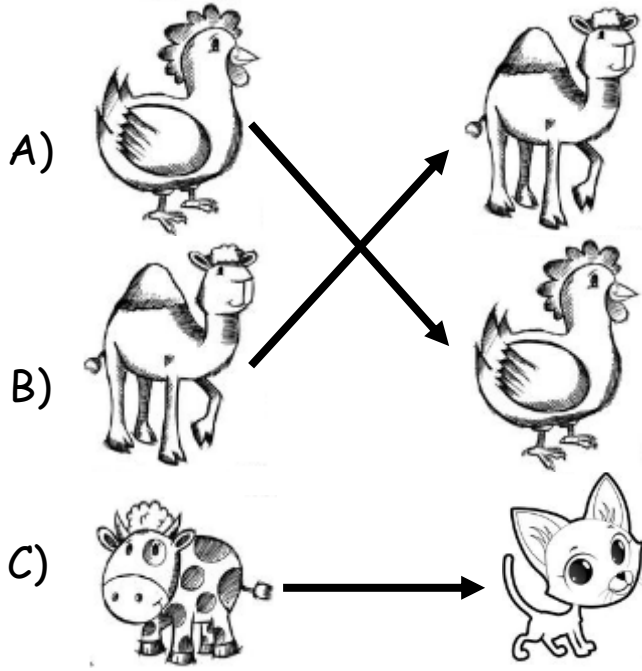


3) Aşağıdaki kütüklerden hangisi en fazladır?



# 1. SINIF 1. DENEME SINAVI

4) Aşağıdaki eşleştirmelerden hangisi yanlıştır?



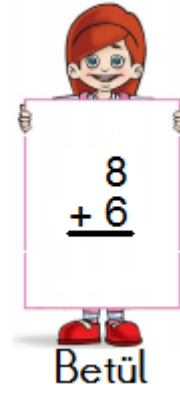
5) Yukarıdaki resme göre hangi cümle doğru olur?

- A) Ayı tavşandan hafiftir.  
B) Tavşan ayıdan hafiftir.  
C) Ağırlıkları eşittir.



Yukarıdaki 18 domatesten 9 tanesi ile salata yaptık, geriye kaç domates kalır?

- A) 11      B) 10      C) 9



7) Betül yukarıdaki işleminin sonucunu kaç bulmuştur?

- A) 12      B) 13      C) 14

8) Aşağıdaki çocukların tuttuğu saatlerden hangisi sekizdir?




$$\begin{array}{r} 19 \\ - 7 \\ \hline \dots \end{array}$$

9)

Yukarıdaki çıkarma işleminin sonucu kaçtır?

- A) 12      B) 26      C) 11

# 1. SINIF 1. DENEME SINAVI



10)



Çoban Mustafa'nın 8 koyunu vardır. Sürüye 7 koyun daha aldı. Toplam kaç koyunu olmuştur?  
A) 14      B) 15      C) 16

## HAYAT BİLGİSİ

1) Aşağıdakilerden hangisi sinirli bir yüz ifadesidir?



A

B

C

2) Aşağıdaki çocuklardan hangisi kişisel bakımını yapmaktadır?



A

B

C

3) Aşağıdakilerden hangisi sağlıklı bir besin değildir?



A



B



C



4)

Hangi enerji kaynağımızı israf eder, düzgün kullanmazsak yukarıdaki durum başımıza gelebilir?

A) Elektrik

B) Su

C) Doğal gaz

5) Bugün günlerden çarşamba ise yarın hangi gündür?


A) Salı

B) Pazartesi

C) Perşembe

# 1. SINIF 1. DENEME SINAVI

6) Aşağıdaki ürünlerden hangisi temel ihtiyacımızdır?



7) Trafik işaretlerinden hangisi Okul geçidi anlamına geliyor?



A



B



C

8) Hangisi bağımsızlığımızı sembolü bayrağımızdır?



A



B



C

9) Sare'nin cuma günü Türkçe, hayat bilgisi ve müzik dersi vardır. Sare hangisini okula götürmesine gerek yoktur?



A



B




C

10) Aşağıdaki çocuklardan hangisinin davranışı doğrudur?



A)



B)



C)