







❖ Nesne Sayılarını Karşılaştıralım

1. Aşağıdaki nesnelere sayalım.

Diğerinden daha az olan nesnelerin kutucuğunu **kırmızı** renge, diğerinden daha fazla olan nesnelerin kutucuğunu **mor** renge, nesne sayısı eşit olan nesnelerin kutucuklarını **yeşil** renge boyayalım.



2.  Aşağıdaki ifadelerden doğru olanların kutucuğunu **maviye**, yanlış olanların kutucuğunu **kırmızıya** boyayınız.







- Tavuk sayısı horoz sayısından daha azdır.
- Horoz sayısı tavuk sayısından daha çoktur.
- Tavuk sayısı horoz sayısına eşittir.
- 16 horoz vardır.
- 13 tavuk vardır.



❖ Nesne Sayılarını Karşılaştıralım

1. Aşağıdaki nesnelere sayalım.

Diğerinden daha az olan nesnelerin kutucuğunu **kırmızı** renge, diğerinden daha fazla olan nesnelerin kutucuğunu **mor** renge, nesne sayısı eşit olan nesnelerin kutucuklarını **yeşil** renge boyayalım.



2.  Aşağıdaki ifadelerden doğru olanların kutucuğunu **maviye**, yanlış olanların kutucuğunu **kırmızıya** boyayınız.



- Tavuk sayısı horoz sayısından daha azdır.
- Horoz sayısı tavuk sayısından daha çoktur.
- Tavuk sayısı horoz sayısına eşittir.
- 16 horoz vardır.
- 13 tavuk vardır.