

1.SINIF DENEME SINAVI -1

TÜRKÇE

ÇOCUK

Havada henüz ne kar, ne ayaz vardı. Ama çocuğun ayak değiştirmesinden, yüzünü buruşturmasından çok soğuk olduğu anlaşılıyordu. Çocuk ellerini de birbirine sürtüyordu.



1) Çocuk neden ellerini birbirine sürtüyor?

- A) Boş durmaktan sıkıldığı için
- B) Utangaç olduğu için
- C) Ellerini ısıtılmak için



2) Çocuk neden yüzünü buruşturuyor?

- A) Korktuğundan
- B) Ayakları ağrıdığından
- C) Üşüdüğünden



3) Dolmabahçe" kelimesi aşağıdakilerden hangisinde doğru hecelenmiştir?

- A) Do-lma- bah-çe
- B) Dol-ma-bah-çe
- C) Dol-ma-ba-hçe



4) Aşağıdaki cümlelerin hangisinde insan ismi (özel isim) yanlış yazılmıştır?

- A) Ahmet resim dersini çok seviyor.
- B) ali müzik dersini çok seviyor.
- C) Ayşe matematik dersini çok seviyor.



5) "karniyarik" kelimesi kaç hecelidir?

- A) 4
- B) 5
- C) 6



6) Aşağıdakilerden hangisinde satır sonuna sığmayan sözcük yanlış yazılmıştır?

- A) Çalışm-alıyım
- B) Öğren-ci
- C) Kitap-cı



7) Kiminle oyun oynamak istersin

"Yukarıdaki cümlelerin sonuna hangi noktalama işareti gelmelidir?

- A) ,
- B) .
- C) ?



8) ç - l - k - i - e

Yukarıdaki harflerden aşağıdaki kelimelerden hangisi yazılabilir?

- A) çolak
- B) çilek
- C) çiçek



9) "uzak" kelimesinin zıt anlamlısı aşağıdakilerden hangisidir?

- A) çok
- B) yakın
- C) çirkin



10) Ellerimizi her yemekten önce ve sonra sabunla yıkamalıyız. "Cümlede kaç tane sözcük vardır?

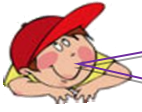
- A) 6 B) 7 C) 8



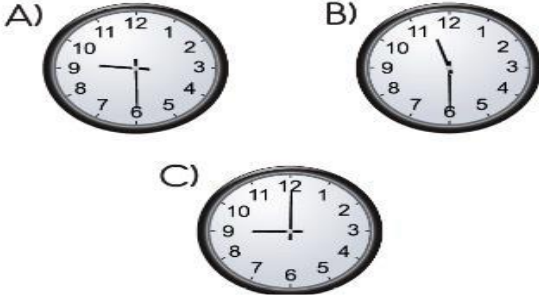
11) İstanbul kelimesinde kaç sesli harf vardır?

- A)5 B)3 C)7

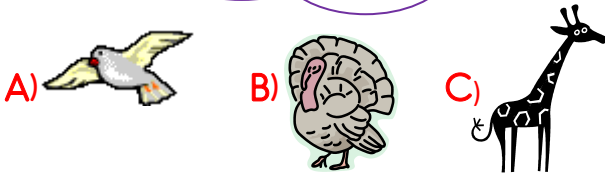
MATEMATİK



1) Aşağıdaki saatlerden hangisi 9.30'u göstermektedir?



2) Aşağıdakilerden en kısa olan hayvanı işaretleyiniz?



3) 10- 20- 30- 40-..... - 60 onarlı saydığımızda noktalı yere hangi sayı gelmelidir?

- A) 50 B) 45 C) 41



4) 1 onluk, 8 birlikten oluşan sayı kaçtır?

- A) 18 B)28 C) 19



5) Ali'nin kumbarasında 20 TLsi vardır. Ali Aşağıdakilerden hangisini alamaz.



6) Geçen hafta 17 bu hafta 19 kitap okudum. İki haftada toplam kaç kitap okumuş oldum?

- A) 15 B) 16 C) 36



7) 29 tane kurabiyenin 16 tanesini yedim. Geriye kaç tane kurabiyem kaldı?

- A) 12 B) 13 C) 10



8) Aşağıdaki ifadelerden hangisi doğrudur?

- A) 9 sayısı 19'dan büyüktür.
B) 6 sayısı 7'den küçüktür.
C) 8 sayısı 18'den sonra gelir.



9) Hangisinin eşi doğru verilmiştir?

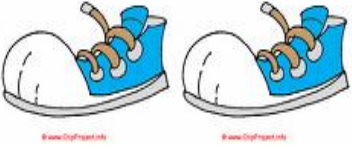
A)



B)



C)



10) Aşağıdaki elmalardan hangisi yarımıdır?

A)



B)



C)



HAYAT BİLGİSİ



1) Yemek yerken aşağıdakilerden hangisinin yapılması doğrudur?

A) Kaşık ve çatal kullanmak.

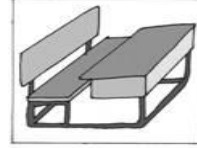
B) Ağızımızı şapırdatmak.

C) Konuşmak.




2) Hangisi sınıf eşyalarımızdan değildir?


A)



B)



C)



3) Dengeli ve sağlıklı beslenmek için neler yapmalıyız?

A) Düzenli beslenmeliyiz.

B) Cips, kola gibi yiyecekler yemeliyiz.

C) Sevmediğimiz yiyecekleri yememeliyiz.



4) İstiklal Marşı'nı kim yazmıştır?

A) Atatürk

B) Mehmet Akif Ersoy

C) İsmet İnönü



5) "Bizim aile annem, babam ve benden oluşmaktadır." diyen bir çocuk nasıl bir aileden bahsetmiştir?

- A) Çekirdek B) Geniş C) Kalabalık



6) Aşağıda verilen bilgilerden hangisi doğrudur ?

- A) Okul yolunda tanımadığım kişilerle konuşurum.
B) Tanımadığım kişilerle oyun oynarım.
C) Tanımadığım kişiler çağırdığında yanlarına gitmem.



7) Aşağıdakilerden hangisi YAYA GEÇİDİ işaretidir?

- A)  B)  C) 



8) Atatürk'ün mezarına hangi şehirde bulunmaktadır?

- A) Ankara B) İstanbul C) Selanik



9) Aşağıdaki numaralardan hangisi "Polis İmdat" a ait numaradır?

- A) 177 B) 155 C) 156



10) Aşağıdaki davranışlardan hangisi doğrudur?

- A) Teneffüslerde sınıf içinde ve koridorlarda koşmak
B) Kalemı sıranın üstüne açmak
C) Çöpleri çöp kutusuna atmak.





11) Aşağıdakilerden hangisi temel ihtiyaçlarımızdan değildir

- A) Çizgi film izlemek.
B) Beslenmek
C) Uyumak



12) Aşağıdakilerden hangisi hayvanlardan elde edilmez ?



Sınav sorularını bitirdin.

Cevaplarını kontrol edebilirsin.