



Adı Soyadı:..... Sınıfı/Numarası:..... /

SINIF

HAYAT BİLGİSİ

OKUL HEYECANIM

Test 01

1. Okuldaki derslerimizde başarılı olabilmek için aşağıdakilerden hangisini yapmalıyız?
 - A. Ödevlerimizi acele yapmalıyız.
 - B. Okula hazırlıklı gitmeliyiz.
 - C. Evde ders tekrarı yapmamalıyız.

2. Aşağıdakilerden hangisi doğru bir iletişim şeklidir?
 - A. Başarılı konuşmasından dolayı arkadaşını kutlamak
 - B. Sınıfta izin almadan konuşmak
 - C. Konuşurken başkalarının sözünü kesmek

3. Yurdumuzda İlköğretim Haftası ne zaman kutlanır?
 - A. Ekim ayının ilk haftasında
 - B. Okulların açıldığı ilk hafta
 - C. Eylül ayının ikinci haftasında

4. "Dürüstlük - uyumsuzluk - paylaşma - iyimserlik - sorumsuzluk - yardımseverlik - dağınıklık" İyi bir arkadaşta yukarıdaki özelliklerden kaç tanesi bulunmalıdır?
 - A. 2
 - B. 3
 - C. 4

5. Berkay boş zamanlarında müzik dinlemeyi, Beray ise şiir okumayı sever. Berkay arkadaşlarıyla birlikte olmaktan, Beray ise yalnız kalmaktan hoşlanmaktadır. Bu ifadelere göre, Berkay ile Beray için aşağıdakilerden hangisi söylenebilir?
 - A. Farklı özelliklere sahiptirler.
 - B. Ortak özellikleri çok fazladır.
 - C. Benzer şeylerden hoşlanmaktadırlar.

6. Arkadaşınız, bir spor dalında başarılı oldu ve okulunuza madalya getirdi. Bu durumda aşağıdaki davranışlardan hangisini yapmak doğru olmaz?
 - A. Başarisından dolayı kutlamak
 - B. Arkadaşımızın sevincini paylaşmak
 - C. Arkadaşımızın başarısından üzüntü duymak

7. "Öfke ile kalkan zararlar oturur." atasözü bize neyi öğütler?
 - A. Sakin olmayı
 - B. Hoşgörülü olmayı
 - C. Kavgacı olmayı

8. Aşağıdakilerden hangisi, yanlış bir davranıştır?

- A. Arkadaşlarımıza karşı kaba davranmak
- B. Öğretmenlerimizle karşılaştığımızda onları selamlamak
- C. Eleştirilerimizi, arkadaşlarımızı kırmadan yapmak

9. Aşağıdakilerden hangisi iletişimimizi olumsuz etkiler?

- A. Öfkeli ve kızgın anımızda arkadaşlarımızı kırmak
- B. Arkadaşlarımıza karşı kibar davranmak
- C. Öğretmenimizin söylediklerini yapmak

10. Aşağıdaki ifadelerden hangisi yanlış bilgi içerir?

- A. Konuşmalarımızda nezaket kurallarına uymalıyız.
- B. Konuşanı ve konuşulanı önemsemeliyiz.
- C. Söylemek istediğimizi düşünmeden söylemeliyiz.

11. Aşağıdakilerden hangisi okul başarımızı olumsuz etkiler?

- A. Okula gitmeden önce kahvaltımızı yapmak
- B. Hazırlıklarımızı yapmadan okula gitmek
- C. Ders programına göre çantamızı hazırlamak

12. "İnsanlar birbiriyle anlaşabilmek için sağlıklı bir kurmak zorundadır." cümlesini en iyi hangi sözcükle tamamlayabiliriz?

- A. iş
- B. iletişim
- C. yardımlaşma

13. "Teneffüs zili çalınca bütün öğrenciler okul bahçesine çıkarlar. Herkes farklı oyunlar oynayarak vakit geçirir." ifadesi aşağıdakilerden hangisiyle ilgilidir?

- A. Öğrenciler benzer özellikler gösterirler.
- B. Her öğrencinin yüz ve saç yapısı aynıdır.
- C. Her öğrencinin yetenekleri ve ilgileri farklıdır.

14. Sececeğimiz arkadaşın hangi özelliğine dikkat etmeliyiz?

- A. Maddi durumuna
- B. Olumlu değerlerine
- C. Dış görünüşüne

15. Aşağıdaki davranışlardan hangisi iyi bir arkadaşlık örneğidir?

- A. Hasta arkadaşımızı ziyaret etmek
- B. Arkadaşlarımızın eşyalarını izinsiz almak
- C. Arkadaşlarımızın yanlışlarına sevinmek

1. Aşağıdakilerden hangisi, bir sorunu çözücü davranıştır?
- A. Üzüntülü arkadaşımızı teselli etmek
- B. Sinirli arkadaşımızı kızdırmak
- C. Düzenli ve çalışkan bir arkadaşımızı kıskanmak
2. "Hayat Bilgisi konularını grup çalışmasıyla öğreniyoruz. Öğretmenimiz 3. grubu tahtaya çıkardı ve gruptaki arkadaşlarımız konularını anlatmaya başladılar. Beste, o sırada eksik bıraktığı ödevini tamamlamaya çalışıyordu. Öğretmenimiz, Beste'nin bu davranışının doğru olmadığını söyleyerek Beste'yi uyardı." Beste'nin davranışı niçin doğru değildir?
- A. Eksik ödevini tamamladığı için
- B. Grup arkadaşlarını dinlemediği için
- C. Derse katıldığı için
3. Aşağıdakilerden hangisi sorun çözme yöntemlerinden biri değildir?
- A. Hoşgörülü olmak
- B. Anlayışlı olmak
- C. Kırıcı olmak
4. "Okulda güzel konuşmayı, sorun çözmeyi, araştırma yapmayı, oyunu kurallarına göre oynamayı öğreniyorum. Ayrıca insanı, çevreyi ve doğayı sevmeyi öğreniyorum." diyen bir öğrenci için aşağıdakilerden hangisini söyleyemeyiz?
- A. Paylaşıcıdır.
- B. Kavgacıdır.
- C. Araştırmacıdır.
5. Aşağıdakilerden hangisi yanlış bir davranıştır?
- A. Arkadaşlarımızla iyi geçinmek
- B. Öğretmenimizin sözlerini dinlemek
- C. Sadece istediğimiz derslere girmek
6. Ali, sınıf arkadaşlarıyla çok iyi geçiniyordu. Onlara daima güler yüzlü davranıyor ve sorunsuz bir arkadaşlık sürdürüyordu. Ali ile ilgili olarak aşağıdaki ifadelerden hangisi söylenebilir?
- A. hoşgörülü
- B. kuralcı
- C. şımarık

7. Aşağıdaki davranışlardan hangisi arkadaşlık ilişkilerimizi olumsuz etkiler?

- A. Arkadaşlarımıza karşı hoşgörülü davranmak
- B. Arkadaşlarımıza karşı yanlı davranmak
- C. Arkadaşlarımızla ilişkilerimizde çıkarıcı olmamak

8. "Bir yerin kuş bakışı görünüşünün kâğıt üzerine çizilmesine denir." cümlesinde boş bırakılan yere aşağıdaki kelimelerden hangisi yazılmıştır?

- A. kroki
- B. harita
- C. okul

9. Günümüzün büyük bir bölümünü okulda geçiririz. Okul, kuralları olan bir kurumdur. Aşağıdakilerden hangisi okul kurallarından biridir?

- A. Yerlere çöp atıp sınıfı kirletmek
- B. Okul koridorlarında koşmak
- C. Okula zamanında gelip gitmek

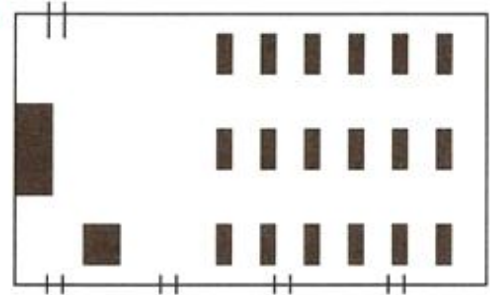
10. Aşağıdaki ifadelerden hangisi okulu en iyi şekilde tanımlar?

- A. Okul bizim ikinci evimizdir.
- B. Okulda güzel günler yaşarız.
- C. Okul bizi hayata hazırlar

11. Okul ve sınıf eşyalarımızı kullanırken neye dikkat etmeliyiz?

- A. İstedığımız gibi kullanıp atmalıyız.
- B. Bizden sonrakilerin o eşyaları kullanacağını düşünmeliyiz.
- C. Okula ait olduğu için dokunmamalıyız.

12.



Yukarıdaki kroki nereyi göstermektedir?

- A. okul
- B. sınıf
- C. mahalle

13. Okulda çeşitli sorunlar yaşamamak için okul kurallarına uymalıyız.

Aşağıdakilerden hangisi okul kuralları arasında yer almaz?

- A. Öğretmenin uyarılarına dikkat etmek
- B. Arkadaşlarımızla iyi geçinmek
- C. İstedığımız sınıfta derse girmek

1. Tasarruf konusunda verilen bilgilerden hangisi yanlıştır?
- A. Kaynakları bol bol tüketmeliyiz.
B. Kaynakları, ihtiyacımız kadar kullanmalıyız.
C. Kaynakların tükenebileceğini düşünerek bilinçli kullanmalıyız.
2. Aşağıdaki ifadelerden hangisi kişisel bakımla ilgili değildir?
- A. Elimizi yüzümüzü yıkamak
B. Lüzumsuz yanan ışıkları söndürmek
C. Giysilerimizi temiz kullanmak
3. Kişisel bakımımızı düzenli olarak yapmak aşağıdakilerden hangisine katkıda bulunur?
- A. Ailemize
B. Bilgimize
C. Sağlığımıza
4. 1-sağlık 2-para 3-zaman Elini yıkarken musluğu açık bırakan bir kişi numaralandırılmış kaynaklardan hangisini israf etmiş olur?
- A. 3 B. 2 C. 1
5. Arkadaşına: "Oyun bir eğlencedir. Kaybetmek de kazanmak da var. Daha sonraki maçı da siz kazanırsınız." diyen biri, bu sözleriyle hangi davranışı sergilemek istemektedir?
- A. Arkadaşını kutluyor.
B. Arkadaşını teselli ediyor.
C. Arkadaşına sevincini belirtiyor.
6. "Hiçbir oyun, insan sağlığından daha önemli değildir." diyen biri, hangi sorunu çözmek için bu ifadeyi kullanıyor?
- A. Oyunda kavga başlatmak için
B. Kaybeden oyuncuları kızdırmak için
C. Oyunda sakatlanmaları önlemek için
7. Aşağıdakilerden hangisi, okul hayatı ile ilgili iyimser bir bakış açısidir?
- A. Hastalandım, eğitimimi yarıda bırakmalıyım.
B. Ailem ekonomik sıkıntı çekiyor, aile bütçesine katkıda bulunmak için okula devam etmemeliyim.
C. Fakiriz ama yardım kuruluşlarına başvurup eğitime devam etmeliyim.

8. Aşağıdakilerden hangisi **kişisel bakım** etkinliklerinden biri **değildir**?

- A. Banyo yapmak
- B. Saç tıraşı olmak
- C. Top oynamak

9. Kişisel bakım yaparken tutumlu davranmak gerekir. Aşağıdakilerden hangisi bu ifade ile ilgili **değildir**?

- A. İhtiyacımız kadar su kullanmalıyız.
- B. Saç bakımına önem vermiyoruz.
- C. Lambaları işimiz bitince söndürmeliyiz.

10. Aşağıdakilerden hangisi **denge**li ve **düzenli beslenmeyen** bir öğrencinin yaşadığı sorun olabilir?

- A. Yorgun ve aç bir şekilde ders yapmak zorunda kalır.
- B. Hastalıklara karşı direnci artar.
- C. Dersleri daha dikkatli bir şekilde takip eder.

11. Aşağıdaki ifadelerden hangisi **doğrudur**?

- A. Günlük enerji ihtiyacımızı besinlerden sağlarız.
- B. Günde bir öğün yemek yemek gerekir.
- C. Sabah kahvaltısı yapmadan okula gitmeliyiz.

12. Dengeli beslenebilmek için her türlü besinden yeteri kadar almak gerekir.

Aşağıdakilerden hangisi **besin türlerinden biri değildir**?

- A. Hayvansal besinler
- B. Maddesel besinler
- C. Bitkisel besinler

13. Aşağıdaki kahvaltı menüsünden hangisi **denge**li beslenen bir öğrenciye aittir?

- A. bal - yumurta - peynir - süt - zeytin
- B. cips - cola - ekmek - patates kızartması
- C. çikolata - gazoz - simit - çay

14. Aşağıdaki davranışlardan hangisi, arkadaşlarımızın **sağlığını önem**sedığımızı gösterir?

- A. Okulun tuvalet ve lavabolarını temiz bırakmak
- B. Çöpleri, sınıflara ve koridorlara atmak
- C. Oyunda sinirlenip arkadaşlarımızı sakatlamaya çalışmak

15. Aşağıdakilerden hangisi **kişisel bakım yaparken kullandığınız kaynaklardan biri değildir**?

- A. su
- B. elektrik
- C. güneş



1. Aşağıdakilerden hangisi okulda meydana gelebilecek kazalardan biridir?

- A. Trenin raydan çıkması
- B. İki otomobilin çarpışması
- C. Merdivenlerden yuvarlanmak

2. Aşağıdakilerden hangisi kaza anında yapılması gereken ilk iştir?

- A. Yaralıyı hemen ameliyata almak
- B. Sakin olup çevreyi boşaltmak
- C. Olay yerinden uzaklaşmak

3. Güvenlik kurallarına uyulmadığı zamanlarda can ya da mal kaybına yol açan olaylara ne denir?

- A. Acil durum
- B. Kaza
- C. Olay

4. "Arkadaşım zehirlenince Paniğe düşmeyince 112 deyince Gelir kapıma ses verince." Dörtlükte "112" olarak sözü edilen kuruluş hangisidir?

- A. Polis imdat
- B. Yangın ihbar
- C. Acil servis

5. 1. Hastaneye ulaşma
2. İlk müdahaleyi yapma
3. Yardım çağrısında bulunma
4. Sakin olup çevreyi boşaltma
5. Doktor müdahalesi

Yukarıdaki numaralandırılmış ilk yardım çalışmalarında doğru bir müdahale için hangi numaraların yerleri değiştirilmelidir?

- A. 3-5
- B. 1-4
- C. 2-4

6. Kazaya uğrayan kişiye yapılan ilk müdahaleye ne ad verilir?

- A. İlk yardım
- B. İkaz
- C. Acil durum

7.



Oyun oynarken dikkatli olmalıyım.

Ece, teneffüste oyun oynamak istiyor. Oyunda dikkatli olması gerektiğini düşünüyor.

Ece, niçin dikkatli olmak zordur?

- A. Oyunu kurallarına uygun olarak oynamak için
- B. Oyun kazalarına uğramamak için
- C. Arkadaşlarıyla iyi geçinmek için

8. Aşağıdakilerden hangisi, milli birlik ve beraberliğimizin pekişmesi için önemlidir?

- A. Özel günlerimiz
- B. Okulumuz
- C. Bayramlarımız

9. Aşağıdaki olaylardan hangisi Kurtuluş Savaşı'nın başlangıcı sayılır?

- A. Atatürk'ün Samsun'a çıkması
- B. Atatürk'ün kurmay yüzbaşı olması
- C. Atatürk'ün Ankara'ya gelmesi

10. 19 Mayıs 1919'da Samsun'a çıkarak Kurtuluş Mücadelesi'ni başlatan Atatürk, sırasıyla nerelerde toplantılar yaparak Ankara'ya ulaşmıştır?

- A. Samsun - Amasya - Erzurum - Sivas - Ankara
- B. Samsun - Ankara - Sivas - Erzurum - Amasya
- C. Samsun - Sivas - Amasya - Erzurum - Ankara

11. Aşağıdakilerden hangisi Mustafa Kemal'in devam ettiği okullar arasında yer almaz?

- A. Şemsi Efendi İlkokulu
- B. Manastır Askerî Lisesi
- C. Hava Harp Okulu

12. Aşağıdakilerden hangisi Atatürk'ün öğrenim hayatında etkisi olan kişilerden değildir?

- A. Annesi Zübeyde Hanım
- B. Kız kardeşi Makbule Hanım
- C. Öğretmeni Mustafa Bey

13. Aşağıdakilerden hangisi Mustafa Kemal'in öğrenimine ara vermesine sebep olmuştur?

- A. Babası Ali Rıza Efendi'nin ölümü
- B. Yaşadığı bölgede okulun bulunmaması
- C. Annesinin onu askerî okula göndermek istememesi

14. Aşağıdakilerden hangisi Mustafa Kemal'in eğitim - öğretim hayatında yaşadığı olaylardan biri değildir?

- A. Annesinden habersiz askerî okul sınavlarına girmesi
- B. 1881 yılında Selanik'te doğması
- C. Matematik öğretmeninine ona "Kemal" adını vermesi

15. Aşağıda verilen olaylardan hangisi en sonra olmuştur?

- A. Türkiye Cumhuriyeti Devleti'nin kuruluşu
- B. Türkiye Büyük Millet Meclisinin açılışı
- C. Atatürk'ün Samsun'a ayak basması



1. Aşağıdakilerin hangisi, okuldaki kuralların konma sebebi olamaz?

- A. Öğrencilerin sağlığı ve mutluluğu
- B. Öğrencilerin verimli ders çalışması
- C. Öğrencilerin ev işlerinde aile büyüklerine yardımcı olması

2. Aşağıdakilerin hangisini yapmak, bir problemin çözümü olabilir?

- A. Birisinin eşyasını izinsiz al-dığımızda özür dilemek
- B. Çöpleri yere atarak sınıfı kirletmek
- C. Oyunda kazanmayı ve kaybetmeyi fazla büyütme

3. Evde veya okulda meydana gelen bir yaralanma olayını aşağıdaki numaralardan hangisine iletmeliyiz?

- A. 110 B. 112 C. 155

4. Aşağıdaki yiyeceklerden hangisi düzenli ve dengeli beslenme ile ilgili değildir?

- A.  SÜT B.  C. 

5. Başarılı ve çalışkan bir öğrencisiniz. Bu özelliğiniz ile öğretmenlerinizin ve arkadaşlarınızın dikkatini çekiyorsunuz. Ama aileniz fakir. **Bu durumda Atatürk'ün hangi özelliklerini kendinize örnek alırsınız?**

- A. Öğrenim hayatına ara vermesini
- B. Çalışkanlığını ve kararlılığını
- C. Çiftlikte dayısına yardımcı olmasını

6. Ayşe, kitap okumayı çok sever. Arda, müzik dinlemeyi; Ferda bahçe işleriyle uğraşmayı sever. **Buna göre aşağıdakilerden hangisi söylenemez?**

- A. İnsanlar arasında farklılıklar olması doğaldır.
- B. Bütün öğrenciler benzer özelliklere sahiptir.
- C. Bu öğrencilerin zevkleri değişiktir.

7. Aşağıdakilerden hangisi arkadaş seçimine dikkat çekmektedir?

- A. Arkadaşını söyle, sana kim olduğunu söyleyeyim.
- B. Damdan düşen, damdan düşenin hâlini bilir.
- C. Denize düşen yılanı sarılır.

8. Aşağıdaki iletişim şekillerinden hangisi doğru değildir?

- A. Merve, sabah karşılaştığı arkadaşına "Günaydın!" dedi.
- B. Reha, simit yiyen arkadaşına "Afiyet olsun!" dedi.
- C. Zeki, eve dönmek için servise binince arkadaşlarına selam vermedi.

9. Hangisi, dengeli ve düzenli beslenmenin bir sonucudur?

- A. Sağlığımız ve okul hayatımız olumsuz etkilenir.
- B. Hastalıklara karşı direncimiz artar.
- C. Dersleri düzenli ve dikkatli bir şekilde takip edemeyiz.

10. Aşağıdakilerin hangisi, arkadaşlarımızla yaşadığımız sorunların çözümünü sağlamaz?

- A. hoşgörü
- B. saygı
- C. bencillik

11. Sınıf kitaplığımızdaki eskimiş kitaplarla ilgili bir çözüm sunmanız istenseydi hangisini önerirdiniz?

- A. Arkadaşlarımızla birlikte kitapları onarırdık.
- B. Çok eskimiş kitapları paket yaparken kullanırdık.
- C. Eskiyenleri çöpe atardık.

12. Aşağıdakilerden hangisi kişisel bakım ile ilgili değildir?

- A. Hasan'ın elini, yüzünü yıkaması
- B. İlknur'un dişlerini fırçalayıp saçlarını taraması
- C. Osman'ın bahçedeki çiçekleri sulaması

13. Hangisi okulda uyulması gereken kurallardandır?

- A. Koridorda top oynamak
- B. Derslere zamanında girmek
- C. Lavabolardaki muslukları açık bırakmak




14. Teneffüste arkadaşlarınızla bahçede top oynuyorsunuz. Ali'nin topa sert vurmasıyla top bahçe duvarını aşarak yola kaçtı. Ali, topu almak için nasıl bir yola başvurmalıdır?

- A. Bahçe duvarından atlayarak topu almalıdır.
- B. Kendisini ilgilendirmediğini, topu sahibinin alması gerektiğini söylemelidir.
- C. Nöbetçi öğretmen gözetiminde topu almalıdır.

15. Hangisi Atatürk'ün hayatıyla ilgili yanlış bir bilgidir?

- A. Atatürk, okula mahalle mektebinde başladı.
- B. Atatürk, annesini kaybedince eğitimine ara verdi.
- C. Atatürk, çalışkanlığı ile öğretmenlerinin dikkatini çekti.



1. Bilinçli tüketici, aşağıdaki davranışlardan hangisini yapmaz ?
- A. Aldığı ürünün son kullanma tarihine bakar.
- B. Haksızlığa uğradığı zaman hakkını arar.
- C. En çok reklamı yapılan malı satın alır.
2. Aşağıdakilerden hangisi okulda sağlığımızı olumsuz etkiler?
- A. Temiz lavabolar
- B. Yerlere atılan çöpler
- C. Havalandırılmış sınıflar
3. Aşağıdakilerden hangisi, bilgisayar kullanırken takip ettiğimiz yönergelerden biri değildir ?
- A. Soruları çöz.
- B. Sağ tuşu tıkla.
- C. Fare imlecini tıklat.
4. Aşağıdakilerden hangisi, duyguların paylaşıldığını göstermez ?
- A. Sevince ortak olmak
- B. Üzüntüyü paylaşmak
- C. Başarıları kıskanmak
5. "Okul yolunda güvenliğimiz için trafik kurallarına uymalıyız. Bunun yanında" cümlesini aşağıdakilerden hangisiyle anlamlı şekilde tamamlayabiliriz?
- A. Arkadaşlarımızla birlikte farklı yollardan eve dönebiliriz.
- B. Tanımadığımız kişilerin kabul edilemez önerilerini reddetmeliyiz.
- C. Herhangi bir servis aracına binerek okula gitmeliyiz.
6. Aşağıdakilerden hangisi, öğrenmemizi olumlu yönde etkiler?
- A. planlı çalışmak
- B. gürültülü ortamlar
- C. özel bir çalışma yerimizin olmaması
7. Aşağıdaki "duyu organı ile öğrenme şekli" eşleştirmelerinden hangisi yanlıştır ?
- A.  « müzikle öğrenme
- B.  « seyrederek öğrenme
- C.  « dokunarak öğrenme



8. Aşağıdakilerden hangisi, reddedilmesi gereken bir öneridir?

- A. Yalan söylemeyi bırakmamızın istenmesi
- B. Bize zarar verecek davranışlardan uzaklaşmamızın istenmesi
- C. Bir arkadaşımızın, okuldan kaçmayı önermesi

9. Aşağıdakilerden hangisi, okul yolunda sorun yaşamamak için yapılması gerekenlerden biridir?

- A. İnsanların olmadığı yerlerden okula gitmek
- B. Okula, güvenli yollardan gidip gelmek
- C. Yabancı insanlarla birlikte okula gitmek

10. Aşağıdakilerden hangisi, okuldaki öğrenci kulüplerinin kurulma sebeplerinden biri olamaz?

- A. Öğrencilerin; bilim, sanat, kültür ve spor alanlarında çalışmalar yapmalarının sağlanması
- B. Öğrencilerin; planlı çalışma ve yardımlaşma alışkanlığı kazanması
- C. Öğrencilerin; kulüplerin amaçları dışında çalışmalar yapmasının sağlanması

11. Canlıları ve doğa ile iç içe olmayı seven bir öğrenci hangi kulübü tercih etmelidir?

- A. Yeşili Koruma Kulübü
- B. Engelliler Dayanışma Kulübü
- C. Satranç Kulübü

12. Bulduğunuz yerleşim yerinde, trafikle ilgili bir sorun yaşıyorsa bunun çözümü için ne yapılabilir?

- A. Yolları trafiğe kapatabiliriz.
- B. Yetkililere, trafik işaret ve levhalarına ihtiyaç olduğunu bildiririz.
- C. Taşıtların, trafikten uzaklaştırılmasını isteyebiliriz.

13. Aşağıdakilerden hangisi, "sağlık, temizlik ve çevre kulübü" nün amacı olamaz?

- A. Çevreyi ağaçlandırmak
- B. Okulun bahçesini kirletmek
- C. Sağlığı koruma yollarını öğretmek

14. Aşağıdaki özelliklerin hangilerinin, bir arkadaşta bulunması istenir?

- A. çalışkan, dürüst, yetenekli
- B. bencil, tembel, geçimsiz
- C. kavgacı, kırıcı, plansız



1. Temel ihtiyaçlarımız, hangi seçenekte doğru olarak verilmiştir?

- A. telefon, bilgisayar, bisiklet
B. ev, elbise, yiyecek
C. tatil, eğlence, gezi

2. Yaşadığımız dünyada insanlardan başka canlılar da vardır. Aşağıdakilerden hangisi canlı grubunun dışında kalır?

- A. hayvan B. toprak C. bitki

3.

Sıcak yerlerde
uyumayı çok severim.
Evime sadığım.
Farelerin düşmanıyım.

Yukarıda özellikleri verilen hayvan hangisidir?

- A.  B.  C. 

4. Hayatımızı sürdürebilmek için sahip olmamız gereken bir takım şeyler vardır. Bunlara genel olarak ne ad verilir?

- A. ihtiyaç B. istek C. para

5. Evinde bitki ya da hayvan yetiştiren bir insanın amacı ne olabilir?

- A. Para kazanmak
B. Diğer insanlardan farklı olmak
C. Yetiştirdiği canlının sorumluluğunu almak

6. Aşağıdakilerden hangisi ev içinde yetiştirebileceğimiz bitkiler arasında yer almaz?

- A.  B.  C. 

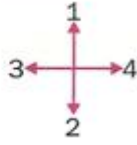
7. Aşağıdakilerden hangisi evimizdeki canlı varlıklardandır?

- A. raftaki oyuncak ayıcık
B. akvaryumdaki balık
C. doğadaki kuş

8. Aşağıdakilerden hangisi evlerde beslenebilecek hayvan grubunun dışındadır?

- A.  B.  C. 

9.



Yukarıdaki tabelada 4 rakamı, Güneş'in doğduğu yönde bulunmaktadır. **Buna göre, 2 rakamı hangi yöndedir?**

- A. kuzey B. güney C. batı

10. Pusulayı aşağıdaki alanlardan hangisinde kullanırsınız?

- A. Zamanı öğrenmede
B. Hava durumunu öğrenmede
C. Yön bulmada

11. Öz geçmişimizi bilmemiz bizim için niçin önemlidir?

- A. Öz geçmişimiz bize ait bilgilerden oluşur.
B. Öz geçmişimizi anne ve babamız bilir.
C. Kendimizi daha iyi tanıtmak için öz geçmişimizi bilmeliyiz.

12. Aşağıdakilerden hangisi öz geçmişimizi aktarırken kullanacağımız ifadeler arasında yer almaz?

- A. Ben 1997 yılında Anamur'da doğdum.
B. Komşularımız Ahmet amca ile Hatice ninedir.
C. İlköğretime Papatya İlköğretim Okulunda başladım.

13. Aşağıdaki bilgilerden hangisi ailemizin tarihçesi içinde yer almaz?

- A. Dedem, Soyadı Kanunu'ndan sonra "KARA" soyadını almış.
B. Büyük dedem Çanakkale Savaşı'na katılmış ve şehit olmuş.
C. Ben büyüyünce ünlü bir doktor olmak istiyorum.

14. Aşağıdakilerden hangisi, hayal unsuru, gerçekleşmesi mümkün olmayan bir istektir?

- A. Bir kuşun sırtına binip gökyüzünde dolaşmayı istemek
B. Bisikletinin olmasını istemek
C. Yeni oyuncaklar istenmesi

15. Yüzümüzü Güneş'in doğduğu tarafa dönersek sol kolumuzun bulunduğu yer, hangi yönü gösterir?

- A. kuzeyi B. güneyi C. doğuyu

16. Ahmet, kısa boylu bir arkadaşımızdır. Çok hızlı koşar, çevik ve atılgandır. Boyu ile kilosunu uyumludur. Yukarıda özellikleri verilen Ahmet'in hangi spor dalına yönelmesi uygun olur?

- A. basketbol
B. bale
C. atletizm



1. Hangi davranış, aile içindeki sorunların çözümüne katkıda bulunmaz?

- A. Tuvalet, lavabo gibi ortak kullanım alanlarını temiz bırakmak
- B. Aynı odayı paylaştığımız kardeşimizle odanın kullanımını konusunda fikir alışverişi yapmak
- C. Oturma odasına veya koridora eşya bırakmak

2. Hangisi, evimizin adresini ve telefon numarasını tam ve doğru olarak bilmemizin yararlarından biri olamaz?

- A. Güvenlikle ilgili sorunumuzu yetkililere bildirmek
- B. Tatil dönüşü evimizi rahat bir şekilde bulabilmek
- C. Acil durumlarda, yetkililerden yardım istemek

3. Hayatımızı kolaylaştırmak için birbirimizin yeteneklerine ihtiyaç duyarız.

Bu durum aşağıdakilerden hangisinin ortaya çıkmasına sebep olmuştur?

- A. meslek dalları
- B. iş yerleri
- C. yardımlaşma

4. Meslek seçiminde aşağıdakilerden hangisi dikkate alınmalıdır?

- A. Anne ve babamızın istediği
- B. En çok para kazanabileceğimiz mesleği seçmek
- C. İlgi ve yeteneklerimiz

5.



Yukarıdaki şemada 2 numaralı kısma yazılacak olan birim hangisidir?

- A. Ordu
- B. Polisler
- C. Sporcular

6. Çeşitli ağaç parçalarını kullanarak bunlardan kapı, pencere, masa gibi eşyalar yapılabilen bir kişi hangi mesleği yapmaktadır?

- A. marangoz
- B. doktor
- C. dokumacı

7. Öğrencilere genel olarak hep şu soru sorulur: **Büyüyünce ne olmak istiyorsun?**

Aşağıdakilerden hangisi öğrencilerin büyüyünce olmak istediklerinin **genel adıdır?**

- A. doktor
- B. asker
- C. meslek



8. Yeni bilgiler öğrenmemize yardım eden öğretmenlerimiz hangi iş alanında faaliyet gösterirler?

- A. sağlık
- B. eğitim
- C. güvenlik

9. Devlet kurumlarında çalışan görevlilere genel olarak ne ad verilir?

- A. meslek
- B. memur
- C. işçi

10. Aşağıdakilerden hangisi meslek dallarından biri **değildir?**

- A. öğretmenlik
- B. avukatlık
- C. gençlik

11. İşitme engelli olan bir kişiyle anlaşmanın **en kolay yolu** hangisidir?

- A. Sözle anlatma
- B. İşaretle gösterme
- C. Konuşma

12. I. Dokunma duyumuzu sözsüz iletişimde kullanabiliriz.

II. Sözsüz iletişimde jest ve mimiklerden yararlanır.

III. İnsanların benzer ve farklı özellikleri vardır.

Yukarıdaki ifadelerden hangileri doğrudur?

- A. I ve II
- B. II ve III
- C. I, II ve III

13. Aşağıdaki duyu organlarımızdan hangisi görsel şeyleri tanımamız içindir?



14. İşitme engelli olan bir kişiyle konuşurken aşağıdakilerden hangisini **kullanamayız?**

- A. sözlü ifade
- B. işaret dili
- C. yazılı anlatım

1. "Aile" ile ilgili olarak verilen bilgilerden hangisi yanlıştır?

- A. Toplumun en küçük birimidir.
- B. Akraba ve komşulardan oluşan topluluktur.
- C. Kişilerin kendini güvende hissettiği bir topluluktur.

2. Aşağıdakilerden hangisi ailenin yapısını belirleyen unsurlardan biri değildir?

- A. alışkanlıklar
- B. beğeniler
- C. evin odaları

3. Aşağıdaki eşyalardan hangisi diğerlerinden farklı bir maddeden yapılmıştır?

- A. buzdolabı
- B. kitaplık
- C. sehpa

4. ☹️ ☺️ ☹️

İnsanların düşündüklerini aktarırken vücutlarını kullanmalarına ne denir?

- A. sözlü iletişim
- B. beden dili
- C. görsel anlatım



5. Aşağıdaki ifadelerden hangisi ailenin önemini anlatmaktadır?

- A. Özel sorunlarımızı öncelikle ailemizle paylaşırız.
- B. Bütün insanlar yaşlanır ve değişirler.
- C. Her bireyin kendine özgü yönleri vardır.

6. Bizim ailemiz dört kişiden oluşmaktadır. Ben, annem, babam ve kardeşim. Ben, anneme benziyorum. Kardeşim, babama benziyor.

Yukarıdaki ifadelere göre aşağıdaki yargılardan hangisine ulaşılır?

- A. Ailede her birey fiziksel olarak birbirinden çok farklıdır.
- B. Aile bireylerinin fiziksel olarak birbirlerine benzeyen yönleri vardır.
- C. Ailede erkek çocuklar babaya, kız çocuklar anneye benzerler.

7. Anne, baba ve çocuklardan oluşan aileye ne ad verilir?

- A. geniş aile
- B. büyük aile
- C. çekirdek aile

8. Aşağıdaki cümlelerden hangisinde verilen bilgiler doğrudur?

- A. Aile bireyleri arasında sürekli çatışma olmalıdır.
- B. İnsanlar birbirleriyle iletişim kurarak anlaşılır.
- C. Aile bireyleri arasında fikir ayrılıkları olmamalıdır.

9. Aşağıdakilerden hangisi geniş aileyi oluşturur?

- A. Anne-baba-komşular
- B. Anne-baba-çocuklar
- C. Anne-baba-dede-çocuklarına

10. İnsanların olayları farklı değerlendirmesine ne ad verilir?

- A. Bakış açısı
- B. Görgü kuralları
- C. Değer yargısı

11. I. Üstlenilen görevin aksatılması
II. Sorumluluk paylaşımında adil olunması
III. Kişisel eşyaların düzenli tutulması
Yukarıdaki ifadelerin hangisi aile içinde bir sorunun oluşmasına yol açabilir?

- A. I
- B. II
- C. III

12. Okul çağındaki bir çocuğa aşağıdaki sorumluluklardan hangisi düşmez?

- A. Okul kurallarına uymak
- B. Derslerini düzenli çalışmak
- C. Ailenin geçimini sağlamak

13. "Aile bireyleri zaman zaman bir araya gelerek aile içi ilişkileri gözden geçirir. Aile bireyleri arasında dağılımı yapılır." Yukarıdaki boşluğu hangi kelime ile tamamlayabiliriz?

- A. görev
- B. adalet
- C. mutluluk

14. Aşağıdakilerden hangisi okul çağındaki bir çocuğun ailedeki görevleri arasında bulunmaz?

- A. Okula düzenli giderek ve derslerine çalışarak başarılı olmak
- B. Evin ihtiyaçlarını karşılamak
- C. Anne ve babaya ev eşlerinde yardımcı olmak

15. "Evde herkesin bir işi var. Aile bireyleri paylaştıkça işleri daha kolay yaparlar." cümlesini en uygun hangi sözcükle tamamlayabiliriz?

- A. duyguları
- B. mutlulukları
- C. sorumlulukları






1. Aşağıdakilerin hangisi, bilinçli bir tüketicinin yapacaklarından biri değildir?

- A. Alışverişte aynı özellikteki mallardan daha kalitesiz ve pahalı olanı seçer.
- B. Alınan mallara ait faturayı veya satış fişini alır.
- C. Alınan malın TSE ve garanti belgesinin olmasına dikkat eder.

2. Aşağıdaki ifadelerden hangisi doğrudur?

- A. Planlı çalışmak, her zaman başarımızı artırır.
- B. Öğrenmede, duyu organlarımızın önemi yoktur.
- C. Her öğrencinin öğrenme şekli aynıdır.

3. Aşağıdakilerden hangisi, okulda bulunan teknolojik bir araç değildir?

- A. 
- B. 
- C. 

4. Aşağıdakilerden hangisi, insanların temel ihtiyaçlarından biridir?

- A. gezme B. barınma C. çalışma

5. Evde beslediğimiz hayvanların, aşağıdakilerden hangisine ihtiyacı daha azdır?

- A. hava B. toprak C. su




6. Arkadaşınız Ebru, dergi ve gazete okumaktan hoşlanır. Ayrıca okuduklarından ilginç ve güzel olan yazıları başkalarıyla da paylaşmayı sever. Buna göre Ebru hangi kulüp çalışmalarına katılmalıdır?

- A. Trafik Güvenliği ve İlk Yardım Kulübü
- B. Bilinçli Tüketici Kulübü
- C. Yayın ve İletişim Kulübü

7. Aşağıdaki sözlerden hangisi "temiz olmak ve çevremizi temiz tutmak" ile ilgili değildir?

- A. Arkadaşımızın kalbi tertemizdir.
- B. Herkes evinin önünü temizlerse sokaklar pırıl pırıl olur.
- C. Nasıl bulmak istiyorsan öyle bırak.

8. Okula geliş ve gidişlerde trafik kurallarını hatırlatan işaret ve levhalar görürüz. Aşağıda verilen trafik işaretlerinden hangisinin anlamı yanlıştır?

- A.  B.  C. 
- yaya yolu ışıklı işaret bisiklet girebilir

9. Evde beslenebilecek aşağıdaki üç canlıdan hangisi diğer ikisinden daha farklıdır?

- A.  B.  C. 

10. Aşağıdakilerden hangisi, okuldaki kulüp çalışmalarının bir sonucu olamaz?

- A. Öğrenciler, kendi aralarında görev paylaşımı yapar.
B. Öğrenciler plansız çalışma alışkanlığı kazanır.
C. Bütün öğrenciler yeteneklerine göre sınıflandırılır.

11. Pusula ile ilgili verilen bilgilerden hangisi yanlıştır?

- A. Pusula, en iyi yön bulma aracıdır.
B. Pusulanın mavi renkli göstergesi daima kuzeyi gösterir.
C. Pusulanın mavi renkli göstergesi doğuyu gösterir.

12. Atatürk'ün aşağıdaki sözlerinden hangisi onun insan sevgisini anlatmaktadır?

- A. Ne mutlu Türk'üm diyene!
B. Yurtta barış, dünyada barış.
C. Köylü, milletin efendisidir.

13. Aile büyüklerimizin hayatıyla ilgili ifadelerden hangisi doğrudur?

- A. Aile büyüklerimizin hayatında bir değişiklik olmamış.
B. Büyüklerimizin çocukken oynadıkları oyunlar ile şimdiki oyunlar arasında pek değişiklik olmamış.
C. Dedem ve ninem, gençliklerinde yapabildikleri birçok şeyi şimdi rahat yapamıyorlarmış.

14. Aşağıdaki yüz ifadelerinden hangisi, gördüğü insan karşısında mutlu olan bir kişiyi belirtir?

- A.  B.  C. 

15.



Yanda gördüğünüz aile için aşağıdakilerden hangisi söylenemez?

- A. Bu aile, geniş bir ailedir.
B. Bu ailede üç nesil birlikte yaşamaktadır.
C. Bu ailenin yapısı çekirdek ailedir.

9. Bilinçli bir tüketici aşağıdaki-lerden hangisini yapmaz?

- A. Her zaman en ucuz ürünü tercih eder.
- B. Alışveriş için ihtiyaçlarını ve isteklerini belirler.
- C. Ekonomik gücüne göre alışveriş yapar.

10. Günlük hayatımızda işlerimizi düzenli yapmak ve başarılı olmak için ne yapmalıyız?

- A. Vaktimizi oyun oynayarak değerlendirmeliyiz.
- B. Günümüzün büyük bir kısmını uyuyarak geçirmeliyiz.
- C. İşlerimizi planlayarak yapmalıyız.

11. Aşağıdaki davranışlardan hangisi israfa örnektir?

- A. Muslukları açık bırakmamak
- B. Lüzumsuz elektrik kullanmak
- C. Lavabolarda ihtiyaç kadar peçete kullanmak

12. Aşağıdakilerden hangisi evimizde kullandığımız eşyalar-dan biri olamaz?

- A. 
- B. 
- C. 

13. "Sonsuz bir hürriyet düşünmek mümkün değildir."

(M. Kemal Atatürk)

Atatürk, bu sözle neyi ifade etmek istemiştir?

- A. Her insanın sınırsız özgürlüğü vardır.
- B. Özgürlüğün bazı sınırları vardır.
- C. İnsanlar sadece kendi özgürlüklerini düşünmelidir.

14. Aşağıdakilerden hangisi, çevremizle sosyal ilişki geliştirebilmemiz bakımından önemlidir?

- A. Kendimize yararı olan işler yapmak
- B. Toplumsal sorunlardan uzak durmak
- C. Huzurevi ve hasta ziyaretleri yapmak

15. Aşağıdaki davranışlardan hangisi görgü kurallarına uygun değildir?

- A. Sınıf içerisinde söz alarak konuşmak
- B. Arkadaşının sözünü kesmeden dinlemek
- C. Telefonu, arayan kişinin yüzüne kapatmak

1. * Gürültü yapmak
* Seyahat etmek
* İlköğrenimini tamamlamak
* Yüksek sesle müzik dinlemek
Yukarıdakilerden kaç tanesi hak ve hürriyetlerimiz arasında yer alır?

A. 2 B. 3 C. 4

2. "Atatürk, insanların hak ve hürriyetlerine önem vermiştir." Aşağıdakilerden hangisi ile temel hak ve hürriyetler güvence altına alınmıştır?

A. özgürlük
B. anayasa
C. cumhuriyet

3. I. Trafik kurallarına uymamak
II. Yemek yerken ağız şapırdatmak
III. Otobüste yaşlılara yer vermek
Yukarıdakilerden hangileri görgü kurallarındandır?

A. Yanlız III
B. I-II-III
C. II ve III

4. Gerçekleşmesini istediğimiz ve gerçekleşmesi için çaba harcadığımız değerlere ne ad verilir?

A. iş B. amaç C. plan

5. Amaçlara ulaşabilmek için bir takım işlemler yapmak gerekir. Aşağıdakilerden hangisi işlem basamaklarından biri olamaz?

A. Amaç belirleyerek işe başlamak
B. Yapılacak işle ilgili planlar yapmak
C. Başarısız olunacağını düşünmek

6. "Amaçlarını bilerek, planlı çalışan kişi" cümlesini hangi ifade ile tamamlayabiliriz?

A. mutsuz olur.
B. başarılı olur.
C. düzenli olur.

7. Amacını gerçekleştirmek üzere çalışan bir kişi aşağıdakilerden hangisini yapmaz?

A. Plansız çalışır.
B. Olumlu eleştirileri dikkate alır.
C. Güçlükleri yenmeye çalışır.

8. İlköğretim 3. sınıfa giden bir öğrencinin yıl sonundaki hedefi aşağıdakilerden hangisi olabilir?

- A. Okulunu başarıyla bitirmek
- B. OKS sınavını kazanmak
- C. Bir üst sınıfa başarıyla geçmek

9. Başladığı bir işi bitirmekte zorlanan bir arkadaşınıza hangi sözü söylemeniz doğru olur?

- A. Hadi tekrar dene!
- B. Başaramayacağını biliyordum.
- C. Beceriksizsin sen!

10. Toplumsal ilişkilerimizi düzenleyen kurallara ne ad verilir?

- A. özgürlük
- B. görgü kuralları
- C. haklar

11. Aşağıdakilerden hangisi aile içi kutlamalardan biri değildir?

- A. Doğum günleri
- B. Evlilik yıl dönümleri
- C. Millî bayramlar

12. Aşağıdakilerden hangisi mi-zah öğelerinden biri değildir?

- A. fıkralar
- B. küçük şakalar
- C. deneyler

13. Aşağıda gruplar ve liderler eşleştirilmiştir. Hangi eşleştirme yanlıştır?

<u>Grup</u>	<u>Lider</u>
A. sınıf	⇒ öğretmen
B. apartman	⇒ kapıcı
C. futbol takımı	⇒ kaptan

14. Her gruba öncülük eden bir lider vardır.

Liderlerin olmaması durumunda aşağıdakilerden hangisi ortaya çıkabilir?

- A. Grup üyeleri arasında yetki karmaşası olur.
- B. Grup içinde birlik ve beraberlik olur.
- C. Herkes kurallara uygun davranır.

15. Aşağıdaki ifadelerden hangisi yanlış bilgi içerir?

- A. Liderler herkesi ilgilendiren fikirler üretirler.
- B. Liderler buldukları gruba öncülük ederler.
- C. Liderler, yönetimde etkili değildir.

16. Aşağıdakilerden hangisi bir liderde bulunması gereken özelliklerden biri değildir?

- A. Etkileyici konuşur.
- B. Sorunlar karşısında çaresizdir.
- C. Yeterince bilgiye sahiptir.



1. Aşağıdakilerden hangisi evimizdeki kişisel eşyalarımızdan değildir?

- A. çanta
- B. kitap
- C. buzdolabı

2. "Tutumlu bir çocuk" aşağıdaki davranışlardan hangisini yapar?

- A. Eşyalarını düzenli ve özenli kullanır.
- B. Kendine ait olmayan eşyaları kullanmaz.
- C. Eşyalarını gelişigüzel kullanır.

3. Aşağıdaki acil numaralardan hangisi yangın ihbar telefonudur?

- A. 118
- B. 110
- C. 155

4. Çevremizi ağaçlandırmanın faydaları arasında hangisi gösterilemez?

- A. Çevremizin görünümünü güzelleştirir.
- B. Heyelan, çığ gibi doğa olaylarını engeller.
- C. Tarım alanlarının azalmasına neden olur.

5. Aşağıdaki olaylardan hangisinin oluşumunda insanların doğrudan etkisi vardır?

- A. deprem
- B. yangın
- C. heyelan

6. Aşağıdakilerden hangisi yangın söndürmede kullanılacak bir yöntem değildir?

- A. Yangının olduğu bölgeye patlayıcı madde atmak
- B. Yangın ihbarını 110'a bildirmek
- C. Yangına yangın söndürücü ile müdahale etmek

7. Aşağıdakilerden hangisi doğal afetler arasında yer almaz?

- A. sel
- B. yağmur
- C. çığ

8. Aşağıdaki ifadelerden hangisi iyi bir vatandaşın özelliklerini anlatmaktadır?

- A. Çalışan, ülkesine ve milletine değer veren insandır.
- B. Ülke kaynaklarını bilinçsizce kullanır.
- C. Başkalarının hakkına saygı göstermez, kendini düşünür.

9. Aşağıdakilerden hangisi evin bölümlerinden biri değildir?

- A. mutfak
- B. sınıf
- C. oturma odası

10. Aşağıdakilerden hangisi doğal afetlerin etkilerini en aza indirmek için uygulanacak yöntemlerden biri değildir?

- A. Çevrenin ağaçlandırılması
- B. Evlerin dere yatağına yapılması
- C. Evlerin depreme dayanıklı yapılması

11. Aşağıdakilerden hangisi ilk yardım malzemesi değildir?

- A. gazlı bez
- B. yara bandı
- C. anahtarlık

12. Ülkemizde kaç tane coğrafi bölge vardır?

- A. 5
- B. 6
- C. 7

13. Aşağıdaki bilgilerden hangisi doğru değildir?

- A. Güneş doğudan doğar batıdan batar.
- B. Deprem sırasında asansöre binilir.
- C. Pusula yön bulmamıza yardımcı olur.

14. Aşağıdakilerden hangisi yangın sırasında yapılacak bir davranış değildir?

- A. Yangını herkese haber vermek
- B. Elbise dolabına saklanmak
- C. Yangını söndürmeye çalışmak

15. Yaşadığımız ev ve aile ortamını nasıl adlandırırız?

- A. yuva
- B. sınıf
- C. küme

16. Yeryüzünün tamamının veya bir bölümünün belirli oranlarda küçültülerek kâğıt üzerine çizilmesine ne ad verilir?

- A. kroki
- B. proje
- C. harita

17. Harita üzerinde su alanları hangi renkle gösterilir?

- A. mavi
- B. yeşil
- C. sarı

18. Aşağıdaki bilgilerden hangisi yanlıştır?

- A. Yeryüzünde karaların kapladığı alan, suların kapladığı alandan fazladır.
- B. Ovalar, dağlar, tepeler, göller yeryüzü şekilleridir.
- C. Harita üzerinde genellikle dağlar kahverengi ile gösterilir.



1. Aşağıdakilerden hangisi, şu anda yapamayıp da daha sonra yapabileceğimiz işlerdendir?
 - A. Bisiklet sürmek
 - B. Kitap okumak
 - C. Araba sürmek
2. Aşağıdakilerden hangisi, okula başlamadan önce yapamayıp da şu anda yapabildiğimiz işlerdendir?
 - A. Düzgün ve hızlı okumak
 - B. Oyun oynamak
 - C. Üç tekerlekli bisiklet sürmek
3. Aşağıda, bazı davranışlar ve sonuçları eşleştirilmiştir. Hangi eşleştirme yanlıştır?
 - A. Haksızlığa uğramak- kızgınlık
 - B. Öğretmenimizin güzel sözleri- mutluluk
 - C. Bir yerimizin acıması- sevinç
4. Aşağıdakilerden hangisi, aile bireylerimizin geçmişleri hakkında bilgi vermez?
 - A. Aile albümü
 - B. Özel günlerde çekilmiş kamera kayıtları
 - C. Şu anda yaşadığımız yer
5. Hangi seçenekte, bir meslek ve bu meslekle ilgili özellikler doğru olarak eşleştirilmiştir?
 - A. Bilgisayar mühendisi⇒işlem yapmak ve makinelerle uğraşmayı sevmek
 - B. Doktor⇒cesaretsiz olmak ve ellerini iyi kullanamamak
 - C. Öğretmen⇒sabırsız olmak ve çocukları sevmemek
6. Aşağıdakilerden hangisi Atatürk'ün kişisel özelliklerinden biri değildir?
 - A. zeki ve çalışkan olması
 - B. kendini düşünen biri olması
 - C. ileri görüşlü olması
7. Aşağıdaki tarihlerden hangisi Atatürk'ün hayatıyla ilgili değildir?

A. 1881 B. 1955 C. 1938
8. Aşağıdakilerden hangisi Atatürk'ün akrabalarından biri değildir?
 - A. Makbule Hanım
 - B. İsmet Paşa
 - C. Zübeyde Hanım

9. TBMM'nin açılışı hangi tarihte gerçekleşmiştir?

- A. 19 Mayıs 1919
- B. 29 Ekim 1923
- C. 23 Nisan 1920

10. Aşağıdaki tarihlerden hangisinden sonra ülkemizin adı "Türkiye Cumhuriyeti Devleti" olarak değişmiştir?

- A. 23 Nisan 1920
- B. 29 Ekim 1923
- C. 30 Ağustos 1922

11. Aşağıdakilerden hangisi Atatürk'ün getirdiği yenilikler arasında yer almaz?

- A. Arap harflerinin kabulü
- B. Ölçülerde yenilikler yapılması
- C. Medeni Kanun'un kabulü

12.



Yukarıdaki resim aşağıdakilerden hangisi ile ilgilidir?

- A. Şapka İnkılabı
- B. Sanayi İnkılabı
- C. Harf İnkılabı

13. Aşağıdakilerden hangisi lider insanların özelliklerinden biri değildir?

- A. sinirli
- B. sabırlı
- C. cesur

14. Aşağıdakilerden hangisi Kurtuluş Savaşı'mızın başlangıç tarihidir?

- A. 23 Nisan 1920
- B. 19 Mayıs 1919
- C. 23 Nisan 1923

15. Hangisi karaları oluşturan bir yeryüzü şeklidir?

- A. ova
- B. göl
- C. deniz

16. Devletimizin ilk cumhurbaşkanı kimdir?

- A. Kazım Karabekir
- B. Mustafa Kemal Atatürk
- C. İsmet İnönü

17. Mustafa Kemal'e "Atatürk" soyadını kim vermiştir?

- A. meclis
- B. babası
- C. halk



Adı Soyadı:..... Sınıfı/Numarası:..... /

SINIF

HAYAT BİLGİSİ

DÜN, BUGÜN, YARIN

Test 15

1. Bayrak töreniyle ilgili verilen bilgilerden hangisi yanlıştır?

- A. Bayrak töreni millî bayramlarda yapılır.
- B. Okullarda hafta başı ve hafta sonu bayrak töreni yapılır.
- C. Okullarda hafta içi her sabah bayrak töreni yapılır.

2. Aşağıdakilerden hangisi millî sembollerimizden biridir?

- A. bayrağımız
- B. bayramlarımız
- C. inançlarımız

3. Aşağıdakilerden hangisi millî bayramlarımız arasında yer almaz?

- A. Cumhuriyet Bayramı
- B. Kurban Bayramı
- C. Zafer Bayramı

4. Aşağıdakilerden hangisi, bayram etkinliklerinden biri değildir?

- A. Okul eşyalarının düzenli kullanılması
- B. Okulumuzun ve sınıfların süslenmesi
- C. Geceleri fener alayı düzenlenmesi

5. Aşağıdaki eşleştirmelerden hangisi doğrudur?

- A. 19 Mayıs → Ulusal Egemenlik ve Çocuk Bayramı
- B. 23 Nisan → Atatürk'ü Anma, Gençlik ve Spor Bayramı
- C. 29 Ekim → Cumhuriyet Bayramı

6. Halkın kendi kendini yönetmesine ne ad verilir?

- A. Cumhuriyet
- B. Yönetim
- C. Özgürlük

7. Cumhuriyetimizi korumak için bize düşen görevler arasında hangisi yer almaz?

- A. Millî değerlerimize sahip çıkmalıyız.
- B. İç ve dış düşmanların isteklerine cevap vermeliyiz.
- C. Atatürk ilke ve inkılaplarını öğrenmeliyiz.

8. Hangisi, cumhuriyetin ilanından sonra yaşanan gelişmelerden biridir?

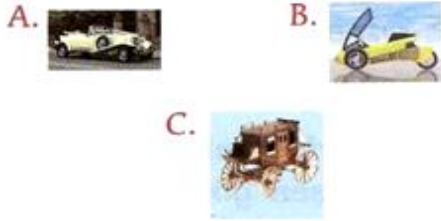
- A. Türkiye Büyük Millet Meclisinin açılması
- B. Kurtuluş Savaşı'nın başlaması
- C. Atatürk'ün ölümü



9. Sal ve yelkenli taşıtlarla başlayan deniz taşımacılığı şimdilerde modern gemilerle yapılıyor. Yukarıdaki ifadeye göre aşağıdakilerden hangisi doğrudur?

- A. Günümüzdeki deniz yolu taşıtları ilk icat edilenlerle aynıdır.
- B. Deniz yolu taşımacılığı geçmişten günümüze gelişmiştir.
- C. Deniz yolu taşımacılığı en güvenli taşımacılık şeklidir.

10. Aşağıdaki araçlardan hangisi diğerlerine göre daha eski bir buluştur?



11.  ASİMO İSTANBUL'DA:
İnsan özellikleri taşıyan robot Asimo tanıtım amacıyla İstanbul'a getirildi.

Yukarıdaki gazete haberinde sözü edilen robotu icat eden kişiye ne ad verilir?

- A. buluş
- B. mucit
- C. icat

12. Aşağıdaki iletişim araçlarından biri, diğerlerinden farklı bir özelliğe sahiptir. Farklı olan iletişim aracı hangisidir?

- A. dergi
- B. mektup
- C. telefon

13. İletişimde kullanılmak üzere uzayda uydularımız vardır. Bu uyduların genel adı nedir?

- A. telsiz
- B. Türksat
- C. Telekom

14. İnternete bağlanarak dünyadaki gelişmeleri izleyebiliriz. Uzaktaki insanlarla sesli ve görüntülü iletişim kurabiliriz. Yukarıda sözü edilen işleri aşağıdaki araçlardan hangisi ile yapabiliriz?

- A. bilgisayar
- B. televizyon
- C. radyo

15. Öğretmenimizin verdiği bir araştırma ödevini en kapsamlı biçimde hazırlayabilmek için aşağıdakilerin hangisinden yararlanabiliriz?

- A. televizyondan
- B. gazetelerden
- C. internetten

1. Aşağıdakilerden hangisi toplu taşıma aracı değildir?



2. a. Çok miktarda bilgi depolanabilir.
b. Bilgi teknolojisi içinde en gelişmiş üründür.
c. Masaüstü ve dizüstü çeşitleri vardır.

Yukarıda özellikleriyle tanımlanan teknolojik ürün hangisidir?



3. Çevremizde olup biten olayları anlayabilmek için nelerden faydalanırız?

- A. arkadaşlarımızdan
B. televizyondan
C. duyu organlarımızdan

4. Hangi hayvanın yaşama alanı farklıdır?

- A. deniz anası
B. balık
C. tavşan

5. Aşağıdakilerden hangisi, aile büyüklerinin çocukluk yıllarında oynadıkları oyunlardan biri değildir?

- A. bilgisayar oyunu
B. saklambaç
C. ip atlamak

6. "Türk çocukları atalarını, onların eserlerini tanıdıkça daha güvende olacaktır."

(M.Kemal Atatürk)

Atatürk bu sözle neyi öğretmektedir?

- A. Kültürümüzü yaşatmamızı
B. Geçmişimizi öğrenmeyi
C. Avrupa Birliğinin önemini

7. Aşağıdakilerden hangisi tarihî eserlerimizden biri değildir?

- A. Uludağ Kayak Merkezi
B. Mevlana Türbesi
C. Topkapı Sarayı

8. Kültürel değer taşıyan eserlerin sergilendiği yerlere ne ad verilir?

- A. cami
B. üniversite
C. müze

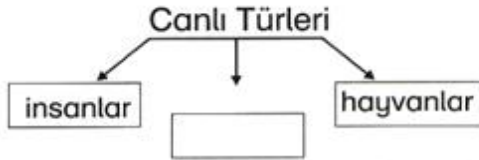
9. Canlı varlıklarda görülen doğma, büyüme, çoğalma ve ölme olaylarına ne ad verilir?

- A. gelişme
- B. değişim
- C. oluşum

10. Dünyada yaşayan canlıların hepsine ısı ve ışık kaynağı olan gök cismi hangisidir?

- A. Ay
- B. Dünya
- C. Güneş

11.



Yukarıdaki tabloya göre boş bırakılan kutucuğa hangisi yazılmalıdır?

- A. canlılar
- B. çocuklar
- C. bitkiler

12. Aşağıdaki canlı türlerinden hangisinin üremesi yumurta ile olur?




13. Aşağıdaki canlı türlerinden hangisi, insanlara faydası bakımından diğerlerinden farklıdır?



14. Yeryüzündeki bütün canlılar beslenebilmek için birbirlerine ihtiyaç duyarlar. Bu olaya **besin zinciri** denir.

Aşağıdakilerden hangisinde besin zinciri sıralaması yanlış yapılmıştır?



15. "Su" ile ilgili olarak verilen bilgilerden hangisi yanlıştır?

- A. Hiçbir varlık susuz yaşayamaz.
- B. Su, dünyanın yarısını kaplar.
- C. İnsan vücudunun üçte ikisi sudur.

16. Hava durumlarını gösteren simgeler anlamlarıyla eşleştirilmiştir. Hangisi yanlıştır?

Simge

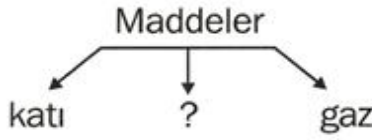
Anlamı

- A.  bulutlu
- B.  karlı
- C.  güneşli

1. Boşlukta yer kaplayan, duyu organlarımızla hissettiğimiz her türlü canlı ve cansız varlığa ne ad verilir?

A. cisim B. uzay C. madde

2.



Yukarıdaki soru işareti (?) yerine hangi kelime yazılmalıdır?

A. soğuk B. sıvı C. sıcak

3. Maddeler bazı dış etkilerle şekil değişikliğine uğrayabilirler. Aşağıdakilerden hangisi maddelerdeki değişime örnektir?

A. buzun erimesi
B. suyun akması
C. kolonyanın kokusu

4. * Hava durumları ile ilgili tahminler yapar.
* Hava raporları hakkında insanları bilgilendirir.
Yukarıda özellikleri sıralanan kurum hangisidir?

A. Radyo Televizyon Kurulu
B. Meteoroloji Kurumu
C. Türk Hava Kurumu

5. Aşağıdakilerden hangisi gaz hâlindeki bir maddedir?

A. gazoz
B. duman
C. benzin

6. Aşağıdakilerden hangisi sıvı maddelere örnek verilebilir?

A. su B. zeytin C. sünger

7. Dünya'da farklı özellikler gösteren dört mevsim vardır. Mevsimlerin oluşumu neye bağlıdır?

A. Dünya'nın kendi eksenini etrafında dönmesine
B. Ay'ın, Dünya ile Güneş'in arasında kalmasına
C. Dünya'nın, Güneş etrafında dönmesine

8. * Ağaçlar sararır ve yapraklarını dökmeye başlar.
* Günler kısalmaya, havalar soğumaya başlar.
Yukarıda özellikleri verilen mevsim hangisidir?

A. ilkbahar
B. kış
C. sonbahar

9. Aşağıdakilerden hangisi zamanın birimlerinden değildir?

- A. çeyrek B. yıl C. dakika

10. Dünya'mız, Güneş etrafındaki dönüşünü ne kadar sürede tamamlar?

- A. 365 gün 6 saat
B. 24 saat
C. 365 gün 1 ay

11.



Saat: 20.00

Yukarıdaki saat yaklaşık olarak hangi vakti göstermektedir?

- A. akşam B. öğle C. sabah

12. Aşağıdakilerden hangisi 1 saatten daha uzun bir zamanı ifade eder?

- A. 52 dakika
B. yarım gün
C. 90 saniye

13. Yerküreyi oluşturan katmanlardaki kırılmalar oluşumuna sebep olur. Yukarıdaki cümleyi tamamlayan kelime hangisidir?

- A. heyelan B. deprem C. sel

14. *Denizde dev dalgaların oluşması
* Biriken karların yuvarlanarak düşmesi

Yukarıda, aşağıdakilerden hangisi ile ilgili bilgi yoktur?

- A. tsunami B. çığ C. heyelan

15. Sel, heyelan gibi olayların zararlarını en aza indirmek için ağaç dikilmelidir.

Aşağıdaki kuruluşlardan hangisi ağaç dikimine öncülük etmektedir?



- A. UNESCO
B. TEMA
C. Sağlık Bakanlığı

16. Aşağıdakilerden hangisi çevreyi kirleten etmenler arasında yer almaz?

- A. bitkiler
B. tarım ilaçları
C. fabrika atıkları

17. Aşağıdakilerden hangisi evdeki atıkların tekrar kullanılabilmesine örnek verilemez?

- A. Yoğurt kovasının saksı olarak kullanılması
B. Kola kutusunun kalemlik olarak kullanılması
C. Eskiyen mini fırının eskiciye satılması



1. Aşağıdakilerden hangisi her gün kullandığımız okul araçlarımızdan değildir?



2. Öğrenciler, grup çalışmalarında masa etrafında toplanıyorlar. Hasan, istemeden Alperen'in ayağına basıyor. Canı yanan Alperen, bunun kaza ile olduğunu fark ediyor. Hasan özür dilerken o, tebessüm ederek şöyle diyor: "Önemli değil, canın sağ olsun."

Yukarıdaki olayda Alperen'in davranışını açıklayan en uygun terimler hangi seçenektir?

- A. sevgi ve hoşgörü
B. barış ve saygı
C. doğruluk ve dürüstlük

3. Aşağıdakilerden hangisi millî bayramlarımızdandır?

- A. Ramazan Bayramı
B. Cumhuriyet Bayramı
C. Kurban Bayramı

4. Aşağıdakilerden hangisi arkadaşlık ilişkilerini güçlendirmez?

- A. Hata edince özür dilemek
B. En küçük iyiliğe bile teşekkür etmek
C. Arkadaşının hatasını yüzüne vurmamak

5. Bir yerde su kesintisi yaşıyorsa aşağıdakilerden hangisi bunun sebeplerinden biri olamaz?

- A. Orada yaşayan insanların elektrik israfı yapması
B. O yörede yağışların azalması
C. Orada suyun gereksiz yere harcanması

6. Aşağıdaki besinlerden hangisi, çocukların büyüüp gelişmesinde ve kemiklerinin güçlenmesinde daha etkilidir?



7. Okula gidiş ve gelişlerimizde aşağıdakilerden hangisini yapmak bizim için tehlikeli olur?

- A. Arkadaşlarımızla selamlaşmak
- B. Trafik işaret ve levhalarına dikkat etmek
- C. Tanımadığımız kişilerin hoşumuza giden tekliflerini kabul etmek



8. Burhan, sabah erken kalkıp Güneş'in doğuşunu seyrediyor. Tam bu sırada, Burhan'ın arka tarafı hangi yönü gösterir?

- A. batı
- B. güney
- C. kuzey

9. Hangisi doğru bir davranış değildir?



10. Şehirde kaybolan bir çocuğun, evini kolayca bulması için aşağıdaki bilgilerden hangisine gerek yoktur?



- A. evin kaç odalı olduğu
- B. ev telefonu
- C. evinin adresi



11. Öğretmen sınıfa çeşitli canlıların resimlerini dağıttı. Öğrencilerde üçer kart vardı. Çocuklar bu kartları inceleyip arkasına ismini yazarak ilgili kutuya atıyordu. Ali'nin elindekiler sırasıyla koyun resmi, çam ağacı ve bir bebek fotoğrafı idi. Buna göre, bu resimleri sırasıyla hangi kutulara atması gerekir?

- A. insan - hayvan - bitki
- B. hayvan - bitki - insan
- C. bitki - hayvan - insan

12. Çocukları seven ve onlarla iletişimi iyi olan birinin hangi mesleği seçmesi uygun olur?

- A. makine mühendisliği
- B. gıda mühendisliği
- C. öğretmenlik

HAYAT BİLGİSİ TESTLERİ CEVAP ANAHTARI

Test-1	1.B 2.A 3.B 4.C 5.A 6.C 7.A 8.A 9.A 10.C 11.B 12.B 13.C 14.B 15.A
Test-2	1.A 2.B 3.C 4.B 5.C 6.A 7.B 8.A 9.C 10.C 11.B 12.B 13.C
Test-3	1.A 2.B 3.C 4.B 5.B 6.C 7.C 8.C 9.B 10.A 11.A 12.B 13.A 14.A 15.C
Test-4	1.C 2.B 3.B 4.C 5.B 6.A 7.B 8.C 9.A 10.A 11.C 12.B 13.A 14.B 15.A
Test-5	1.C 2.A 3.B 4.C 5.B 6.B 7.A 8.C 9.B 10.C 11.A 12.C 13.B 14.C 15.B
Test-6	1.C 2.B 3.A 4.C 5.B 6.A 7.C 8.C 9.B 10.C 11.A 12.B 13.B 14.A
Test-7	1.B 2.B 3.A 4.A 5.C 6.C 7.B 8.B 9.B 10.C 11.C 12.B 13.C 14.A 15.A 16.C
Test-8	1.C 2.B 3.A 4.C 5.B 6.A 7.C 8.B 9.B 10.C 11.B 12.C 13.C 14.A
Test-9	1.B 2.C 3.A 4.B 5.A 6.B 7.C 8.B 9.C 10.A 11.A 12.C 13.A 14.B 15.C
Test-10	1.A 2.A 3.C 4.B 5.B 6.C 7.A 8.C 9.A 10.B 11.C 12.B 13.C 14.B 15.C

Test-11 1.C 2.B 3.A 4.B 5.C 6.A 7.A 8.B 9.A 10.C 11.B
12.A 13.B 14.C 15.C

Test-12 1.A 2.B 3.A 4.B 5.C 6.B 7.A 8.C 9.A 10.B 11.C
12.C 13.B 14.A 15.C 16.B

Test-13 1.C 2.A 3.B 4.C 5.B 6.A 7.B 8.A 9.B 10.B 11.C
12.C 13.B 14.B 15.A 16.C 17.A 18.A

Test-14 1.C 2.A 3.C 4.C 5.A 6.B 7.B 8.B 9.C 10.B 11.A
12.C 13.A 14.B 15.A 16.B 17.A

Test-15 1.C 2.A 3.B 4.A 5.C 6.A 7.B 8.C 9.B 10.C 11.B
12.C 13.B 14.A 15.C

Test-16 1.A 2.B 3.C 4.C 5.A 6.B 7.A 8.C 9.B 10.C 11.C
12.B 13.C 14.A 15.B 16.A

Test-17 1.C 2.B 3.A 4.B 5.B 6.A 7.C 8.C 9.A 10.A 11.A
12.B 13.B 14.C 15.B 16.A 17.C

Test-18 1.B 2.A 3.B 4.C 5.A 6.A 7.C 8.A 9.C 10.A 11.B 12.C