

1.SINIF MATEMATİK DERSİ GENEL DEĞERLENDİRME

1-) 3 bütün ekmek, kaç yarım ekmek eder?



- A) 5 B) 7 C) 6

2-) Can'ın kumbarasından aşağıdaki paralar çıkıyor. Can bu paraların 12 TL'sini harcarsa kaç lirası kalır?



- A) 25 TL B) 10 TL C) 18 TL

3-)Bugün 1 Haziran Salı ise 3 gün sonra tarih ne olur?

- A) 3 Haziran Perşembe
B) 4 Haziran Cuma
C) 5 Haziran Çarşamba


4-) Pınar 12 yaşındadır. Kardeşi Pınar'dan 3 yaş küçüktür. Pınar ile kardeşinin yaşlarının toplamı kaçtır?

5-) 19 tane cevizimin 14 tanesini arkadaşlarıma verdim. Cevizlerimin azaldığını gören annem bana 8 tane daha ceviz verince kaç cevizim olur?

6-) Bugün günlerden Pazar ise dün ve yarın hangi günler olur?

- A)Cumartesi - Pazartesi
B)Cumartesi - Salı
C)Pazartesi - Çarşamba

7-)





Yukarıdaki hayvanları kıstadan uzuna doğru sıralarsak 2 ve 4. sırada hangi hayvanlar olur?

8-)Aşağıdaki geometrik cisimlerin hangisinin dört kenarı vardır?

- A) üçgen B) çember C) dikdörtgen

1. SINIF MATEMATİK DERSİ GENEL DEĞERLENDİRME

9-) Aşağıdaki saatleri verilen bilgilere göre dolduralım.



12.00


15.30

14.00



--	--	--



10-) Aşağıdaki robotta bulunan şekillerin sayısını yazınız.



Dikdörtgen : Üçgen :

Kare : Çember:

11-) Aşağıdaki örüntünün kuralına göre gelmesi gereken şekli bulup boyayınız.



12-) Bir su kovası 12 maşrapa ile dolmaktadır. Kovanın yarısını doldurmak için kaç maşrapa su koymamız gerekir?

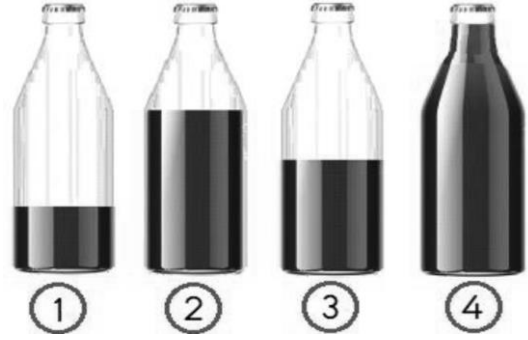
--	--	--	--	--	--	--	--	--	--	--	--	--	--	--	--	--	--	--	--



13-) Bir kutu süttten 5 bardak süt çıkmaktadır. 3 kutu süttten kaç bardak süt çıkar?

--	--	--	--	--	--	--	--	--	--	--	--	--	--	--	--	--	--	--	--

14-) Aşağıdaki şişeler ile ilgili verilen ifadelerden hangisi doğrudur?



A) 1. şişedeki sıvı miktarı, 3. şişedeki sıvıdan daha fazladır.

B) 3. şişedeki sıvı miktarı, 2. şişedeki sıvıdan daha çoktur.

C) 2. şişedeki sıvı miktarı, 4. şişedeki sıvıdan azdır.

