













Adı,Soyadı:

2.Dönem 2. Matematik Sınavı

1.Aşağıdaki sayılardan hangisinin okunuşu yanlış yazılmıştır?

- A. 25: yirmi beş B.38: üç sekiz
C. 67: altmış yedi


2.Yukarıdaki tabloda kaç kaplan vardır?

- A.3 B.5 C.4



3.Yukarıdaki tavşanlara 5 tavşan daha eklersek kaç tavşan olur?

- A.10 B.11 C.12



4.Yukarıdaki görselin sözlü ifadesi aşağıdakilerden hangisidir?

- A.Beş eksi iki eşittir üç
B.Beş artı iki eşittir üç
C.Beş iki daha üç



5.Yandaki trende mavi tişörtlü çocuk kaçınıncı sıradadır?

- A.1 B.2. C.3

6.Aşağıdakilerden hangisi toplama işlemi elemanlarından biri değildir?

- A.Toplanan B.Toplam C.Fark

7.Aşağıdakilerden hangisi Türk Lirası sembolüdür?

- A.₺ B.€ C.\$

8.Aşağıdaki dalda duran kuşların yanına kaç kuş daha konarsa 12 kuş olur?



- A.8 B.7 C.6

9.Ali 5 kitap,Gizem 7 kitap okumuştur. İkisinin okuduğu kitap toplamı kaçtır?

- A.11 B.12 C.13



10.Yukarıdaki balonların sayısı hangi seçenekte doğru verilmiştir?

- A. 1 Onluk 2 Birlik
B. 1 Onluk 3 Birlik
C. 2 Onluk 1 Birlik