





# PROBLEM TRENİ -7-




Bir kutu süttten 5 bardak süt çıkmaktadır. 3 kutu süttten kaç bardak süt çıkar?




Yandaki havuzu Ali 20 defada İrem 12 defada Çiğdem 7 defada dolduruyor.  
Buna göre hangi çocuğun kabı en küçüktür?



Yukarıdaki görsele göre 3 kutu meyve suyu kaç portakal sıkılarak elde edilir?



# PROBLEM TRENİ -8-



İki bütün elma kaç yarım elma eder?

Babamın kitabının boyu 12 parmandır. Benim kitabımın boyu 3 parmak ise babamın kitabının boyu benimkinden kaç fazladır?

3 birlik, 6 onluktan oluşan sayının 22 fazlası kaçtır?