




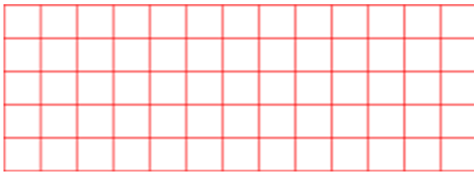
1 Zehra saat 10.00'da ders çalışmaya başladı. 2 saat sonra çalışması bitti. Zehra saat kaçta ders çalışmayı bitirmiştir?



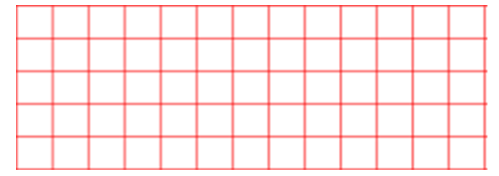
5 Ayşe, saat 14:15'te sinemaya gitti. Saat 15:45'te sinemadan çıktığına göre, film kaç saat sürmüştür?



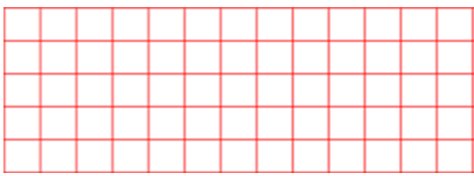
2 Saat 09.00'da Ankara'dan Adana'ya giden bir araba, saat 14.00'de Adana'ya vardığına göre, bu yolculuk kaç saat sürmüştür?



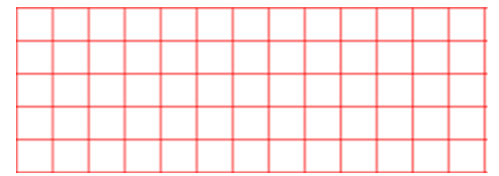
6 Günde 8 saat çalışan bir memur, haftanın 5 günü çalışmaktadır. Bu memur bir haftada toplam kaç gün çalışmaktadır?




3 Günde 2 saat ders çalışan Öykü, bir haftada kaç saat ders çalışmış olur?



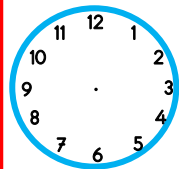
7 Yusuf arkadaşlarıyla 1 saat ve 2 yarım saat oyun oynamıştır. Buna göre Yusuf kaç saat oyun oynamış olur?



4 Bir bebek 5 saat arayla süt içmektedir. Buna göre ilk kez saat 9:00'da süt içen bu bebek, ikinci sütünü saat kaçta içer?



8 Sabah işten gelen babam, saat 07:00 de uyudu. Babam 8 saat sonra uyandığına göre, saat kaçtır?



9 Emel, sabah çeyrek saat, öğleden sonra da yarım saat kitap okumuştur. Emel, toplam kaç dakika kitap okumuş olur?



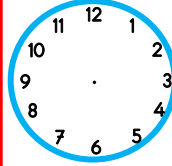
13 Ela 12 Haziran'da teyzesinin yanına gitti. Ela 30 Haziran'da eve döndüğüne göre, teyzesinde kaç gün kalmıştır?



10 Sevda yaz tatilinde 3 hafta ve 5 gün babasının köyünde kaldı. Sevda toplam kaç gün köyde kalmıştır?



14 Okula gitmek için saat 07:30'da evden çıkan Lale, 15 dakika sonra okula varmıştır. Buna göre Lale saat kaçta okula varmıştır?




11 Sabah 08:30'da okula gelen Hasan, saat 14:45'te okuldan çıktığına göre, okulda kaç saat kalmıştır?



15 Maymun Çaki, saat 09:15'de bir muz yemiştir. Çaki 3 saat 30 dakika sonra bir muz daha yediğinde, saat kaç olur?



12 2 saat önce saat 07:00 ise, 5 saat sonra saat kaç olur?



16 Annem ile babam saat 10:15'de alışverişe gittiler. 2 saat 30 dakika sonra eve döndüler. Buna göre annem ve babam, saat kaçta eve dönmüşlerdir?

