

Adı:.....

Soyadı:.....

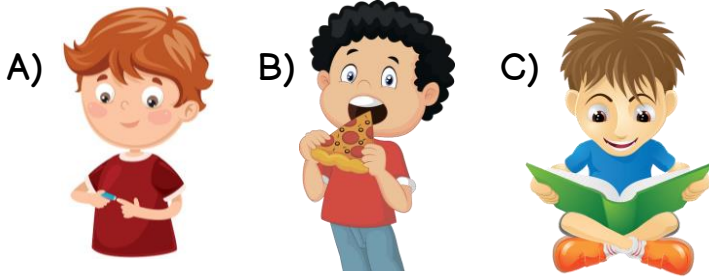
2. SINIF HAYAT BİLGİSİ YIL SONU KAZANIM DEĞERLENDİRME - 1

Doğru / Yanlış

1-) Aşağıdaki cümlelerden hangisinde öğrenci, fiziksel özelliğinden bahsetmiştir?

- A) Futbol oynamayı severim.
B) Uzun, siyah saçlıyım.
C) Resim kursuna gidiyorum.


2-) Aşağıda öğrencilerden hangisi kişisel bakımını yapmaktadır?



3-)

Ders Programı
Türkçe
Görsel Sanatlar
Müzik

Ders programına göre hangisi öğrencinin çantasında yer almamalıdır?



4-) Verilen ifadelerden hangisi demokratik sınıf ortamı ile ilgilidir?

- A) Sınıfta kararları öğretmen alır.
B) Sınıf başkanını seçimle belirleriz.
C) Sınıfı teneffüslerde havalandırırız.

5-) Aşağıdakilerden hangisi anne tarafı akrabalarımızdan değildir?

- A) Dayı
B) Teyze
C) Hala

6-) Adres bilginizi verirken hangisini söylememize gerek yoktur?

- A) Okul numaramızı
B) Mahallemizin adını
C) Daire numaramızı




7-) Arda açık muslukları kapatan, boşa yanan lambaları söndüren bir öğrencidir. Arda için hangisi söylenbilir?

- A) Beslenmesine dikkat etmektedir.
B) Kaynakları tasarruflu kullanmaktadır.
C) Arkadaşları ile uyum içindedir.

8-) Hangisi sağlıklı beslenen bir çocuğun sabah kahvaltısı olabilir?



9-) Aşağıdaki öğrencilerden hangisi kış mevsimine uygun giyinmiştir?



10-)



Yukarıda görseli verilen araç, hangi ulaşım türüne aittir?

- A) Hava yolu
B) Deniz yolu
C) Demir yolu

11-) Tüm acil durum numaraları, hangi numarada toplanmıştır?

- A) 112
B) 911
C) 118



12-)



Haritada başkentimiz hangi numara ile gösterilmiştir?

- A) 1. B) 2. C) 3.

13-) Bağımsızlığımız ve özgürlüğümüzün sembolü aşağıdakilerden hangisidir?



14-) Aşağıdakilerden hangisi Atatürk'ün gittiği okullardan biri değildir?

- A) Hava Harp Okulu
B) Şemsi Efendi İlkokulu
C) Selanik Askeri Rüştiyesi

- 15-) * Büyüklerimizin elini öperiz.
* Akrabalarımızı ziyaret ederiz.
* Misafirlere ikramlar hazırlarız.

Yukarıda yazılanlar, hangi bayramla ilgili olamaz?

- A) Ramazan Bayramı
B) Kurban Bayramı
C) Zafer Bayramı



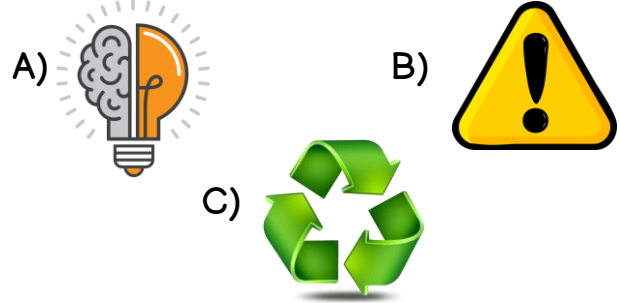
16-) Atatürk'ün Bandırma Vapuru ile Samsun'a çıkararak milli mücadeleyi başlattığı gün hangi milli bayramımız olarak kutlanmaktadır?

- A) 29 Ekim Cumhuriyet Bayramı
B) 23 Nisan Ulusal Egemenlik ve Çocuk Bayramı
C) 19 Mayıs Atatürk'ü Anma, Gençlik ve Spor Bayramı

17-) Aşağıdakilerden hangisi kültürel miras öğelerimizden biri değildir?

- A) Ağaçlarımız
B) Halk oyunlarımız
C) Tarihi yapılarımız

18-) Aşağıdakilerden hangisi geri dönüşümün sembolüdür?



19-) Aşağıdakilerden hangisi doğal afetlere karşı alınabilecek bir önlem değildir?

- A) Sağlam yapılar inşa etmek.
B) Dere yataklarına ev yapmak.
C) İnsanları bilinçlendirmek.

20-) Güneşin doğduğu yöne sağ kolunu uzatan Gülce'nin sırtı hangi yönü gösterir?

- A) Batı
B) Kuzey
C) Güney



Sınav bitti. Cevaplarınızı kontrol ediniz.

