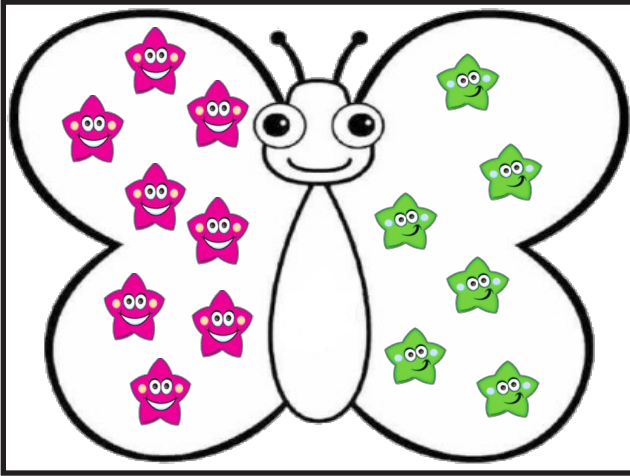
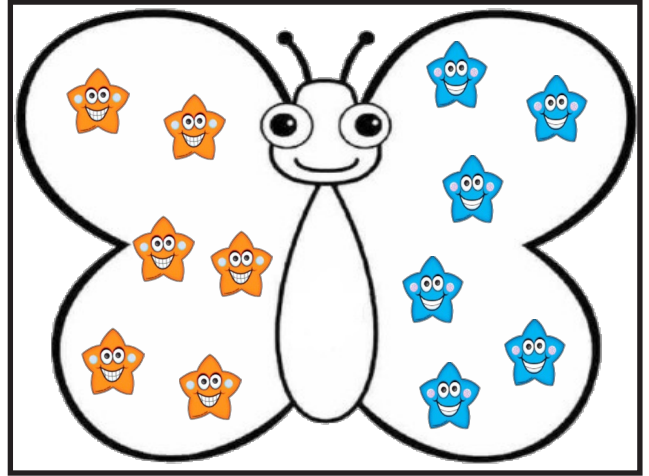


## YAN YANA TOPLAMA ÖĞRENİYORUM-2


Aşağıdaki kelebeklerin kanatlarındaki yıldızları sayarak toplamı bulunuz.




|  |   |  |   |  |
|--|---|--|---|--|
|  | + |  | = |  |
|--|---|--|---|--|




|  |   |  |   |  |
|--|---|--|---|--|
|  | + |  | = |  |
|--|---|--|---|--|



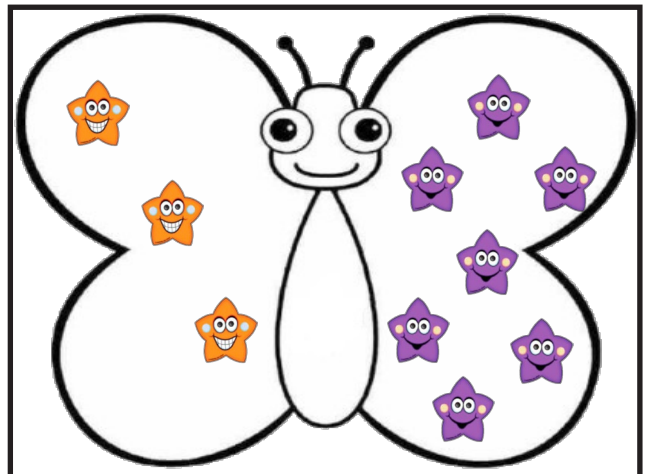
|  |   |  |   |  |
|--|---|--|---|--|
|  | + |  | = |  |
|--|---|--|---|--|



|  |   |  |   |  |
|--|---|--|---|--|
|  | + |  | = |  |
|--|---|--|---|--|



|  |   |  |   |  |
|--|---|--|---|--|
|  | + |  | = |  |
|--|---|--|---|--|



|  |   |  |   |  |
|--|---|--|---|--|
|  | + |  | = |  |
|--|---|--|---|--|