

## TATİL ÇALIŞMASI

ceydaogretmen 

1- Aşağıdaki sayıların okunuşlarını karşılıklarına yazalım.

1204:

4438:

2479:

12 005:

16 547:

21 021:

146 996:

2- Aşağıda okunuşları verilen sayıları karşılıklarına yazalım.

Bin on üç:

İki bin altı yüz dokuz:

Seksen iki bin yüz:

Kırk bir bin on altı:

Altı bin altı yüz on dokuz:

Yetmiş bir bin iki yüz kırk altı:

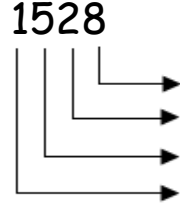
Dört yüz bin yüz yirmi üç:

3- Aşağıda verilen sayıları onluğa ve yüzlüğe yuvarlayalım.

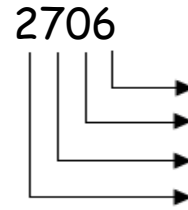
Sayı	Onluğa yuvarla	Yüzlüğe yuvarla
1453		
2361		
5998		
3413		
1734		
8441		

4- Aşağıda verilen boşlukları uygun şekilde dolduralım.

Basamak adı	Basamak değeri
-------------	----------------



Basamak adı	Basamak değeri
-------------	----------------



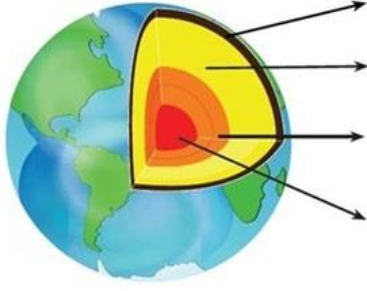
5- Aşağıda verilen kelimeleri hecelerine ayıralım. Kaç hece ve harften oluştuklarını yazalım.

Kelime	Hecelerine ayır	Hece sayısı	Harf sayısı
Telefon			
Şemsiye			
Kalemlik			
Top			
Saat			
Atatürk			
Satranç			

6- Aşağıda karışık halde verilen kelimeleri sözcük sırasına göre numaralandırınız.

Cezve	1.....
Şeftali	2.....
Merdiven	3.....
Şampuan	4.....

7-Aşağıdaki dünya modelindeki boşlukları dolduralım.



8-Aşağıdaki görsellerden fosillere örnek olanları yuvarlak içine alalım.



9-Verilen ifadeler doğru ise 'D' yanlış ise 'y' yazalım.

- ( ) Yer kabuğu katmanının diğer adı taş küredir.
- ( ) Dünyamızın 2 türlü hareketi vardır.
- ( ) Tüm kayaların özellikleri aynıdır
- ( ) Ekonomik değeri olan kayalara maden denir.
- ( ) Katkılı ürünler sağlığımızı bozar.
- ( ) Proteinler yapıcı ve onarıcıdır.

10- Aşağıda verilen kelimeleri uygun boşluklara yazalım.

saygı

empati

yetenek

zenginlik

akıllı kart

1. İnsanın kendisini başkasının yerine koymasına ..... denir.
2. Yeni kimlik kartlarındaki elektronik çip kimlik belgelerimize .....özellği kazandırmaktadır.
3. Bireylerde doğuştan var olan bir işi yapabilme becerisine ..... denir.
4. Farklılıklara .....duymalıyız
5. İnsanlar arasındaki farklılıklar birer .....olarak görülmelidir.

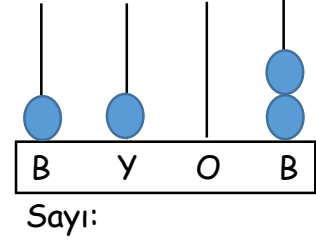
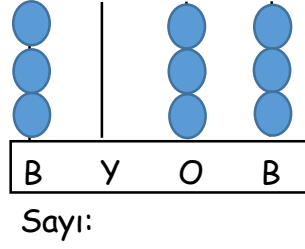
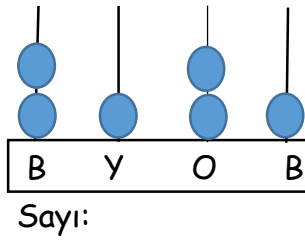
11-Aşağıdaki bulmacada yer alan kelimeleri boyayalım.

T	K	Ö	M	Ü	R	B	E
M	B	W	K	R	T	O	D
E	M	E	U	S	Ç	R	O
R	A	İ	R	T	İ	Ü	Ğ
M	D	C	Ş	K	N	L	A
E	E	C	U	N	K	İ	L
R	N	Y	N	O	O	N	G
F	O	S	İ	L	L	Y	A
B	A	K	I	R	Ç	İ	Z
Ü	G	Ü	M	Ü	Ş	T	O
P	E	T	R	O	L	O	R

KÖMÜR - BOR- MERMER- MADEN-  
FOSİL-LİNYİT-PETROL-GÜMÜŞ-  
DOĞALGAZ-KURŞUN-ÇİNKO-  
BAKIR

## TATİL ÇALIŞMASI

1- Aşağıda abakütle modellenen sayıları yazalım.



2- Aşağıda verilen sayıları çözümleyiniz.

1 binlik+3yüzlük+8 onluk+4 birlik=

3 onbinlik+1 binlik+3 birlik=

4binlik+4 yüzlük+8onluk+7birlik=

9yüzbinlik+8binlik+3onluk=

7 onbinlik+7binlik=

3- Aşağıda verilen kelimelerin eş anlamlarını karşlarına yazalım.

Siyah	
Kırmızı	
Uyarı	
Yaşlı	
Hediye	
Kalp	

Okul	
Misafir	
Öğrenci	
Yıl	
Görev	
Önder	

4- Aşağıda verilen kelimelerin zıt anlamlarını karşlarına yazalım.

Kolay	
İyi	
Kapalı	
Pahalı	
Korkak	
Sağlam	

Dost	
Sabah	
Kalın	
Aşağı	
Bayat	
Tembel	

5- Aşağıda verilen ifadelerden doğru olanların başına (D), yanlış olanların başına (Y) yazalım.

- ( ) Evlilik cüzdanı da kimlik kartı yerine kullanılabilir.
- ( ) Uzun boylu olmamış fiziksel özelliklerimizden biridir.
- ( ) Yeni doğan bir bebeğin kimlik belgesini Muhtarlıktan alırsınız.
- ( ) Çeyiz sandıkları milli kültür öğelerimize örnektir.
- ( ) Aile tarihimizi arkadaşlarımızdan kolayca öğrenebiliriz.
- ( ) Sadece ilgi alanımız aynı olan kişilerle konuşmalıyız.
- ( ) Olayları oluş sırasına göre sıralamaya empati denir.
- ( ) İkiz kardeşlerin ilgi alanları birbirinden farklı olabilir.
- ( ) Farklı fiziksel özelliklere karşı saygı duymalıyız.
- ( ) Yapboz geçmişte oynanan çocuk oyunlarına örnektir.

6- Atatürk'ün en önemli özelliklerinden biri de vatan ve millet sevgisidir. Bu konuda Atatürk şöyle diyor: "Yurt toprağı! Her şey sana feda olsun, kutlu olan sensin. Hepimiz senin için fedaiyiz. Fakat sen Türk milletini sonsuza kadar yaşatmak için verimli kalacaksın. Türk toprağı sen, seni seven Türk milletinin mezarı değilsin. Türk milleti için yaratıcılığını göster."



Aşağıdaki soruları metne göre cevaplayınız.

- Atatürk'ün en önemli özelliklerinden biri nedir?
- Yurt toprağı neden verimli kalmalıdır?
- Metne bir başlık yazacak olsanız ne olurdu?
- Yukarıdaki metinde anlatılmak istenen düşünce nedir?

1-Aşağıdaki toplama ve çıkarma işlemlerini yapalım.

$$\begin{array}{r} 3219 \\ + 1107 \\ \hline \end{array}$$

$$\begin{array}{r} 2017 \\ + 1136 \\ \hline \end{array}$$

$$\begin{array}{r} 3346 \\ + 560 \\ \hline \end{array}$$

$$\begin{array}{r} 2255 \\ + 3047 \\ \hline \end{array}$$

$$\begin{array}{r} 4071 \\ + 3553 \\ \hline \end{array}$$

$$\begin{array}{r} 1998 \\ + 107 \\ \hline \end{array}$$

$$\begin{array}{r} 2006 \\ + 3886 \\ \hline \end{array}$$

$$\begin{array}{r} 8822 \\ + 509 \\ \hline \end{array}$$

$$\begin{array}{r} 6513 \\ + 3527 \\ \hline \end{array}$$

$$\begin{array}{r} 5537 \\ + 2340 \\ \hline \end{array}$$

$$\begin{array}{r} 2248 \\ + 1175 \\ \hline \end{array}$$

$$\begin{array}{r} 2135 \\ + 4047 \\ \hline \end{array}$$

$$\begin{array}{r} 997 \\ - 210 \\ \hline \end{array}$$

$$\begin{array}{r} 829 \\ - 397 \\ \hline \end{array}$$

$$\begin{array}{r} 1438 \\ - 1227 \\ \hline \end{array}$$

$$\begin{array}{r} 2007 \\ - 1001 \\ \hline \end{array}$$

$$\begin{array}{r} 3255 \\ - 1183 \\ \hline \end{array}$$

$$\begin{array}{r} 1618 \\ - 126 \\ \hline \end{array}$$

$$\begin{array}{r} 9112 \\ - 1172 \\ \hline \end{array}$$

$$\begin{array}{r} 1439 \\ - 1409 \\ \hline \end{array}$$

2- Aşağıda verilen kelimeleri uygun yerlere yazalım.

DEMİR - SAĞLIĞA - BOR - 365 GÜN 6 SAAT - DÜZENLEYİCİ- PROTEİN-  
-BİTKİSEL - GECE GÜNDÜZ - DOĞU BATI - PALEONTOLOJİ-

Dünya, Güneş etrafındaki hareketini .....gün .....saatte tamamlar.

Fosilleri inceleyen bilim dalına .....denir.

Sigara ve alkol .....zararlıdır.

Ülkemizde bulunan .....madeni deterjan yapımında kullanılır.

Su vücutta ..... olarak görev yapar.

Et, süt, yumurta .....bakımından zengin besinlerdir.

Dünya'nın kendi eksenini etrafında dönmesi sonucu .....oluşur.

..... madeni inşaatlarda kullanılan oldukça sağlam bir maddedir.

Güneş'in doğduğu yön ..... battığı yön ise ..... dır.

Sebze ve meyveler ..... kaynaklı besinlere örnektir.

3-Aşağıdaki cümleleri okuyalım. Gerçek anlamlı cümlelerin başına 'G', Mecaz anlamlı kelimelerin başına 'M', terim anlamlı kelimelerin başına 'T' yazalım.

( ) Müzik dersinde nota konusunu işledik.

( ) Hafta sonu sınıfça pikniğe gideceğiz.

( ) Her gece uyumadan önce mutlaka kitap okurum.

( ) Heyecandan kalbim yerinden çıkacak gibiydi.

( ) Arkadaşımla çarpışınca dişi kırıldı.

( ) Otobüsü kaçırınca biletimiz yandı.

( ) Defterime üçgen, kare ve dikdörtgen çizip boyadım.

( ) Yorgunluktan elim ayağım kalkmadı.

( ) Futbol oynarken ayakkabım yırtıldı.

( ) Okula çok havalı bir öğrenci geldi.

( ) Hava düne göre bugün biraz daha kırık.



## TATİL ÇALIŞMASI

A) Aşağıdaki problemleri çözelim.

1- Emir, her sabah spor yaparken 1200 adım atmaktadır. Emir'in 3 gün boyunca kaç adım attığını bulalım.

---

---

---

---

---

---

---

---

2- Bir Trende 1465 yolcu vardır. 1. durakta 79 yolcu inmiş 49 yolcu binmiştir. Buna göre Trende kaç yolcu kalmıştır?

---

---

---

---

---

---

---

---

3- 2008 yılında doğan Merve, 2042 yılına geldiğinde kaç yaşında olur?

---

---

---

---

---

---

---

---

4- Bir manav 1489kg armut, 2104kg elma ve 2755kg portakal satmıştır. Bu manav toplam kaç kg meyve satmıştır?

---

---

---

---

---

---

---

---

5- Bir kütüphanede 550 adet tarih kitabı, tarih kitaplarından 790 adet daha fazla matematik kitabı vardır. Bu kütüphanede bulunan matematik ve tarih kitaplarının toplam sayısını bulalım.

---

---

---

---

---

---

---

---

6- Bir çıkarma işleminde eksilen 5417, fark (kalan) 3118 ise çıkan sayı kaçtır?

---

---

---

---

---

---

---

---

7- Sene boyunca 4586 adet pantolon satan bir mağaza, sattığı ürünlerin 1029 âdetini defolu olması gerekçesiyle geri iade etmiştir. Bu mağazanın iade etmediği pantolon sayısını bulalım.

---

---

---

---

---

---

---

---

8- 9835 adet kalemin 7718 âdeti dağıtılmıştır. Geriye dağıtılmayan kaç kalem kalmıştır?

---

---

---

---

---

---

---

---

9- Rakamları birbirinden farklı en büyük sayı ile, rakamları birbirinden farklı en küçük sayının farkı kaçtır?

---

---

---

---

---

---

---

---

10- 3275 TL ye televizyon, 2100TL ye ütü alan bir aile satıcıya 5500TL ödeme yapmıştır. Satıcının ne kadar para üstü alacağını bulalım.

---

---

---

---

---

---

---

---

B) Aşağıdaki madenlerin kullanım alanlarını araştırıp karşlarına yazalım.

BOR

MERMER

DEMİR

BAKIR

ALTIN

GÜMÜŞ

C) Aşağıdaki testi cevaplayalım.

1- Milyonlarca yıl önce yaşamış günümüze kadar ulaşmış canlı kalıntlarına ne denir?

A) Maden B) Fosil C) Mineral D) Kayaç

2- Sigara içmediği halde dumanından etkilenen kişiye ne denir?

A) İçici B) Bağımlı  
C) Hasta D) Pasif içici

3- Alkol ve sigara ile mücadele eden kurum aşağıdakilerden hangisidir?

A) Akut B) Kızılay  
C) Yeşilay D) Tema

4- Aşağıdakilerden hangisi maden değildir?

A) Bor B) Demir C) Kum D) Altın

5- Dünyamız kendi etrafındaki dönüşünü 24 saatte tamamlar. Bu süreye ne denir?

A) 1 Yıl B) 1 Gün  
C) 1 Ay D) 1 Hafta

D) Aşağıda verilen eş sesli kelimeleri cümle içinde kullanalım.

Dal : .....

Dal .....

Yaz: .....

Yaz: .....

Kız: .....

Kız: .....

Kır: .....

Kır: .....

E) Aşağıdaki testi cevaplayalım.

1- Aile tarihi hazırlarken aşağıdaki kişilerden hangisinden yardım almayız?

A) Anne B) Baba  
C) Öğretmen D) Dede

2- Aşağıdakilerden hangisi her bireyde kesinlikle farklı bir özelliktir?

A) Göz rengi B) Saç rengi  
C) Parmak izi D) Kilo

3- Aşağıdakilerden hangisi fiziksel bir özelliktir?

A) Eda'nın gözleri mavidir.  
B) Merve tutumlu bir kızdır.  
C) Ömer, çok duygusaldır.  
D) Doğan gitar çalabilir.

4- İkiz kardeşlerin kimliklerinde hangisi farklıdır?

A) Anne adı B) Baba adı  
C) TC kimlik numarası D) Doğum yeri

5- Olayların tarihsel olarak sıraya konmasına ne denir?

A) Tarih B) Kronoloji  
C) Sıralama D) Sosyoloji