

BASAMAK DEĞERİNİ



BULALIM



Unutma,
sayı içinde rakamların
yazıldığı yere
basamak denir.

5 8

Onlar
basamağı

Birler
basamağı



Unutma,
sayı içindeki rakamların
buldukları basamağa göre
aldıkları değere,
basamak değeri denir.

2 4

20

4

Aşağıda verilen sayıların basamak değerlerini



yazalım.



3 8



13



42



55

--	--

--	--

--	--

--	--

27



10



34



61

--	--

--	--


--	--

--	--

Aşağıda basamak değerleri verilen sayıları yazalım.



Birlikler birler basamağına, onluklar onlar basamağına yazılır.



40	1

20	5




30	4



60	3

10	1



30	7



10	9


20	0

50	6



70	2

20	8



30	3



Etkinliği tamamladın. aferin sana

