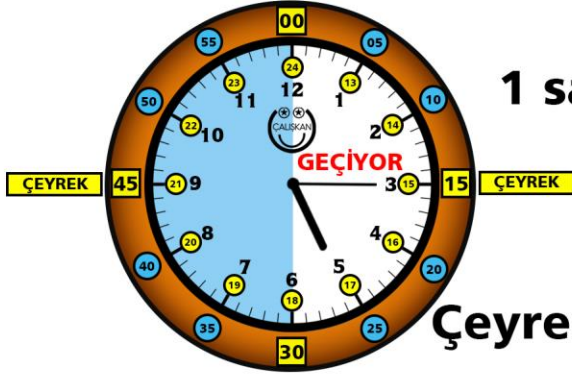


# ÇEYREK SAATLERİ OKUMA

Çeyrek saatlerde **yelkovan 3** ya da **9** sayılarını gösterir.

Yani yelkovan 3'ün üzerinde ise saat **çeyrek geçiyor** diyoruz.

Yelkovan 9'un üzerinde ise saat **çeyrek var** diyoruz.



1 saat 60 dakikadır.



Çeyrek saat 15 dakikadır.

(Saat 05:15)

Saat 5'i **15 DAKİKA** geçiyor.

Saat 5'i **ÇEYREK** geçiyor.

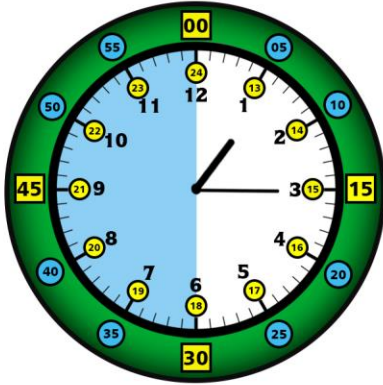
(Saat 03:45)

Saat 4'e **15 DAKİKA** var.

Saat 4'e **ÇEYREK** var.

Yukarıdaki saatte yelkovan **"BEYAZ"** BOYALI bölümde ise saate **"GEÇİYOR"**

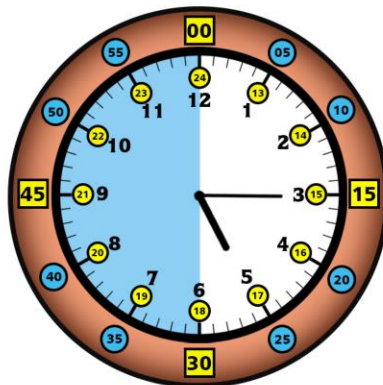
Yelkovan **"MAVİ"** BOYALI bölümde ise saat **"VAR"** diyoruz.



(Saat 01:15)

Saat 1'i 15 dakika geçiyor.

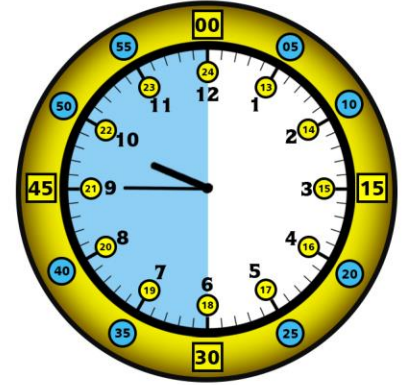
Saat 1'i **çeyrek** geçiyor.



(Saat 05:15)

Saat 5'i 15 dakika geçiyor.

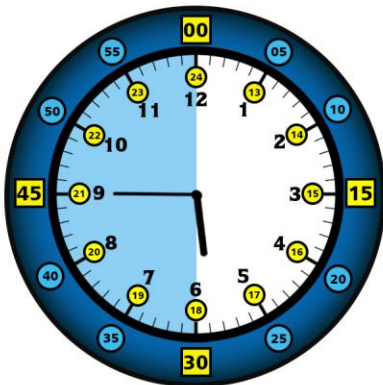
Saat 5'i **çeyrek** geçiyor.



(Saat 09:45)

Saat 10'a 15 dakika var.

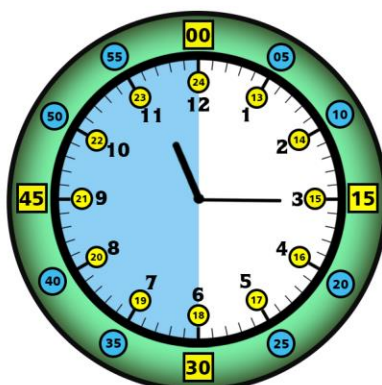
Saat 10'a **çeyrek** var.



(Saat 05:45)

Saat 6'ya 15 dakika var.

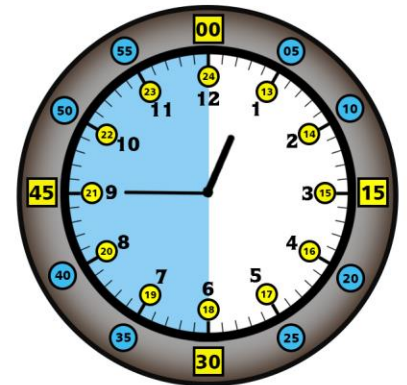
Saat 6'ya **çeyrek** var.



(Saat 11:15)

Saat 11'i 15 dakika geçiyor.

Saat 11'i **çeyrek** geçiyor.



(Saat 12:45)

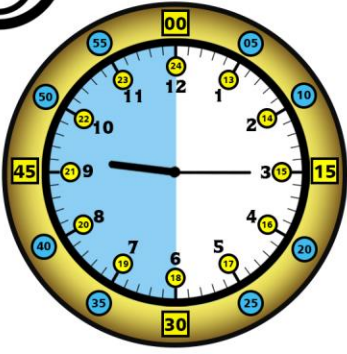
Saat 1'e 15 dakika var.

Saat 1'e **çeyrek** var.



# AŞAĞIDAKİ SAATLERİN KAÇI GÖSTERDİĞİNİ, OKUNUŞLARINI VE DİJİTAL OLARAK

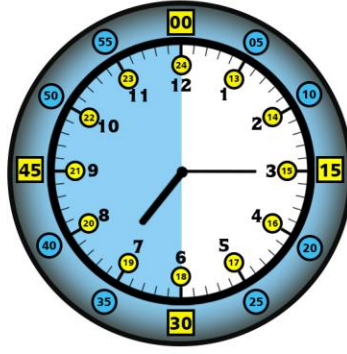
## GÖSTERİMİNİ ÖRNEKTEKİ GİBİ YAZINIZ. (ÇEYREK SAATLER)



(Saat 09:15)

Saat 9'u 15 dakika geçiyor.

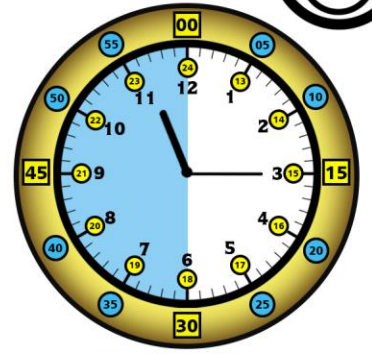
Saat 9'u çeyrek geçiyor.



(Saat .....)

Saat ....'yi .... dakika .....

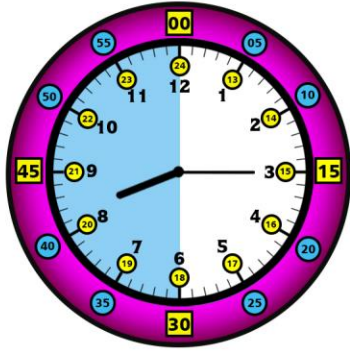
Saat ....'yi ..... geçiyor.



(Saat .....)

Saat ....'i .... dakika .....

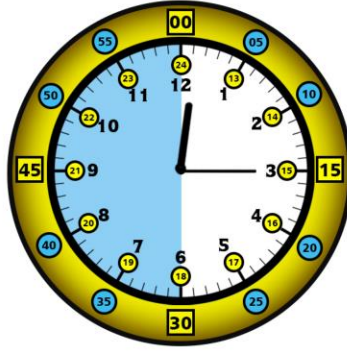
Saat ....'i ..... geçiyor.



(Saat .....)

Saat ....'i .... dakika .....

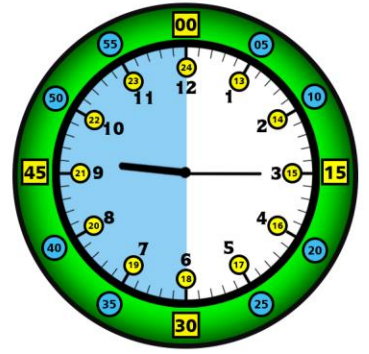
Saat ....'i ..... geçiyor.



(Saat .....)

Saat ....'yi .... dakika .....

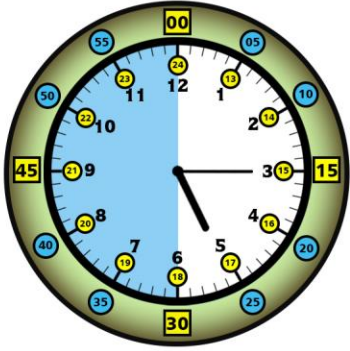
Saat ....'yi ..... geçiyor.



(Saat .....)

Saat ....'u .... dakika .....

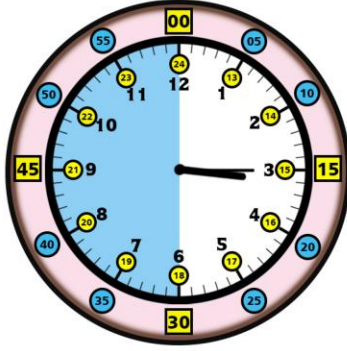
Saat ....'u ..... geçiyor.



(Saat .....)

Saat ....'i .... dakika .....

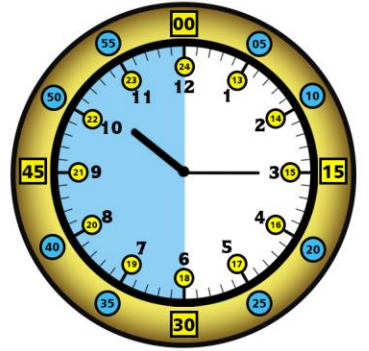
Saat ....'i ..... geçiyor.



(Saat .....)

Saat ....'ü .... dakika .....

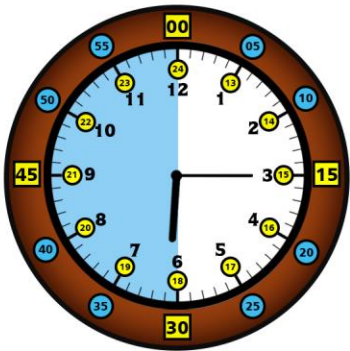
Saat ....'ü ..... geçiyor.



(Saat .....)

Saat ....'u .... dakika .....

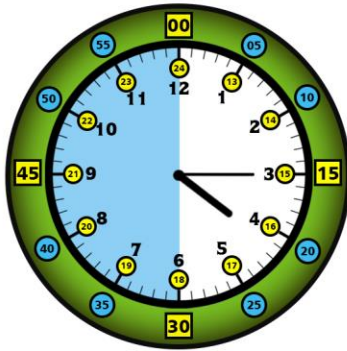
Saat ....'u ..... geçiyor.



(Saat .....)

Saat ....'yi .... dakika .....

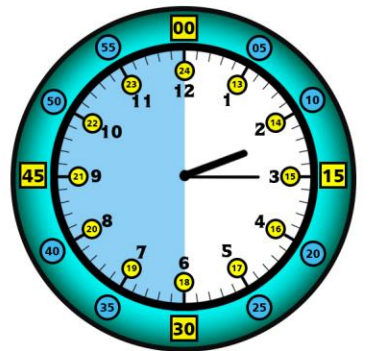
Saat ....'yi ..... geçiyor.



(Saat .....)

Saat ....'ü .... dakika .....

Saat ....'ü ..... geçiyor.



(Saat .....)

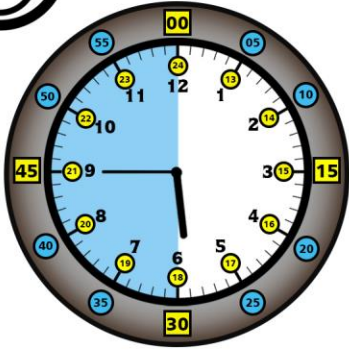
Saat ....'yi .... dakika .....

Saat ....'yi ..... geçiyor.



# AŞAĞIDAKİ SAATLERİN KAÇI GÖSTERDİĞİNİ, OKUNUŞLARINI VE DİJİTAL OLARAK

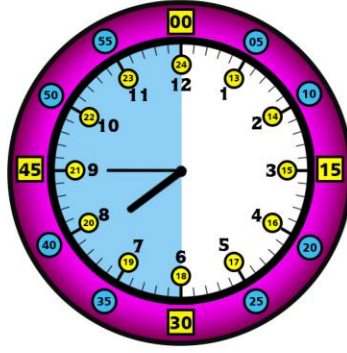
## GÖSTERİMİNİ ÖRNEKTEKİ GİBİ YAZINIZ. (ÇEYREK SAATLER)



(Saat 05:45)

Saat 6'ya 15 dakika var.

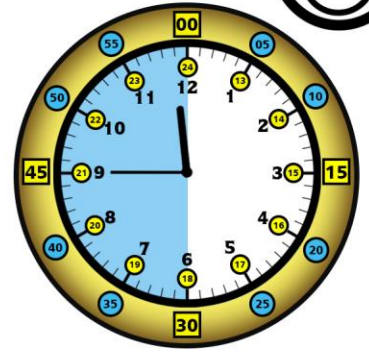
Saat 6'ya çeyrek var.



(Saat .....)

Saat ...'e ... dakika .....

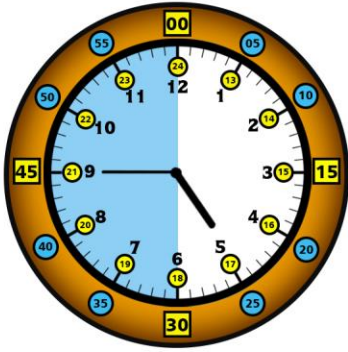
Saat ...'e ..... var.



(Saat .....)

Saat ...'ye ... dakika .....

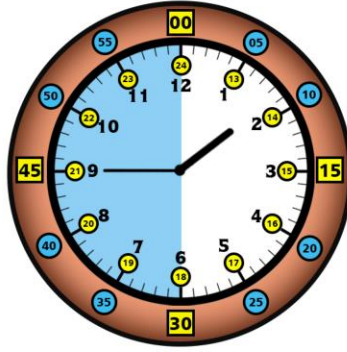
Saat ...'ye ..... var.



(Saat .....)

Saat ...'e ... dakika .....

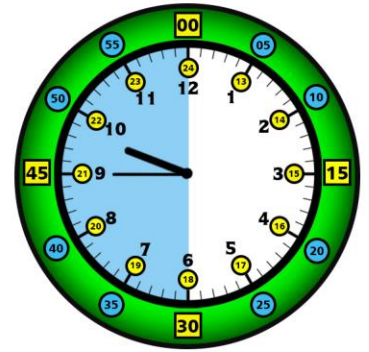
Saat ...'e ..... var.



(Saat .....)

Saat ...'ye ... dakika .....

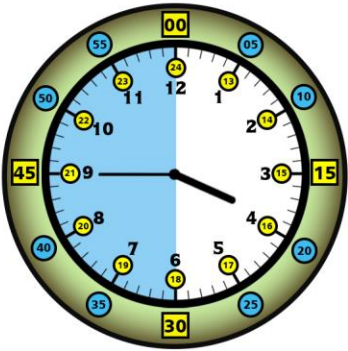
Saat ...'ye ..... var.



(Saat .....)

Saat ...'a ... dakika .....

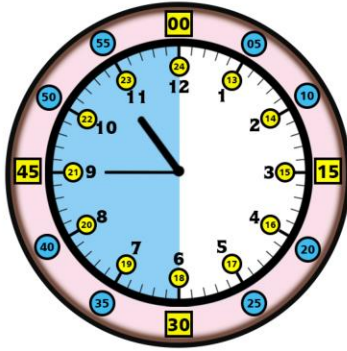
Saat ...'a ..... var.



(Saat .....)

Saat ...'e ... dakika .....

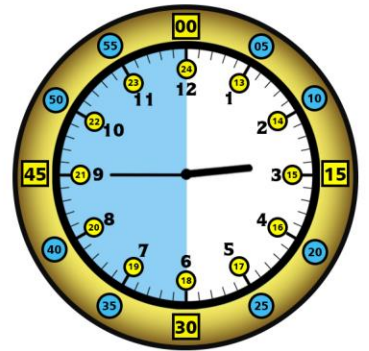
Saat ...'e ..... var.



(Saat .....)

Saat ...'e ... dakika .....

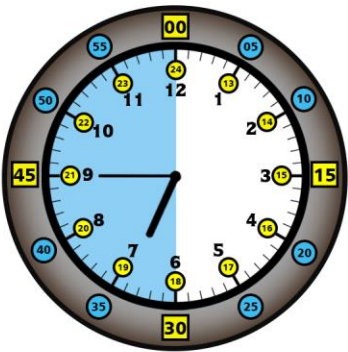
Saat ...'e ..... var.



(Saat .....)

Saat ...'e ... dakika .....

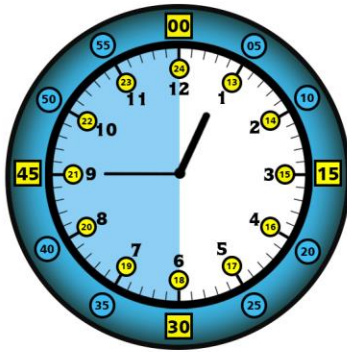
Saat ...'e ..... var.



(Saat .....)

Saat ...'ye ... dakika .....

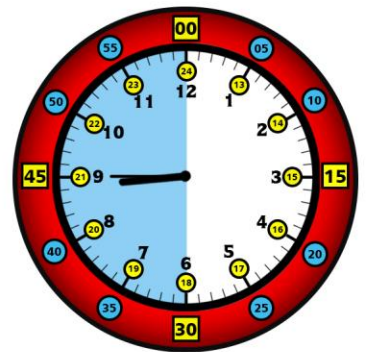
Saat ...'ye ..... var.



(Saat .....)

Saat ...'e ... dakika .....

Saat ...'e ..... var.



(Saat .....)

Saat ...'a ... dakika .....

Saat ...'a ..... var.