



## BEŞ DUYUMUZ - TEST 2

1. Yandaki resimde Sıla hangi duyu organını kullanmaktadır?

- A) Deri B) Kulak  
C) Burun



2. Kaç tane duyu organımız vardır ?




- A) 3 B) 4 C) 5

3. Ozan kapı zilini duyunca kapıyı açmaya gitti.

Ozan , kapıyı açması gerektiğini hangi duyu organı ile algılamıştır ?

- A) Kulak B) Göz C) Burun

4. Dil tat alma görevini yaparken hangi duyu organımızla ilişkilidir ?

- A)  B)  C) 

5. Yüzmeye giden Batuhan vücuduna güneş kremi sürmüştür.

Batuhan güneş kremi niçin sürmüştür ?

- A) Kulağının sağlığı için  
B) Derisinin sağlığı için  
C) Göz sağlığı için

6. Nezle veya grip olduğumuzda hangi Organımız görevini tam olarak yapamaz?

- A) Burun B) Kulak  
C) Deri

7. Annemin bana seslendiğini ..... duyu organımla , annemin kek yaptığını ..... duyu organımla algılarım.

Yukarıdaki noktalı yerlere sırayla aşağıdakilerden hangisi gelmelidir ?

- A) İşitme – Dokunma B) İşitme - Görme  
C) Görme – Tat alma

8. I. Burnumuzu bol su ile düzenli olarak temizlemeliyiz.

II. Burumuzdaki kılları koparmalıyız.

III. Çamaşır suyu gibi maddeleri koklamamalıyız.

Burun sağlığımız için yukarıdakilerden hangilerini yapmalıyız ?

- A) I ve III B) I ve II C) I , II ve III

9. Aşağıdakilerden hangisi duyu organı değildir ?

- A)  B)  C) 

10. Varlıkların sert , yumuşak , sıcak , soğuk olma özelliklerini hangi duyu organımızla algılarız?

- A) Deri B) Burun C) Kulak

11. Gürültülü ortamlardan uzak duran ve yüksek sesle müzik dinlemeyen Mert hangi organın sağlığını korumaktadır ?

- A) Göz B) Kulak C) Deri

12. Duyu organları ve eşleştirmelerinden hangisi yanlıştır?

- A) Deri → Dokunma B) Kulak → Koklama  
C) Dil → Tat alma