



Sayının okunuşunu yazalım.

.....


Sayının basamak değerlerini yazalım.

.....

Sayı, rakamları yer değiştirerek kendisiyle toplandığında sonuç kaç olur?

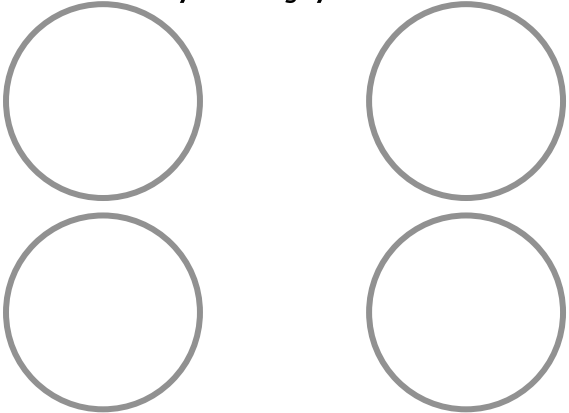
Sayının 5 öncesini ve 5 sonrasını yazalım.

.....




.....

Sayıyı 4'e böldüğümüzde her bir daireye kaç yazılmalıdır?



Sayı kadarını boyyalım.



Sayının onluk bloklarını çizelim.





Sayının okunuşunu yazalım.

.....

Write the number

.....

Sayıyı ona böldüğümüzde bölüm kaç olur?

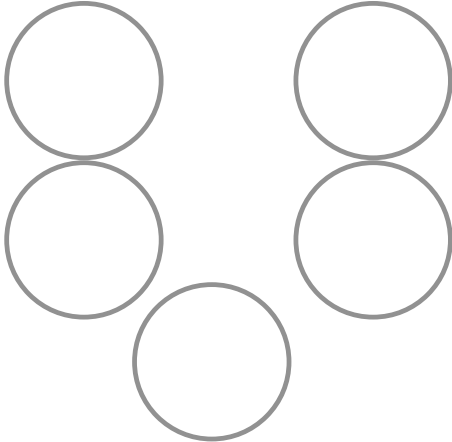
Sayının 2 öncesini ve 2 sonrasını yazalım.

.....




.....

Sayıyı 5'e böldüğümüzde her bir daireye kaç yazılmalıdır?



Sayı kadarını boyayalım.



Sayının onluk bloklarını çizelim.

