


1 Mustafa'nın kızı 24 santimetredir. Eda'nın kızı ise Mustafa'nın kızıyla 3 santimetre daha fazladır. Eda'nın kızı kaç santimetredir ?




5 Benim 12 metre ipim var. Bu ipin önce 3 metresini sonra 2 metresini satarsam kaç metre ipim kalır ?



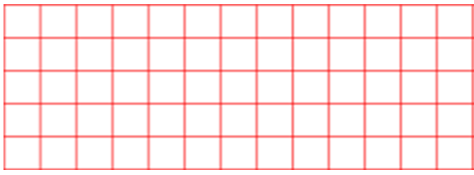
2 Halinin boyu 60 santimetre, eni ise 35 santimetredir. Halinin eni ile boyunun uzunluğu toplam kaç santimetredir ?



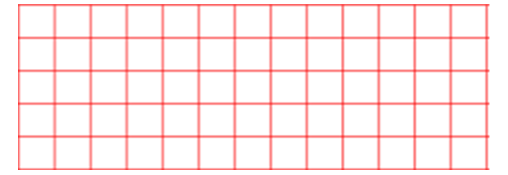
6 Kitabımın boyu 25 santimetre eni ise 8 santimetredir. Kitabın boyu eninden kaç metre uzundur ?




3 Ömer'in bir kulağı 23 santimetredir. Ömer sırasını ölçtüğünde iki kulaç olduğunu gördü. Buna göre Ömer'in sırası kaç santimetredir ?



7 Aylin 28 TL'ye bir pantolon aldı. Satıcıya 50 TL verdiği göre, kaç Türk Lirası para üstü alır ?




4 Arzu evinden bakkala 28 metre, bakkaldan okula ise 14 metre yürümüştür. Arzu toplam kaç metre yürümüştür ?



8 Günde 12 metre yürüyen birisi, 3 günde kaç metre yol yürür ?



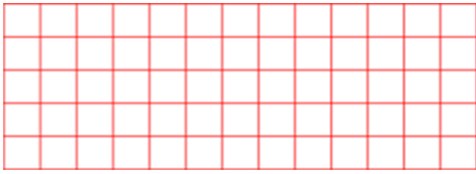
9 Bir terzi 90 metre kumaşın önce 32 metresini, sonra 43 metresini kullandı. Geriye kaç metre kumaş kalmıştır?



13 Bahçeye ektiğimiz fidan her ay 4 santimetre uzamaktadır. Bu fidan 9 ayda kaç santimetre uzar?



10 Nilay, uçurtmasının 64 metre uzunluğundaki ipine 16 metre ip ekledi. Buna göre uçurtma ipi kaç metre oldu?



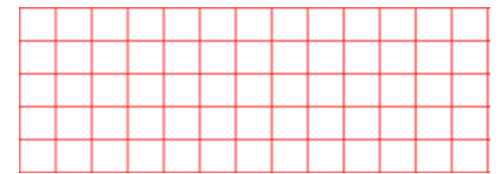

14 Uzunluğu 5 cm olan bir silgi ile masamı ölçtüğümde 8 tane silginin boyuna eşit olduğunu gördüm. Buna göre masamın boyu kaç cm'dir?




11 Günde 4 metre duvar ören bir inşaat ustası, 1 haftada kaç metre duvar örer?



15 Bir kalemin uzunluğu 5 cm'dir. 1 deste kalem uç uca eklenirse, toplam uzunluğu kaç cm yapar?



12 Fatih'in boyu 80 santimetredir. Murat'ın boyu, Fatih'in boyundan 15 santimetre uzundur. Murat'ın boyu kaç santimetredir?



16 Bahçeye 53 cm boyunda fidan ektik. Fidan her yıl 7 cm büyümektedir. 3 yıl sonra fidanın boyu kaç cm olur?

