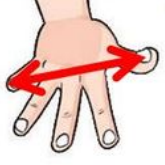


STANDART OLMAYAN UZUNLUK ÖLÇÜLERİ



parmak



karış



ayak



adım



kulaç


❖ Aşağıda verilen görselleri, yukarıdaki standart olmayan uzunluk ölçülerinden hangisi ile ölçmemiz uygun olur, altlarına yazınız.



.....



.....



.....



.....



.....



.....



.....



.....




.....



.....




.....



.....


❖ Okulun koridorunu 5 arkadaş sıra ile adımlayarak ölçmüş ve aşağıdaki sonuçları bulmuştur.





Bu ölçümlere göre doğru olan ifadelerin başına (D), yanlış olan ifadelerin başına (Y) yazalım.


- () Özüm'ün adım uzunluğu, Ceyda'nın adım uzunluğundan büyüktür.
- () Alper'in adım uzunluğu, Kemal Efe'nin adım uzunluğundan küçüktür.
- () En uzun adım Kemal Efe'nin adımıdır.
- () En kısa adım Mert'in adımıdır.
- () Ceyda ile Mert'in adım uzunlukları birbirine eşittir.
- () Tüm çocukların adım uzunlukları birbirinden farklıdır.


❖ Aşağıda verilen nesnelerin uzunluklarını renkli şeridin uzunluğundan faydalanarak ölçüp örnekteki gibi uzunluklarını yazınız.


 şerit

 Kalem iki şerit uzunluğundadır.

 Halat _____ uzunluğundadır.

 Tren _____ uzunluğundadır.

 Baston _____ uzunluğundadır.

 Kibrit _____ uzunluğundadır.