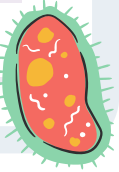




## Uygulama-1

Covid-19 salgınına karşı dikkat etmemiz gereken kurallar hakkında kısa bir yazı yazınız.



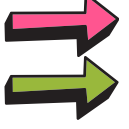
## Uygulama-2

Aşağıda verilen görsellerle ilgili düşüncelerinizi yazınız.





## Pratik Bilgi



Okul, sınıf, ev, sokak gibi anlamlı olan,

çünkü, ama, veya gibi tek başına anlamı olmayıp cümle içinde anlam kazanan ses veya ses gruplarına kelime (sözcük) denir.

Tek Başına Anlamı  
Olan Kelimeler  
Araba, kalem, git, oku,...

## KELİMELE



Tek Başına Anlamı  
Olmayan Kelimeler  
Ancak, gibi, ve, ile, ...



## Pekiştirme-

Tek başına anlamı olan kelimeleri **maviye**, tek başına anlamı olmayan kelimeleri **kırmızıya** boyayalım.

fakat

Neriman

geldi

sincap

için

gördü

kamyon

ile

gibi

ama

çünkü

okul

**Kırmızıya** boyadığımız kelimeleri kullanarak anlamlı ve kurallı cümleler oluşturalım.



## Pekiştirme-2

Bulutların içerisinde yazılı olan kelimelerden tek başına anlamı olmayanları işaretleyelim.

çünkü

kalem

uçtu

ama

uçak



Arda

gibi

ancak

fare

veya

için

ve

bilgisayar

ile

ilkokul

## Pekiştirme-3

Aşağıdaki cümlelerdeki boş bırakılan yerleri uygun kelimeler ile tamamlayalım.

ve

gibi

ya da

için

ama

- Servisi kaçırdığım ..... okula geç kaldım.
- Derse çok çalışmıştım ..... öğretmenim bana soru sormadı.
- Marketten ekmek ..... süt aldık.
- Tatilde Antalya ..... Muğla'ya gideceğiz.
- Ben de ablam ..... çalışkanım.


## Çözümlü Soru

Ahmet, bahçede kedi ile oynadı.


**Yukarıdaki cümlede tek başına anlamı olmayan kelime hangisidir?**

- A) Ahmet    B) kedi    C) ile

### ÇÖZÜM:

"Ahmet" kelimesi tek başına söylendiğinde bir insan ismi olduğu aklımıza gelir. 

"Kedi" kelimesi tek başına söylendiğinde bir hayvan olduğu aklımıza gelir. 

"ile" kelimesi tek başına söylendiğinde ise bir anlam ifade etmez. 

Doğru Seçenek: C



## Pratik Bilgi

Anlamlarına göre kelimeler üçe ayrılırlar.

**EŞ ANLAMLI KELİMELER**

Yazılışları farklı,  
anlamları aynı olan  
kelimelerdir.



hediye



armağan

**ZIT ANLAMLI KELİMELER**

Anlamları birbirinin  
zıttı (karşıtı) olan  
kelimelerdir.



siyah



beyaz

**EŞ SESLİ KELİMELER**

Yazılışları aynı,  
anlamları farklı olan  
kelimeledir.



yüz

100

yüz



## Pekiştirme-1

Aşağıda verilen kelimelerin eş anlamlarını bulmacada bulalım.

~~ÖREK~~

OKUL

KELİME

YEMEK

AK

MİSAFİR

HİKAYE

ANI

İHTİYAR

ÖĞRETMEN

EV

SORU

CEVAP

AL

SÜRAT

SINAV

GÜÇ

SONBAHAR

İLAVE

KIYAFET

RÜZGAR

ESİR

FİKİR

NASİHAT

DEPREM

AD

DOĞA

FAKİR

TEKLİF

RÜYA

D	Ü	Ş	N	K	K	O	N	U	K	T	V	A	Ş	Z
H	U	S	B	U	S	U	A	L	I	G	İ	Y	S	İ
A	V	Ö	T	V	S	Ş	H	T	R	M	Ö	Ğ	Ü	T
T	A	N	Y	V	İ	S	İ	M	M	G	E	A	A	T
I	Z	E	O	E	R	Y	E	L	I	R	D	D	N	M
R	İ	R	N	T	O	H	I	Z	Z	O	T	Ü	D	U
A	F	İ	Ü	T	Ö	Y	K	Ü	I	E	A	Ş	G	A
M	E	K	T	E	P	C	K	O	N	U	T	Ü	Ü	L
Y	Y	B	A	E	Z	E	L	Z	E	L	E	N	Z	L
A	A	E	B	B	Y	O	K	S	U	L	T	C	D	İ
Ş	N	Y	İ	İ	M	T	İ	H	A	N	V	E	H	M
L	I	A	A	A	V	S	Ö	Z	C	Ü	K	S	C	E
I	T	Z	T	E	T	U	T	S	A	K	P	O	E	K





## Pekiştirme-2

Aşağıdaki cümlelerde farklı renkte yazılmış kelimelerin zıt anlamlarını kullanarak cümleleri yeniden yazalım.

Çizgi film **geç** bitince sevindim.

**Sıcak** süt içtim.

**Yeni** elbisemi kardeşime verdim.

Annemin aldığı biberler **acıymış**.

Kırmızı kalemim **var**.

Zehra **kısa** boyludur.

Ben Kerem'in **arkasında** oturuyorum.

Biz **aşağı** katta oturuyoruz.



## Pekiştirme-3

Aşağıdaki cümlelerde kullanılan eş sesli kelimelerden hangisi diğerlerinden farklı anlamda kullanılmıştır? İşaretleyelim.

**diz**

- Tabakları masaya dizdim.
- Kitaplarımı üst üste dizdim.
- Yere düşünce dizim çok acıdı.

**bin**

- Hafta sonu ata bindim.
- Koltuk takımı bin liraymış.
- Bin sayısını rakamla yazdım.

**sal**

- Sal ile nehirde gezdik.
- Kafesteki kuşları saldı.
- Sal ile gezinti çok güzeldi.

**ocak**

- Ocak ayı kış mevsimindedir.
- Kardeşim ocak ayında doğdu.
- Ocakta yemek pişiyor.



## Pekiştirme-4

Verilen kelimeleri örnekten yararlanarak aşağıdaki uygun bölümlere yazalım.

- Misafir - El - Görev - Sıcak - Bağ - Öğretmen - Saç - Ak  
 - Ev - Aşağı - Yüz - Dolu - Yeni - Gül - Vakit - Sonbahar  
 - Doktor - Var - Yurt - ~~Soru~~ - Ocak - Saz - Deprem - Fakir

NOT: Bazı kelimelerin hem zıt anlamlısı hem eş anlamlısı olabilir.

EŞ ANLAMLILIK KELİMELER		ZİT ANLAMLILIK KELİMELER		EŞ SESLİ KELİMELER
Kelime	Eş Anlamlısı	Kelime	Zıt Anlamlısı	
Soru	→ Soru	Soru	× Cevap	



### Çözümlü Soru

Babamla çayda balık tuttuk.

Yukarıdaki cümlede altı çizili sözcük aşağıdaki cümlelerden hangisinde aynı anlamda kullanılmıştır?

- A) Çay içmek yorgunluğu geçirirmiş.
- B) Çay kenarında oturmak huzur verir.
- C) Çok demli çay içmemeliyiz.

#### ÇÖZÜM:

"Babamla çayda balık tuttuk." cümlesindeki çay kelimesi ırmaktan küçük olan bir akarsu anlamındadır.

A ve C şıklarındaki cümlelerde yer alan "çay" kelimesi içtiğimiz çay anlamındadır.

B şikkındaki "çay" kelimesi ise verilen cümledeki "çay" kelimesi ile aynı anlamda olan akarsu anlamındadır.

Doğru Seçenek: B

### Çözümlü Soru

"Sıcak-Soğuk" kelimeleri arasındaki anlam ilişkisi aşağıdaki hangi sözcük çiftinde yoktur?

- A) Yaşlı - İhtiyar
- B) Soru-Cevap
- C) Gündüz-Gece

#### ÇÖZÜM:

"Sıcak-Soğuk" kelimeleri zıt anlamlı kelimelerdir. Soruda zıt anlam ilişkisinin olmadığı sözcük çiftini bulmamız isteniyor.

A) Yaşlı-İhtiyar ----> Eş anlamlı

B) Soru-Cevap ----> Zıt anlamlı

C) Gündüz-Gece ----> Zıt anlamlı kelimelerdir.

Doğru Seçenek: B



Adım-Soyadım:.....

## BÖLÜM-1

20

Puan

Aşağıdaki resimlerde anlatılmak istenen olayları oluş sırasına göre numaralandıralım.  
Numaralandırdığımız resimde anlatılmak istenilen durumu kısa bir şekilde açıklayalım.



1-

2-

3-

4-



## BÖLÜM-2

Aşağıdaki ifadelerden doğru olanların başına D, yanlış olanların başına Y yazalım.

- Görev kelimesinin eş anlamlısı vazife kelimesidir.
- Soğuk kelimesinin zıt anlamlısı yoktur.
- "Ay" kelimesi eş sesli bir kelimedir.
- Eş sesli kelimelerin yazılışları ve okunuşları farklıdır.
- "Rüzgar esti" yerine "yel esti" de diyebiliriz.

Aşağıdaki kelimeleri eş anlamlılarıyla numaralandırarak eşleştirelim.

- |                          |             |                       |          |
|--------------------------|-------------|-----------------------|----------|
| <input type="radio"/> 1  | Hediye      | <input type="radio"/> | Hekim    |
| <input type="radio"/> 2  | Bağımsızlık | <input type="radio"/> | Öneri    |
| <input type="radio"/> 3  | Beyaz       | <input type="radio"/> | Talebe   |
| <input type="radio"/> 4  | Vatan       | <input type="radio"/> | Yargıç   |
| <input type="radio"/> 5  | Doktor      | <input type="radio"/> | Özgürlük |
| <input type="radio"/> 6  | Hakim       | <input type="radio"/> | Armağan  |
| <input type="radio"/> 7  | Teklif      | <input type="radio"/> | Yurt     |
| <input type="radio"/> 8  | Soru        | <input type="radio"/> | Mektep   |
| <input type="radio"/> 9  | Öğrenci     | <input type="radio"/> | Sual     |
| <input type="radio"/> 10 | Okul        | <input type="radio"/> | Ak       |

30

Puan

**NASRETTİN HOCA ve EŞEĞİ**

Günlerden bir gün Nasrettin Hoca eşeğini de alıp pazara turşu satmaya gitmiş. "Turşu var!" der demez eşek anırmaya başlamış.

Nasrettin Hoca ne zaman "Turşu var!" diye bağırır kalksa eşek anırıyor, Nasrettin Hoca'nın sesinin duyulmasını engelliyormuş. Nasrettin Hoca sonunda dayanamamış ve eşeğine:

- Bana bak Karakağan anırıp durma. Turşuyu sen mi satacaksın, yoksa ben mi? demiş.

İlk üç soruyu metne göre cevaplayalım.

1- Hoca eşeğini de alıp nereye gidiyor?

- A) Köye B) Pazara C) Şehre

2- Hoca "Turşu var!" diye bağırınca eşek ne yapıyor?

- A) Kaçıyor B) Korkuyor C) Anırıyor

3- Okuduğunuz metinde yer alan kelimelerden hangisi eş seslidir?

- A) ben B) eşek C) turşu

4- Aşağıdaki cümlelerin hangisinde tek başına anlamı olmayan bir kelime kullanılmıştır?

- A) Kerem ile Hakan çok iyi arkadaşlardır.  
B) Annem börek pişirdi.  
C) Cemil Amca pazardan limon aldı.

5- Uçan balonlarda yazan kelime çiftlerinden hangisi diğerlerinden farklıdır?



6- "Kapalı" kelimesinin zıt anlamlısı hangi cümlede kullanılmıştır?

- A) Yarın hava rüzgarlı olacakmış.  
B) Akşam olmasına rağmen dükkan açıldı.  
C) Yaşlı amca güçlükle yürüyordu.

Esra



Çukur  
Tümsek

Ali



Kolay  
Zor

Burcu



Yaşlı  
İhtiyar

7- Çocuklardan hangisi zıt anlamlı kelimeler kartında yanlışlık yapmıştır?

- A) Esra B) Ali C) Burcu

8- "Gül" kelimesi aşağıdaki cümlelerin hangisinde farklı bir anlamda kullanılmıştır?

- A) Dedem bahçeye gül ekti.  
B) Arkadaşım anlattığım fıkraya çok güldü.  
C) Gülmek herkese yakışır.

9- Eş anlamlı sözcük eşleştirmelerinin hangisinde yanlışlık yapılmıştır?

- A) Cimri ---> Pinti  
B) Okul ----> Mektep  
C) Vatan ---> Millet

10- "Cesur-Korkak" kelimeleri arasındaki anlam ilişkisi hangi seçenekte verilen kelimeler arasında da vardır?

- A) Islak-Kuru  
B) Kanun-Yasa  
C) Nem-Rutubet

**CEVAPLAR**

- 1 (A) (B) (C) 6 (A) (B) (C)  
2 (A) (B) (C) 7 (A) (B) (C)  
3 (A) (B) (C) 8 (A) (B) (C)  
4 (A) (B) (C) 9 (A) (B) (C)  
5 (A) (B) (C) 10 (A) (B) (C)



# TEK VE ÇİFT DOĞAL SAYILAR

## Matematik



### Pratik Bilgi

0 ----> Çift

☹️ 1 ----> Tek

😊😊 2 ----> Çift

😊😊☹️ 3 ----> Tek

😊😊😊😊 4 ----> Çift

😊😊😊😊☹️ 5 ----> Tek

😊😊😊😊😊😊 6 ----> Çift

😊😊😊😊😊😊☹️ 7 ----> Tek

😊😊😊😊😊😊😊😊 8 ----> Çift

😊😊😊😊😊😊😊😊☹️ 9 ----> Tek

😊😊😊😊😊😊😊😊😊😊 10 ----> Çift

Bir doğal sayının tek mi yoksa çift mi olduğunu bulmak için birler basamağına bakarız.

👉 Birler basamağı 0-2-4-6-8 olan sayılar çift,

👉 Birler basamağı 1-3-5-7-9 olan sayılar tek doğal sayılardır.

**Örnek:** 375, 202, 39, 300 sayılarının tek mi yoksa çift mi olduklarını bulalım.

✓ 375 sayısı birler basamağında 5 rakamı olduğu için tek,

✓ 202 sayısı birler basamağında 2 rakamı olduğu için çift,

✓ 39 sayısı birler basamağında 9 rakamı olduğu için tek,

✓ 300 sayısı birler basamağında 0 rakamı olduğu için çift sayıdır.



### Pekiştirme-1

Verilen sayılardan tek olanların yanlarındaki kutucuğa "T", çift olanların yanlarındaki kutucuğa "Ç" yazalım.

54     8     705

241     188     126

390     243     665

990     999     42

865     102     399

401     203     910

237     38     787

### Pekiştirme-2

Aşağıdaki sayılar **tek** sayılardır. Buna göre birler basamaklarına uygun rakamlar yazalım.

4~~3~~... 90.... 66.... 9.... 95.... 10....

28.... 76.... 89.... 22.... 98.... 24....

35.... 5.... 57.... 18.... 55.... 42....

Aşağıdaki sayılar **çift** sayılardır. Buna göre birler basamaklarına uygun rakamlar yazalım.

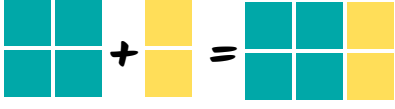
16~~8~~... 20.... 27.... 99.... 75.... 4....

32.... 85.... 9.... 56.... 10.... 86....

3.... 44.... 15.... 49.... 69.... 21....



### Pratik Bilgi



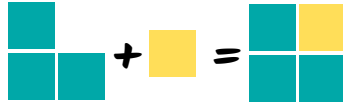
$$4 + 2 = 6$$

$$\text{Ç} + \text{Ç} = \text{Ç}$$

#### KURAL-1

İki çift sayının toplamı her zaman çift sayıdır.

$$\text{Çift} + \text{Çift} = \text{Çift}$$



$$3 + 1 = 4$$

$$\text{T} + \text{T} = \text{Ç}$$

#### KURAL-2

İki tek sayının toplamı her zaman çift sayıdır.

$$\text{Tek} + \text{Tek} = \text{Çift}$$



$$5 + 2 = 7$$

$$\text{T} + \text{Ç} = \text{T}$$

#### KURAL-3

Bir tek sayı ile bir çift sayının toplamı her zaman tek sayıdır.

$$\begin{aligned} \text{Tek} + \text{Çift} &= \text{Tek} \\ \text{Çift} + \text{Tek} &= \text{Tek} \end{aligned}$$

### Pekiştirme-1

Verilen toplama işlemlerinin sonuçlarının tek mi çift mi olduğunu yazalım.

$$53 + 22 \quad \text{T} \quad 86 + 3 \quad \square$$

$$27 + 12 \quad \square \quad 54 + 23 \quad \square$$

$$35 + 27 \quad \square \quad 39 + 42 \quad \square$$

$$40 + 8 \quad \square \quad 53 + 33 \quad \square$$

$$92 + 5 \quad \square \quad 66 + 21 \quad \square$$

$$17 + 46 \quad \square \quad 80 + 11 \quad \square$$

$$12 + 51 \quad \square \quad 22 + 63 \quad \square$$

$$67 + 21 \quad \square \quad 34 + 18 \quad \square$$

$$48 + 20 \quad \square \quad 45 + 5 \quad \square$$

$$75 + 18 \quad \square \quad 79 + 19 \quad \square$$

### Pekiştirme-2

Aşağıdaki toplama işlemlerini yapalım. Sonuçlarının tek mi yoksa çift mi olduğunu işaretleyelim.

$$\begin{array}{r} 25 \\ + 38 \\ \hline \end{array}$$

$$\text{T} \quad \square \quad \text{Ç} \quad \square$$

$$\begin{array}{r} 56 \\ + 21 \\ \hline \end{array}$$

$$\text{T} \quad \square \quad \text{Ç} \quad \square$$

$$\begin{array}{r} 49 \\ + 32 \\ \hline \end{array}$$

$$\text{T} \quad \square \quad \text{Ç} \quad \square$$

$$\begin{array}{r} 27 \\ + 18 \\ \hline \end{array}$$

$$\text{T} \quad \square \quad \text{Ç} \quad \square$$

$$\begin{array}{r} 67 \\ + 21 \\ \hline \end{array}$$

$$\text{T} \quad \square \quad \text{Ç} \quad \square$$

$$\begin{array}{r} 54 \\ + 23 \\ \hline \end{array}$$

$$\text{T} \quad \square \quad \text{Ç} \quad \square$$

$$\begin{array}{r} 19 \\ + 57 \\ \hline \end{array}$$

$$\text{T} \quad \square \quad \text{Ç} \quad \square$$

$$\begin{array}{r} 83 \\ + 12 \\ \hline \end{array}$$

$$\text{T} \quad \square \quad \text{Ç} \quad \square$$

$$\begin{array}{r} 77 \\ + 22 \\ \hline \end{array}$$

$$\text{T} \quad \square \quad \text{Ç} \quad \square$$

$$\begin{array}{r} 65 \\ + 25 \\ \hline \end{array}$$

$$\text{T} \quad \square \quad \text{Ç} \quad \square$$

$$\begin{array}{r} 40 \\ + 52 \\ \hline \end{array}$$

$$\text{T} \quad \square \quad \text{Ç} \quad \square$$

$$\begin{array}{r} 58 \\ + 29 \\ \hline \end{array}$$

$$\text{T} \quad \square \quad \text{Ç} \quad \square$$

Romen rakamlarında sıfır yoktur.



### Pratik Bilgi

20'ye kadar olan romen rakamları üç temel rakam kullanılarak yazılırlar.

I ----> 1   V ----> 5   X ----> 10

I	1	VIII	8	XV	15
II	2	IX	9	XVI	16
III	3	X	10	XVII	17
IV	4	XI	11	XVIII	18
V	5	XII	12	XIX	19
VI	6	XIII	13	XX	20
VII	7	XIV	14		

Romen rakamlarında yan yana en fazla 3 rakam yazılabilir. Örneğin 4 yazmak için dört tane bir yan yana getirilemez. Bunun yerine 4 sayısı 5 sayısından bir önce geldiği için 5 sayısının önüne 1 sayısı konur.

IIII ----> 4 **X**

IV ----> 4 **✓**

VIII ----> 9 **X**

IX ----> 9 **✓**

XIII ----> 14 **X**

XIV ----> 14 **✓**

XVIII ----> 19 **X**

XIX ----> 19 **✓**

**XIV**  
10 ← 4 → 14

**XIX**  
10 ← 9 → 19

**XX**  
10 ← 10 → 20

### Pekiştirme-1

Boşlukları dolduralım.

VII →	7		→	
	←	11		
	←	19		
XII →			→	
	←	8		
XX →			→	
	←	6		
XIV →			→	
	←	16		
V →			→	

### Pekiştirme-2

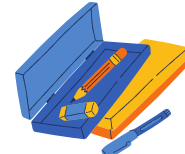
Aşağıda bazı ürünlerin fiyatları verilmiştir. Soruların cevaplarını romen rakamlarıyla eşleştiriniz.




Defter  
5 TL



Kalem  
2 TL



Kalemlik  
14 TL



Silgi  
3 TL

İki defter, iki kalem alan Sema kaç TL öder?

**XIX**

Bir kalemlik, bir defter alan Kerem kaç TL öder?

**XIV**

Ahmet bir defter, üç kalem alıyor. Satıcıya 20 TL veren Ahmet kaç TL para üstü almalıdır?

**XI**

Kalemliğin fiyatı, silginin fiyatından kaç TL fazladır?

**IX**

## Çözümlü Soru

54A üç basamaklı tek doğal sayıdır.

Buna göre A yerine yazılabilecek en büyük rakam kaçtır?

- A) 7      B) 8      C) 9

### ÇÖZÜM:

Bir doğal sayının tek mi yoksa çift mi olduğunu birler basamağına bakarak anlarız. Soruda sayının birler basamağında A harfi bulunmakta, üç basamaklı tek sayı olduğu söylenmektedir. Bu sayının tek olabilmesi için birler basamağındaki rakamlar 1-3-5-7-9 olmalıdır. Bize en büyük rakamı sorduğuna göre A yerine 9 rakamını yazmamız gerekmektedir.

Doğru Seçenek: C

## Çözümlü Soru

3-7-4 rakamları bir kez kullanılarak yazılabilecek en büyük çift sayı kaçtır?

- A) 374      B) 734      C) 743

### ÇÖZÜM:

3-7-4 rakamlarını birer kez kullanarak en büyük 743 sayısına yazabiliriz. Ancak 743 sayısı tek sayıdır. Soru bizden en büyük çift sayıyı bulmamızı istemektedir. Buna göre 7 rakamı yine yüzler basamağında kalmalı, onlar basamağındaki 4 rakamı sayımızı çift sayı yapması için birler basamağındaki 3 rakamı ile yer değiştirmelidir. Buna göre verilen rakamlarla yazılabilecek en büyük çift sayı 734 olur.

Doğru Seçenek: B

## Çözümlü Soru

Üç basamaklı rakamları farklı en küçük çift sayı kaçtır?

- A) 100      B) 101      C) 102

### ÇÖZÜM:

Üç basamaklı en küçük çift sayı 100'dür. Ancak soruda rakamlarının farklı olması istenmektedir. Bu yüzden 100 sayısından sonra gelen en küçük çift sayı 102'dir ve rakamları da birbirinden farklıdır.

Doğru Seçenek: C

## Çözümlü Soru

▲ → XIV      ● → IX

Yukarıda verilen bilgilere göre ▲ + ● işleminin sonucu kaçtır?

- A) 23      B) 26      C) 32

### ÇÖZÜM:

XIV ---> 14

IX ----> 9 demektir.

Buna göre 14+9 işleminin sonucu 23'tür.

Doğru Seçenek: A



Adım-Soyadım:.....

## BÖLÜM-1

10

Puan

Tek sayıların olduğu kutucukları maviye, çift sayıların olduğu kutucukları kırmızıya boyayalım.

752	520	303	646	405
91	988	57	229	134

## BÖLÜM-2

20

Puan

Aşağıdaki sayılardan bir önce ve bir sonra gelen sayıları romen rakamı ile yazalım.

<input type="text"/>	← 15 →	<input type="text"/>
<input type="text"/>	← 3 →	<input type="text"/>
<input type="text"/>	← 17 →	<input type="text"/>
<input type="text"/>	← 11 →	<input type="text"/>
<input type="text"/>	← 8 →	<input type="text"/>
<input type="text"/>	← 12 →	<input type="text"/>
<input type="text"/>	← 19 →	<input type="text"/>
<input type="text"/>	← 7 →	<input type="text"/>
<input type="text"/>	← 16 →	<input type="text"/>
<input type="text"/>	← 5 →	<input type="text"/>

## BÖLÜM-3

20

Puan

Aşağıda istenilen bilgilere göre oluşan sayıları kutucuklara yazalım.

- \*Üç basamaklı en büyük çift sayı
- \*İki basamaklı en küçük tek sayı
- \*2,7,0 rakamları birer kez kullanılarak yazılabilecek en büyük çift sayı
- \*300'den küçük en büyük çift sayı
- \*Rakamları farklı üç basamaklı en büyük tek sayı
- \*Rakamları farklı üç basamaklı en küçük çift sayı
- \*İki basamaklı en büyük çift sayı
- \*Onlar basamağı 4 olan üç basamaklı en büyük çift sayı
- \*İki basamaklı en büyük çift sayı
- \*Üç basamaklı en küçük çift sayı

325	509	400
727	106	242

1- Yukarıdaki tablodaki tek sayılar boyandığında oluşan şekil hangi seçenekte doğru olarak verilmiştir?

- A) 

		400
	106	242

 B) 


325	509	
727		
- C) 

325		400
		242



6- XIX romen rakamını karşılayan doğal sayı aşağıdakilerden hangisidir?

- A) 20 B) 19 C) 18



7- Yukarıdaki kitaplardan hangisinin sayfa sayısı çift doğal sayı değildir?

- A) B) C)



2- Beren'in okul numarası rakamları farklı üç basamaklı en küçük tek sayıdır.

Buna göre Beren'in okul numarası kaçtır?

- A) 100 B) 101 C) 103



8- Aşağıdaki eşleştirmelerden hangisi yanlıştır?

- A) IX -> On Bir B) XIV -> On Dört  
C) XII -> On İki



3- Aşağıdaki ifadelerden hangisi yanlıştır?

- A) 327 sayısı tek doğal sayılardandır.  
B) İki çift sayının toplamı çift sayıdır.  
C) Üç basamaklı en küçük tek doğal sayı 100'dür.



9- XIV+IV işleminin sonucu hangi seçenekte doğru olarak verilmiştir?

- A) 14 B) 16 C) 18



4- 546 sayısı için aşağıdaki ifadelerden hangisi doğrudur?

- A) Tek doğal sayıdır.  
B) Onlar basamağındaki rakamın romen rakamı ile yazılışı IV şeklindedir.  
C) Basamak değeri en büyük olan rakam 6'dır.




10- Aşağıdaki toplama işlemlerinden hangisinin sonucu tek doğal sayıdır?

- A)  $\begin{array}{r} 39 \\ + 27 \\ \hline \end{array}$  B)  $\begin{array}{r} 55 \\ + 35 \\ \hline \end{array}$  C)  $\begin{array}{r} 45 \\ + 28 \\ \hline \end{array}$



## CEVAPLAR

- 1 (A) (B) (C) 6 (A) (B) (C)  
2 (A) (B) (C) 7 (A) (B) (C)  
3 (A) (B) (C) 8 (A) (B) (C)  
4 (A) (B) (C) 9 (A) (B) (C)  
5 (A) (B) (C) 10 (A) (B) (C)



5- Hangi çocuk romen rakamlarının yazılışında yanlışlık yapmıştır?

- A) 

14
XIIII

 B) 

9
IX

 C) 

17
XVII



# DUYU ORGANLARININ SAĞLIĞI



### Pratik Bilgi



#### GÖZ SAĞLIĞI İÇİN

- Kendimize ait havlu kullanmalıyız. Kullandığımız havlumuzu sık sık değiştirmeliyiz.
- Televizyona yakından bakmamalıyız. Televizyon ile aramızda en az 3-4 metre mesafe olmasına dikkat etmeliyiz.
- Kitap okurken kitap ile aramızda 30 cm. mesafe bırakmalıyız.
- Televizyon, tablet ve akıllı telefona uzun süre bakmamalıyız.
- Yılda bir kez gözlerimizi kontrol ettirmeliyiz. Ancak görmemizde herhangi bir sıkıntı olduğunu düşünüyorsak vakit kaybetmeden doktora gitmeliyiz.



#### KULAK SAĞLIĞI İÇİN

- Kulağımızı sert cisimlerle karıştırmamalıyız.
- Gürültülü ortamlardan uzak durmalıyız.
- Uzun süre kulaklık kullanmamalıyız.



#### DİL SAĞLIĞI İÇİN

- Aşırı sıcak ve aşırı soğuk gıdalardan uzak durmalıyız.
- Ne olduğunu bilmediğimiz maddelerin tadına bakmamalıyız.
- Ağız temizliğimize önem vermeli, dişlerimizi fırçalarken dilimizi de temizlemeliyiz.



#### BURUN SAĞLIĞI İÇİN

- Burnumuzu temiz bir mendil kullanarak silmeli ve sürekli temiz tutmalıyız.
- Burnumuzu karıştırmamalıyız.
- Çamaşır suyu gibi kimyasal maddeleri koklamamalıyız.



#### DERİ SAĞLIĞI İÇİN

- Sık sık banyo yapmalı, el, yüz ve vücut temizliğimize dikkat etmeliyiz.
- Yaz aylarında derimizi güneşin zararlı ışınlarına karşı korumalıyız.
- Ezilme, kesilme, yanma gibi durumlara karşı dikkatli olmalıyız.



## Pekiştirme-1

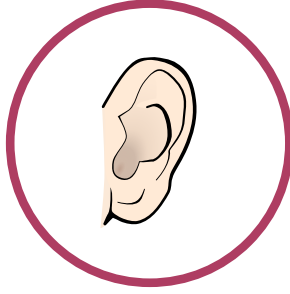
Aşağıdaki yazı tahtaları üzerinde yazılı olan duyu organlarımızın sağlığının korunması ile ilgili dikkat etmemiz gereken maddeler ile ilgili oldukları duyu organını eşleştirelim.

Çok gürültülü ortamlardan uzak durmalıyız.




Uzun süre kulaklık kullanmamalıyız.

Bilgisayara çok uzun süre bakmamalıyız.




Kitap okurken 30 cm. mesafe bırakmalıyız.

Yüksek sesle müzik dinlememeliyiz.



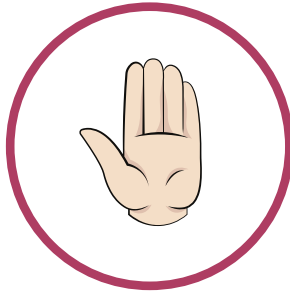
Kimyasal maddeleri koklamamalıyız.

Aşırı sıcak ve aşırı soğuk gıda yememeliyiz.



Bilmediğimiz maddelerin tadına bakmamalıyız.

Sık sık sabunla yıkamalıyız.



Temiz bir mendil kullanarak silmeliyiz.





Adım-Soyadım:.....

## BÖLÜM-1

30  
Puan

Duyu organlarımızın sağlığının korunması için gerekli olan davranışlardan ikişer tanesini yazalım.

GÖZ



KULAK



DİL



BURUN



DERİ



## BÖLÜM-2

20  
Puan

Aşağıdaki ifadeleri okuyalım. Doğruysa "D", yanlışsa "Y" kutucuğunu işaretleyelim.

D Y

<input type="checkbox"/>	<input type="checkbox"/>
<input type="checkbox"/>	<input type="checkbox"/>
<input type="checkbox"/>	<input type="checkbox"/>
<input type="checkbox"/>	<input type="checkbox"/>
<input type="checkbox"/>	<input type="checkbox"/>

Televizyona yakından bakmak gözlerimizi etkilemez.

Kulaklarımız kirlendiğinde sivri uçlu bir cisimle temizlemeliyiz.

Tablet, akıllı telefon, bilgisayar gibi cihazlara uzun süre bakmamalıyız.


Deri sağlığımızı korumak için düzenli olarak banyo yapmalıyız.

Bilmediğimiz bir maddenin ne olduğunu anlamak için tadına bakmalıyız.


1- Aşağıdaki çocuklardan hangisinin duyu organlarının sağlığını koruduğunu söyleyebiliriz?



Yüksek sesle müzik dinlemeyi çok seviyorum.



Televizyona çok yakından bakmak hoşuma gidiyor.



Her yıl düzenli olarak göz muayenesine gidiyorum.



6- Ağız temizliğine dikkat etmek ..... sağlığı açısından önemlidir. Yukarıdaki cümlede boş bırakılan yere hangi ifade yazılmalıdır?

- A) Dil B) Kulak C) Burun



7-



Ali

..... için artık gözlük takmak zorundayım.

Ali'nin söylediği cümlede boş bırakılan yere hangi ifade yazılabilir?

- A) Televizyona uzaktan baktığım...  
B) Ellerimi düzenli olarak yıkadığım...  
C) Tablete çok uzun süre baktığım...



2- Aşırı sıcak ve aşırı soğuk gıdalar tüketmemeliyiz.

Yukarıdaki ifade hangi duyu organımızın sağlığı ile ilgilidir?

- A) Göz B) Dil C) Burun



8- Yüksek sesle müzik dinleyen bir kişinin hangi duyu organı zarar görebilir?

- A) Göz B) Kulak C) Burun



9- Kulak sağlığımızı korumak için aşağıdaki davranışlardan hangisini yapmamalıyız?

- A) Sivri cisimlerle temizlemeliyiz.  
B) Gürültülü ortamlarda bulunmamalıyız.  
C) Uzun süre kulaklık kullanmamalıyız.



10-



Benim sağlığımı korumak için ne olduğunu bilmediğin maddelerin tadına bakmamalısın.

Yukarıdaki ifade hangi duyu organına aittir?

- A) B) C)



4- Aşağıdaki ifadelerden hangisi doğrudur?

- A) Burnumuzu temiz bir mendille temizlemeliyiz.  
B) Uzun süre kulaklıkla müzik dinlemek zararlı değildir.  
C) Aşırı ışıklı ortamlar göz sağlığımız için faydalıdır.



5- Banyo yapmak hangi duyu organımızın sağlığı açısından önemlidir?



Göz



Dil



Deri



## CEVAPLAR

1 (A) (B) (C) 6 (A) (B) (C)

2 (A) (B) (C) 7 (A) (B) (C)

3 (A) (B) (C) 8 (A) (B) (C)

4 (A) (B) (C) 9 (A) (B) (C)

5 (A) (B) (C) 10 (A) (B) (C)





## Pratik Bilgi

Ders: Hayat Bilgisi

Konu: Okulumuzun Bize Katkıları

Her insanın eğitim alma hakkı vardır. Okullar, eğitim ve öğretim yapılan kurumlardır. Okulda hem yeni bilgiler öğreniriz hem de kendimizi geliştiririz. Böylece güzel bir geleceğe adım adım ilerleriz.

Okullar bize **eğitsel**, **sosyal** ve kültürel yönden katkılar sağlar.

--> Deprem tatbikatları **eğitsel**,

--> İşbirliği ve dayanışmayı öğrenmemiz **sosyal**,

--> Müze gezileri **kültürel** etkinliklere birer örnektirler.



## Pekiştirme-2

Aşağıda bazı sınıf ve okulların düzenlediği etkinlikler verilmiştir. Bu etkinliklerin ne tür etkinlikler olduğunu altlarına yazınız. (Eğitsel, Kültürel, Sosyal)

3-A Sınıfı  
Sokak  
Hayvanlarına  
Yardım Etkinliği

Yunus Emre  
İlkokulu  
Kız Kulesi Gezisi

23 Nisan İlkokulu  
Zeka Oyunları  
Kulübü

Cumhuriyet  
İlkokulu  
Deprem Tatbikatı

3-C Sınıfı  
El Emeği Ürünler  
Sergisi

İstiklal İlkokulu  
İhtiyacı Olan  
Okullara Kitap  
Yardımları



Adım-Soyadım:.....

## BÖLÜM-1

30  
Puan

Aşağıdaki ifadeleri okuyalım. Doğruysa "D", yanlışsa "Y" kutucuğunu işaretleyelim.

D Y


Okul bize yardımlaşmayı ve dayanışmayı öğretir.

Okul, iyi bir vatandaş olmak için toplumda uymamız gereken kuralları öğretir.

Okulda yapılan etkinlikler işbirliğini öğrenmemizi sağlamaz.

Okulda planlı ve düzenli çalışmayı öğreniriz.

Okul insanlarla olan ilişkilerimizi zayıflatır.

## BÖLÜM-2

40  
Puan

Aşağıdaki cümlelerdeki boşlukları uygun ifadelerle dolduralım.

yetenekli    eğitsel    özgüvenimiz    kültürel    kermesler

Müze gezileri okulda yaptığımız \_\_\_\_\_ etkinliklerdendir.

Okulda yapılan etkinlikler sayesinde \_\_\_\_\_ olduğumuz alanları keşfederiz.

Okulda yapılan etkiliklere katıldığımızda \_\_\_\_\_ artar.

"Trafik Kuralları" etkinliği okulda yaptığımız \_\_\_\_\_ etkinliklere örnektir.

Okulda düzenlenen \_\_\_\_\_ sosyal etkinliklere örnektir.

## BÖLÜM-3

30  
Puan

Okulunuzda yapılan ya da yapılmasını istediğiniz eğitsel, kültürel ve sosyal etkinliklere birer tane örnek yazınız.

EĞİTSEL

KÜLTÜREL

SOSYAL

