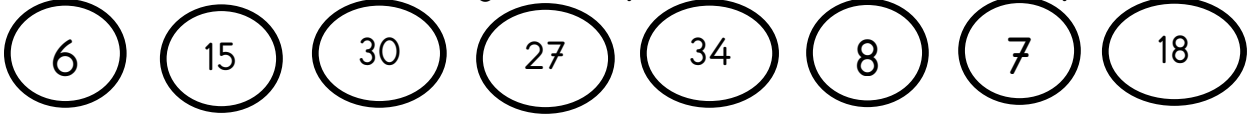


## Matematik Problemleri 1

Ayşe öğretmen elinde bir torba ile sınıfa geliyor. Torbanın içinde üzerinde rakam ve sayılar yazılı toplar var. Torbadaki toplar;



1. Torbadaki en büyük sayının 9 eksiği kaçtır?

Çözüm:

2. Torbadaki en küçük sayının 14 fazlası kaçtır?

Çözüm:

3. Elif torbadan 10' ar sayarken söylediği 3. sayı yazılı topu ve 5' er sayarken söylediği 3. Sayı yazılı topu seçiyor. Öğretmeni bu sayıları toplamasını ve onluk birliklerine ayırmasını istiyor. Elif nasıl bir işlem yapmıştır?

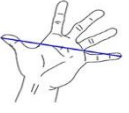
Çözüm:

4. Murat torbadan 2 onluk 7 birlik sayısının yazılı olduğu topu seçiyor. Öğretmen Murat' tan bu sayıyı yazmasını ve bu sayıyı yazdığında kullandığı harf sayısı ile torbadan çektiği sayıyı toplamasını istiyor. Murat sonucu kaç bulmuştur?

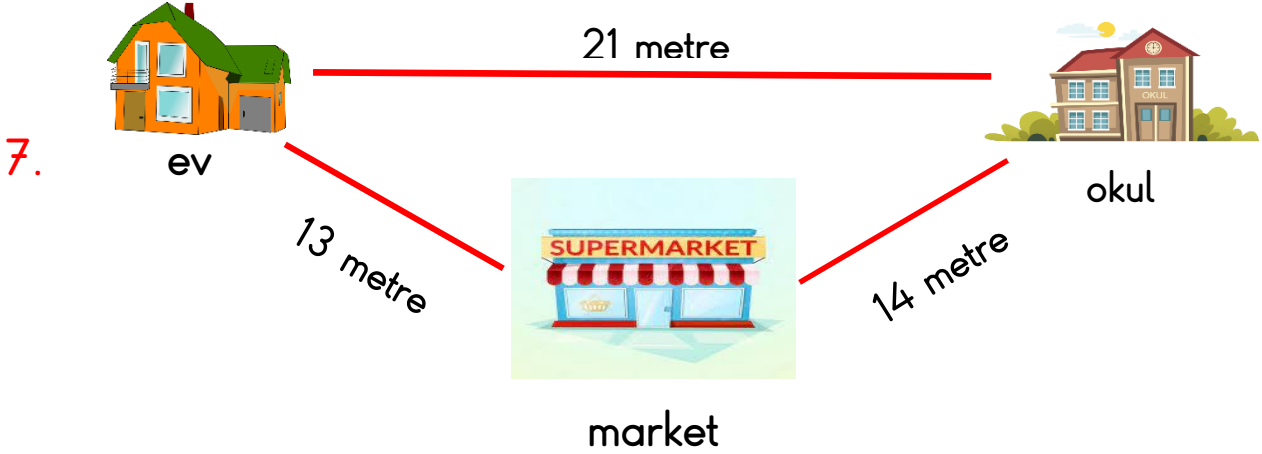
Çözüm:

5. Seçil torbadan arka arkaya gelen üç sayının yazılı olduğu topları seçiyor. Gizem ise 1 onluk 8 birlik sayısının yazılı olduğu topu seçiyor. Öğretmen Seçil' e seçtiği topların toplamının, Gizem' in seçtiği toptan kaç fazladır diye soruyor? Seçil kaç bulmuştur?

Çözüm:

6.  Zeliha ve Ülkü sınıflarındaki tahtanın boyunu karışları ile ölçüyorlar. Zeliha tahtanın boyunu 13 karış, Ülkü ise 9 karış ölçüyor. Zeliha ve Ülkü'nün karışları arasındaki fark kaçtır?

Çözüm:



Yukarıdaki görsele göre Sinan evden çıkıp önce markete, sonra okula gidiyor. Okuldan çıkınca da doğrudan eve gidiyor. Buna göre Sinan toplam kaç metre yürümüş olur?

Çözüm:

8. Aşağıdaki soruların cevaplarını karşlarına yazalım.

Onluk ve birliği aynı olan sayı yazar mısın?.....

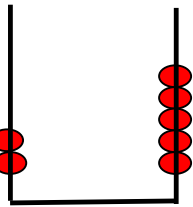
3 birlik 4 onluk kaç eder? .....

37 sayısında kaç onluk vardır?.....

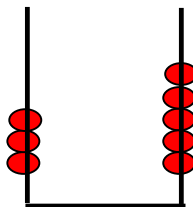
23 sayısına kaç eklersem 3 onluk eder?.....

7 rakamına kaç eklersem 1 onluk eder?.....

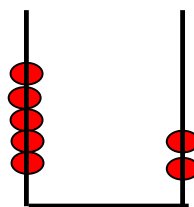
Aşağıda abaküste verilen sayıları altlarına yazalım.



.....



.....



.....

