

1

Buse tanesi 200 kr olan silgiden 4 tane aldı. Buse kaç TL ödemelidir?




5

8 tane 25 kuruş ve 4 tane 50 kuruş kaç TL eder?




2

Hasan 4 tanesi 600 kr olan kaleminden 6 tane alırsa kaç TL öder ?




6

Efe, 1 kitap ve 3 defter için satıcıya 40 TL verdi. Bir defterin fiyatı 5 TL olduğuna göre, kitabın fiyatı ne kadardır?




3

Beyza, 8 tanesi 24 lira olan çoraptan 5 tane aldı. Satıcıya kaç lira vermelidir?




7

Elif 6 TL ile tanesi 25 kr olan sakızdan kaç tane alabilir?




4

Hasan aldığı simit için satıcıya 4 tane 25 kr ve 2 tane 50 kr ödemiştir. Simitin fiyatı ne kadardır ?





8


Ömer tanesi 13 TL olan gülden bir düzine aldı. Ömer satıcıya en büyük kağıt paramızı verdi. Ömer kaç TL para üstü alır?



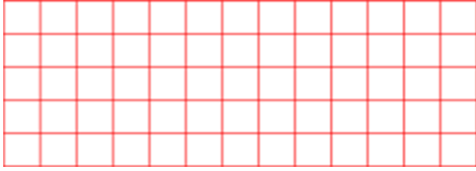

**9** Günde 3 TL 25 kuruş harcayan Şeyma, bir haftada ne kadar para harcamış olur?



**13** Ecrin 72 lirasının çeyreğini harcadı. Kalan parasının da 24 lirasını kardeşine verdi. Ecrin' in geriye kaç lirası kaldı?



**10** Bir kitapçı 2 liradan aldığı kitapları 3 lira 50 kuruştan satıyor. 9 kitabı satınca kaç lira kar eder?



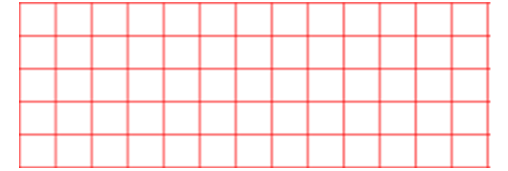
**14** Mehmet her gün kumbarasına 3 TL 25 kr para atıyor. 1 hafta 5 gün sonra ne kadar parası olur?




**11** Nisa tanesi 450 kr olan bisküviden kendisine ve arkadaşına birer tane alıyor. Satıcıya 10 TL verdiği göre, ne kadar para üstü alır?



**15** 52 lira olan bir gömlek 60 liraya satılıyor. 15 gömleğin satışından ne kadar para kazanırım?



**12** Nisa tanesi 450 kr olan bisküviden kendisine ve arkadaşına birer tane alıyor. Satıcıya 10 TL verdiği göre, ne kadar para üstü alır?



**16** Annem 450 TL'ye ütü aldı. Satıcıya 300 lira verdi ve kalan parayı 5 taksitle ödeyeceğini söyledi. Annem her ay satıcıya ne kadar ödeme yapacaktır?

