





























































## BEŞER İLERİ RİTMİK SAYMA YAPMAYI ÖĞRENİYORUM





















Aşağıdaki beşer ritmik saymada verilmeyen sayıları örneğe bakarak yazınız.

5	10	15	20	25	30	35	40	45	50	55	60	65	70	75	80	85	90	95	100
---	----	----	----	----	----	----	----	----	----	----	----	----	----	----	----	----	----	----	-----

																			
5		15		25		35		45		55		65		75		85		95	

																			
	10		20		30		40		50		60		70		80		90		100

																			
5	10		20	25		35	40		50	55		65	70		80	85		95	100

																			
5	10	15		25	30	35		45	50	55		65	70	75		85	90	95	