

UZUNLUKLARI ÖLÇELİM

Uzunluk ölçüsü birimlerini iki şekilde inceleyebiliriz.

1. Standart olmayan ölçü birimleri
2. Standart ölçü birimleri

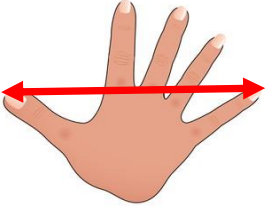
Standart Olmayan Ölçü Birimleri

parmak



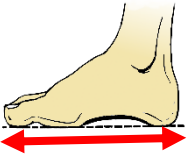
Elimizdeki bir parmağımızın eni kadar olan uzunluk ölçüsüne **parmak** denir.

karış



Elimizin baş parmağı ile küçük parmağı arasında kalan mesafeye **karış** denir.

ayak



Ayak başparmağımız ile topuğumuz arasında kalan mesafeye **ayak** denir.

adım



Bir ayağımızı öne attığımızda öndeki ve arkadaki ayak arasında kalan mesafeye **adım** denir.


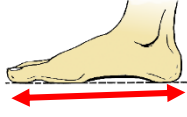
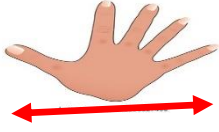
kulaç



İki kolumuzu yana doğru açtığımızda iki kolumuz arasında kalan mesafeye **kulaç** denir.

UZUNLUKLARI ÖLÇELİM

1. Aşağıda verilen görselleri uygun kelimelerle eşleştirelim.



ayak

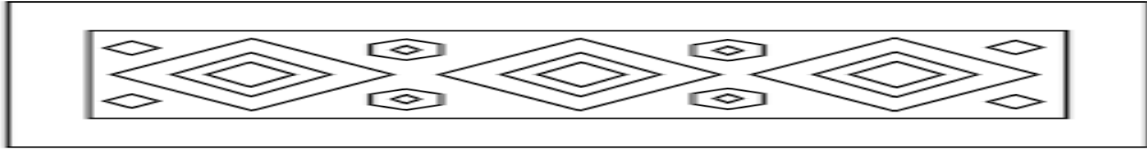
kulaç

adım

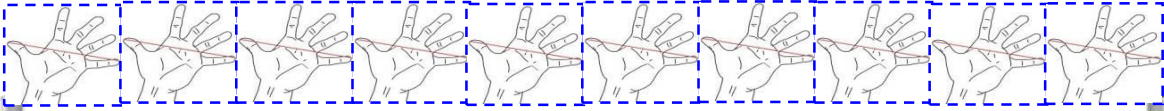
parmak

karış

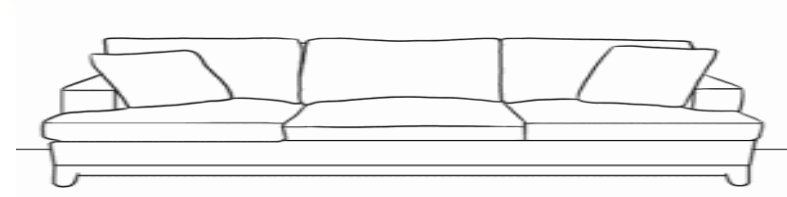
2. Aşağıdaki kilimin uzunluğudır.



3. Aşağıdaki tahtanın uzunluğutır.



4. Aşağıdaki koltuğun uzunluğutır.



5. Silginin boyu yaklaşık.....parmaktır.



6. Aşağıda verilenlerin uzunlukların ne ile ölçülebileceğini altlarına yazın.

Defterin kalınlığı :.....

Kitabın boyu :.....

Televizyonun eni :.....

Tahtanın uzunluğu:.....

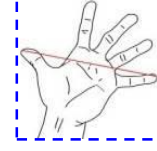
Sıranın boyu :.....

Masanın yüksekliği:.....

Salonun boyu :.....

Buzdolabının yüksekliği :.....

Kapının boyu:.....



7. Aşağıda verilen ölçümleri önce tahmin ediniz. Sonra ölçüm yapıp tahminlerinizle karşılaştırınız.


Soru	Tahminim	Gerçek Ölçüm Sonucu
Hikaye kitabımın boyu.....parmaktır.		
Salon kapısının boyu.....karıştır.		
Yemek masasının boyukarıştır.		
Mutfak halısının uzunluğuayaktır.		
Oturma odasının boyu.....adımdır.		
Yatağımın uzunluğu.....kulaçtır.		
Bulaşık makinesinin eni.....parmaktır.		

UZUNLUK ÖLÇME


1. Aşağıdaki çocukları en uzundan kısaya doğru sıralayalım.




3. Aşağıdaki zürafanın sağına ondan **kısa**, soluna ondan uzun zürafa çizelelim.



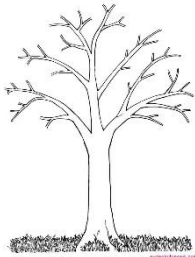
4. En uzun hayvanı işaretleyiniz.



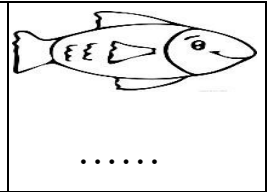


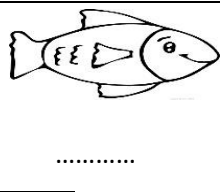

5. Uzun laleyi sarıya, kısa laleyi mora boyayalım.




6. Aşağıdaki ağaçtan **daha uzun** bir ağaç çiziniz.



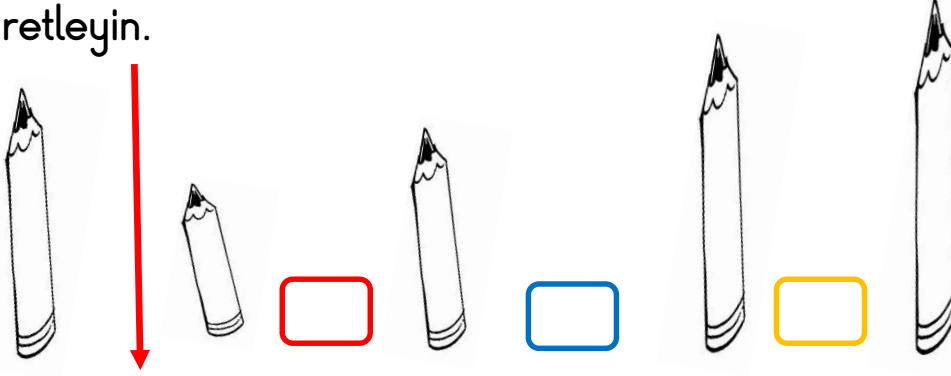
7. Aşağıdaki balıkları uzundan kısaya doğru numaralandırın.



8. Aşağıdaki balıkları uzundan kısaya doğru numaralandırın.



9. En baştaki kalemi boy sırasındaki yerine göre uygun kutuyu işaretleyin.



10. Aşağıdaki soruları şekillere göre yanıtlayınız.



En uzun lalerenk olandır.

En kısa lalerenk laledir.

Sarı lalelaleden daha uzundur.

Pembe lale büyükten küçüğe sıralama yaparsaksırada yer alır.

Kırmızı lale küçükten büyüğe doğru sıralarsak.....sırada yer alır.

Büyükten küçüğe sıralama yaparsak 1. sıradarenk lale vardır.

Küçükten büyüğe sıralama yaparsak 2. sırada.....renk lale vardır.

Kırmızı lalenin **soluna** kırmızı laleden uzun turuncu bir lale çizin.

Sarı lalenin **sağına** sarı laleden kısa yeşil bir lale çizin.

Mor lalenin **sağına** mor laleden uzun bir nesne çiziniz.