

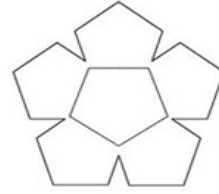


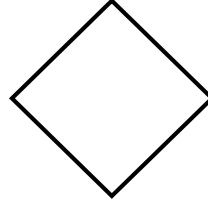
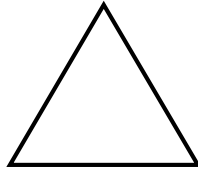
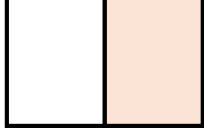
ADI SOYADI :

Veli


OKUL NO :

İmza

1- Aşağıda verilen şekilleri örnekte olduğu gibi iki eş parçaya ayırınız ve yarısını boyayınız.



2- Aşağıdaki yarılardan kaç tam (bütün) oluştuğunu karşılarına yazınız.



3- Aşağıdaki alıştırmaları örnekte olduğu gibi yapınız.

1 bütün elma ...2...yarım elma eder.

2 bütün ekmek ..... yarım ekmek eder.

4 bütün simit ..... yarım simit eder.

3 bütün limon .....yarım limon eder.

5 bütün armut ..... yarım armut eder.

4- Aşağıdaki alıştırmaları örnekte olduğu gibi yapınız.

2 yarım limon ...1... bütün limon eder.

4 yarım ekmek ..... bütün ekmek eder.

6 yarım elma ..... bütün elma eder.

8 yarım simit ..... bütün simit eder.

5- Aşağıdaki alıştırmaları yapınız.

1 bütün ...2... yarım eder.

2 yarım ..... bütün eder.

3 bütün ..... yarım eder.

4 yarım ..... bütün eder.

2 bütün ..... yarım eder.

6 yarım ..... bütün eder.

5 bütün ..... yarım eder.

8 yarım ..... bütün eder.

4 bütün ..... yarım eder.

10 yarım ..... bütün eder.

6 bütün ..... yarım eder.

12 yarım ..... bütün eder.

8 bütün ..... yarım eder.

14 yarım ..... bütün eder.

7 bütün ..... yarım eder.

16 yarım ..... bütün eder.

6- Aşağıdaki alıştırmaları yapınız.

3 yarım ..1.. bütün ...1.. yarım eder.

5 yarım ..... bütün ..... yarım eder.

7 yarım ..... bütün ..... yarım eder.

7- Soruların cevaplarını yazınız.

6 yarım elma, kaç bütün elma eder? (.....)

2 yarım karpuz, kaç bütün karpuz eder? (.....)

4 bütün simit, kaç yarım simit eder? (.....)

7 bütün pasta, kaç yarım pasta eder? (.....)

3 bütün, 4 yarım ekmek kaç bütün ekmek eder ? (.....)