

29 EKİM

Bu gün çok heyecanlıyım. Çünkü bu gün Cumhuriyet Bayramı. 29 Ekim 1923 yılında cumhuriyet ilan edildi. En güzel kıyafetlerimi giyip okula geldim. Okulda sınıfları bayraklarla süsledik. Arkadaşlarım şiirler okudu. Bu sevinç yalnızca okulda değil sokaklarda da devam etti. Bir sonraki Cumhuriyet Bayramı'nı dört gözle bekliyorum.

1, 2 ve 3. Soruları metne göre cevaplayın.

1. Cumhuriyet Bayramı ne zaman kutlanır?

- A) 19 Mayıs
- B) 23 Nisan
- C) 29 Ekim

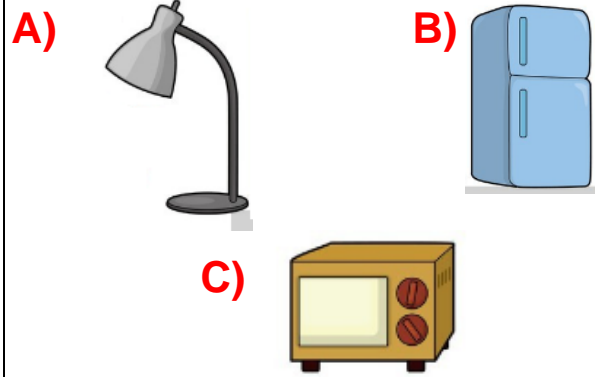
2. Çocuk dört gözle neyi bekliyor?

- A) Şiir okumayı.
- B) Sınıfı süslemeyi.
- C) Bayramın gelmesini.

3. Cumhuriyet Bayramı okul dışında nerde kutlanmıştır?


- A) parklarda
- B) evlerde
- C) sokaklarda


4. Aşağıdaki görsellerden hangisinin adında daha fazla harf vardır?



5. "j" ile "i" arasındaki harf :
"i" ile "j" arasındaki harf :
"p" ile "s" arasındaki harf :
"b" harfinden önceki harf :
"y" harfinden sonraki harf :

Yukarıdaki bilgiye göre aşağıdaki görsellerden hangisinin adını yazabiliriz?





Yukarıdaki kelimelerle anlamlı ve kurallı cümle oluşturmak için hangi kelimeler yer değiştirilmelidir?

- A) minik-suya**
B) daldı-balık
C) minik-balık




Ali'nin sorduğu bilmecenin cevabı hangi seçenekte verilmiştir?

- A) s-** **B) b-** **C) ğ-**

8. Aşağıdaki cümlelerin hangisinde zıt anlamlı kelimeler bir arada verilmiştir?

- A) Koşarken çok dikkatli olmalıyız.**
B) Güzel resim yapıyorum.
C) Sinan İleri geri koşturuyordu.



Çocuğun düşündüğü kelimeler arasındaki anlam ilişkisi aynı olduğuna göre "?" yerine hangi kelime gelmelidir?

- A) al** **B) yeşil** **C) ak**

10.

Soru cümlelerinin sonuna gelir. (...)

Şaşkınlık bildiren cümlelerinin sonuna gelir (...)

Eş görevli kelimelerin arasına konulur (...)

Yukarıdaki bilgilere göre sırasıyla hangi noktalama işaretleri kullanılmalıdır?

- A) nokta - ünlem - soru işareti**
B) soru işareti - ünlem - virgül
C) soru işareti - ünlem - nokta

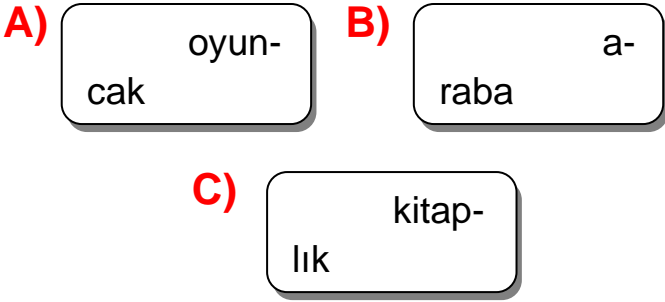
11.

Eyvah () bardak kırıldı ()

Yukarıdaki cümlede ayraç yerine hangi noktalama işareti kullanılamaz?



12. Aşağıdaki kelimelerden hangisi satır sonuna yanlış ayrılmıştır?



13. Yaşlı kadın bastonuyla yolda yürüyordu.

Yukarıdaki cümlede altı çizili kelimenin yerine aşağıdaki kelimelerden hangisi yazılırsa cümlenin anlamı değişmez?

- A) teyze B) ihtiyar
C) genç

14.

1. tiren	2. sürpriz
3. öğretmen	4. sipor

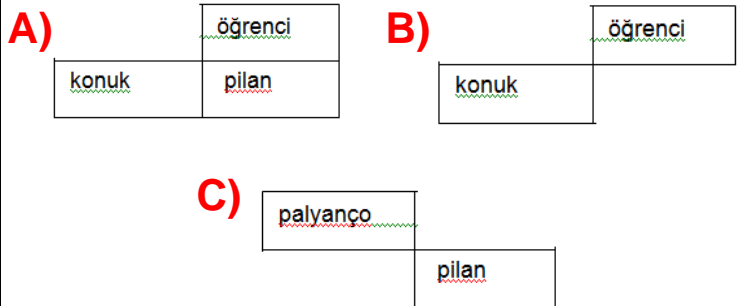
Yukarıdaki kelimelerden kaç tanesi yanlış yazılmıştır?

- A) 4
B) 3
C) 2


15.

palyanço	öğrenci
konuk	pilan

Yukarıdaki tabloda yazımı yanlış olan kelimelerin bulunduğu kutucuğu kesip alırsak geriye nasıl bir görüntü çıkar?



16.



Yukarıdaki kalemlere kaç kalem daha eklersem 20 tane kalem olur?

A) 6 B) 4 C) 2

17.



Yukarıdaki çileklere kaç tane çilek eklersem bir düzine eder?

A) 2 B) 4 C) 6

18.



Yukarıda istenen sayı aşağıdakilerden hangisidir?

A) 10 B) 12 C) 14

20.



Tabletin üzerinde yazan sayıyı hangi seçenekte onluk ve birliklerine doğru ayrılmıştır?

A)

8 onluk
4 birlik

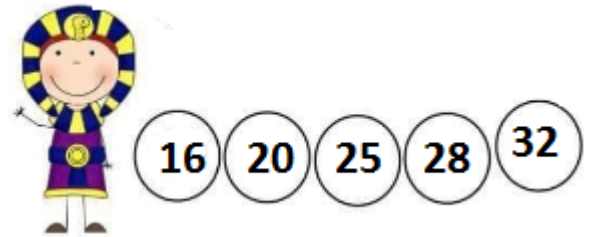
B)

4 onluk
8 birlik

C)

4 onluk
6 birlik

21.



Yukarıdaki örüntüyü bozan sayı hangisidir?

A) 25 B) 28 C) 32

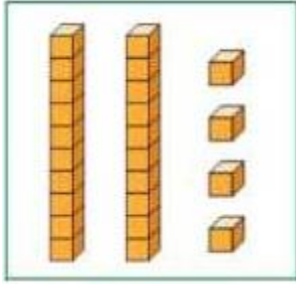
22.



Aklımda tuttuğum sayı 65 sayısına en yakın onluktur.

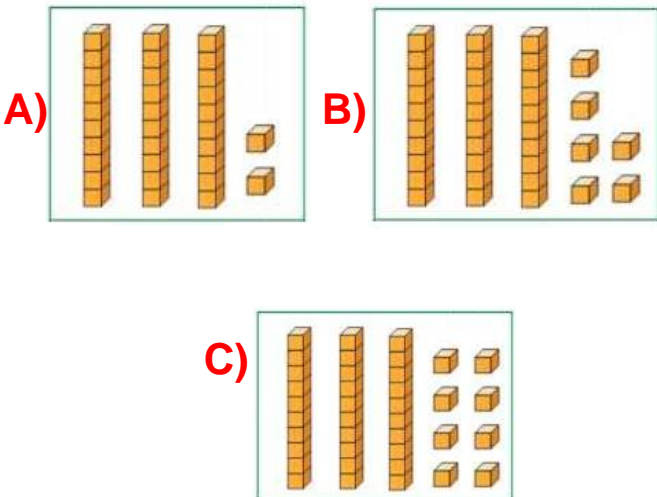
Minik kuşun tuttuğu sayı aşağıdaki toplama işlemlerin sonuçlarından hangisidir?

- A) $45 + 15 : ?$ B) $32 + 33 : ?$
C) $50 + 20 : ?$



23.

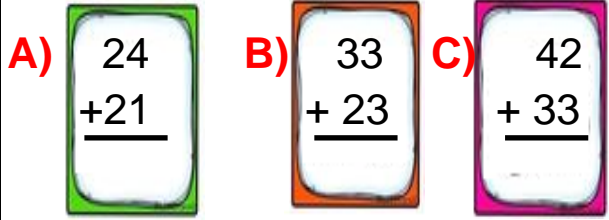
Yukarıdaki bloklarla gösterilen sayıdan başlayarak ileriye dörder ritmik saydığımızda 4. Sayı kaçtır?



24.



Aşağıdaki toplama işlemlerinden hangisinin sonucu yukarıdaki kartların içinde yazmamaktadır?



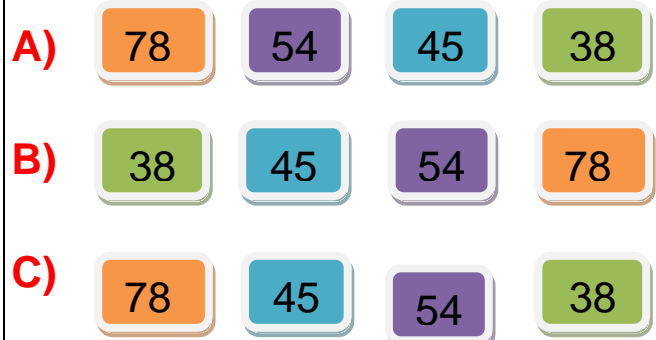
25. Onluğa yuvarlandığında 50 olan en küçük sayı aşağıdakilerden hangisidir?

- A) 45 B) 49 C) 54

26.



Yukarıdaki sayıları büyükten küçüğe sıralarsak kartlar nasıl sıralanmalıdır?



27.



Bilet kuyruğunda çocuk kaçıcı sıradadır?

A) 5 B) 4. C) 5.

28.



Yukarıdaki ritmik saymada ▲ yerine hangi sayı gelmelidir?

A) 50 B) 42 C) 40

30.

I. Saç rengi
II. Göz rengi
III. Sinirli olmak

Yukarıdaki bilgilerden hangileri fiziksel özelliğimizdir?

A) I, II B) I, III C) I, II, III

31.



Verilen görevi zamanında yapmalıyız.



Görev dağılımını adaletli olmalıyız.



En fazla işi çalışkan öğrenciler yapar.

Yukarıdaki çocuklardan hangisi grup çalışması için yanlış bilgi vermiştir?

A)



B)



C)



32. Sınıfta karar alınırken aşağıdaki bilgilerden hangisi yanlıştır?

A) Arkadaşların fikirlerini hoşgörülle dinlemeliyiz.

B) Farklı görüşlere saygılı olmalıyız.

C) Sınıfta kararları öğretmen verir.

33.

I. Önceliğimiz isteklerimiz olmalıdır.

II. İsteddiğimiz her şeyi alabilir.

III. İhtiyaç listesi hazırlamak tasarruflu olmamızı sağlar.

Yukarıda verilen bilgilerden hangileri doğrudur?

A) I, II, III B) I, III C) III

34.



Kalemimi alabilir miyim?

Yukarıdaki kızın sorduğu soruya verilebilecek en güzel cevap hangisidir?

A) Hayır, olmaz.
B) Öğretmen versin.
C) Tabi ki alabilirsin.

35. Aşağıdaki kurallardan hangisi okul kurallarına uymayan bir öğrencinin davranışıdır?

A) Merdivenlerden sıra ile inmek.
B) Koridorlarda koşmamak.
C) Parmak kaldırarak konuşmak.

36. Aşağıdaki davranışlardan hangisi arkadaşlarımıza karşı sergilediğimiz olumlu bir davranıştır?

A) Yardıma ihtiyacı olan arkadaşımıza yardım etmeyiz.
B) Arkadaşlarımıza karşı nazik olmalıyız.
C) Arkadaşlarımıza karşı kırıcı olabiliriz.