

Aşağıdaki tişörtün ön kısmına eni 46 cm boyu ise 80 cm olan bir okul logosu ve alt kısmına da "OL" isimli değerler eğitimi logosu yapılmıştır."OL" logosunun eni 32 cm boyu ise 60 cm olarak ölçülmüştür.

AMAN HA UNUTMA:Çok küçük uzunlukları doğru ölçmek için 1 cm den daha küçük birimlere ihtiyacımız vardır. 1 cm = 10 mm, 1 m=100



1-) Yukarıdaki okul logosunun eni boyundan kaç cm kısadır?

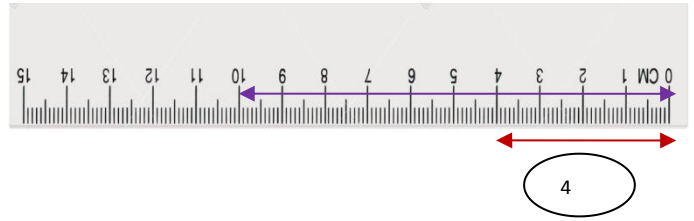


2-) Okul logosundaki harfin enini ..... ile ölçeriz.

2-) Okul logosunun boyu "OL" logosunun boyundan kaç dm daha uzundur.

3-) 23 Nisan Çocuk Bayramı'nda her çocuk için 145 cm kumaş kullanacak terzi bu tişörtten 12 adet sipariş almıştır. 12 çocuk olduğunu düşünürsek terzi çocuklar için kaç metre kaç santimetre kumaş kullanır?

Aşağıdaki nesnelerin uzunluklarını istenen türden yazınız.

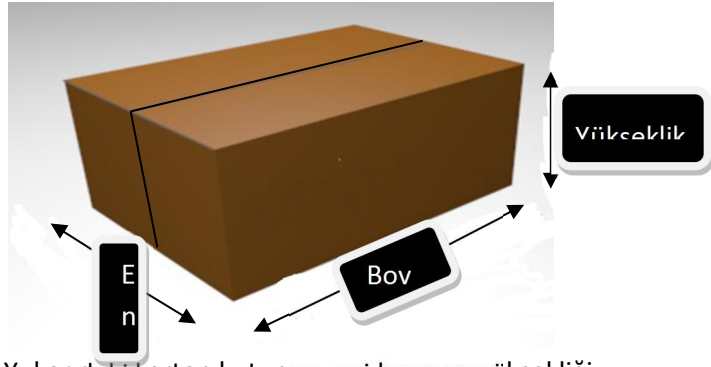


1-)Yukarıdaki cetvelde kırmızı okun her iki ucu arasındaki ölçüm altına yazılmıştır.Buna göre 4 cm uzunluk kaç milimetredir?

2- Yukarıdaki cetvelde mor okun her iki ucu arası kaç desimetredir?

3- Yukarıdaki cetvelin toplam uzunluğu kaç milimetredir?

4-



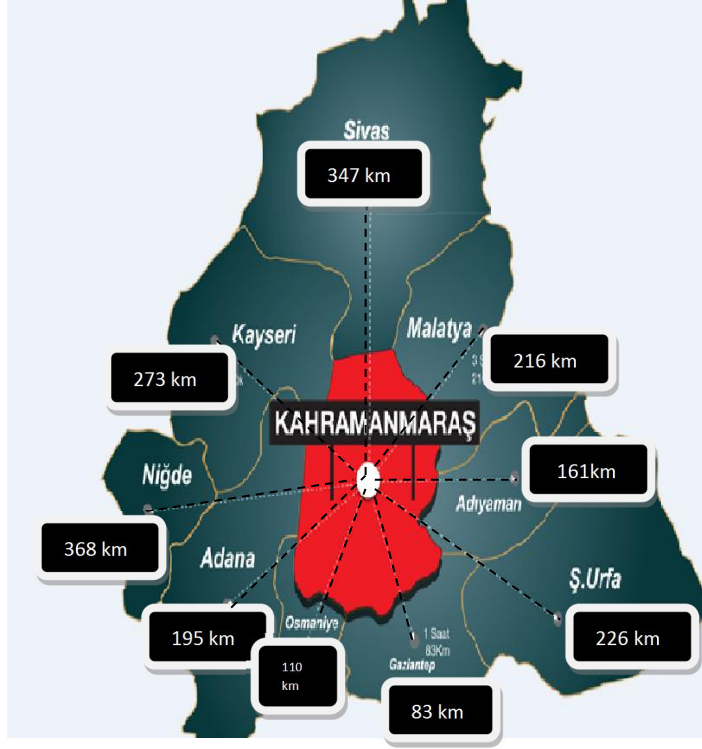
Yukarıdaki karton kutunun eni,boyu ve yüksekliği gösterilmiştir. Bu karton kutun eni 1 dm ve boyu 2 dm olarak ölçülmüştür.Boy eninden kaç cm daha uzundur?

5-Aşağıdaki cümlelerde boş bırakılan yerleri uygun ifadelerle doldurunuz.

- A)Bir sınav kitapçığının boyu ..... ile ölçmek daha uygundur.  
 B) Ankara ile İstanbul arasındaki yolun uzunluğu..... ile ölçmek daha uygundur.  
 C)Bir gofretin kalınlığını ..... ile ölçmek daha uygundur.  
 D) Bir çorba kaşığının uzunluğunu ..... ile ölçmek daha uygundur.  
 E)İki katlı bir binanın yüksekliğini .....ile ölçmek daha uygundur.

cm mm km m karış

1



Aşağıdaki soruları yukarıdaki haritaya göre cevaplayınız.  
1-)

A)Ş.Urfa ilinin Kahramanmaraş iline olan uzaklığı kaç metredir?

B) Gaziantep ilinin Kahramanmaraş olan uzaklığı kaç metredir.?

C)Kahramanmaraş ilinin Malatya iline olan uzaklığı kaç metredir?

D)Osmaniye ilinin Kahramanmaraş iline olan uzaklığı kaç metredir?



Ben Eda  
Boyum  
1 m 32cm

Ben Veli  
Boyum  
1 m 33 cm

Ben Ali  
Boyum  
1 m  
36cm



Aşağıdaki soruları yukarıdaki öğrencilerin boy ölçülerine bakarak cevaplandırınız

A)Eda'nın boyunu "cm" ve "mm" cinsinden yazınız.

Eda=-----cm

Eda=-----mm

B)Veli'nin boyunu "cm" ve "mm" cinsinden yazınız.

Veli=-----cm

Veli=-----mm

C)Ali'nin boyunu "cm" ve "mm" cinsinden yazınız.

Ali=-----cm

Ali=-----mm

ÇALIŞMALARINIZDA BAŞARILAR DİLERİZ.

Mutluyum 11