

Yöneticiler	Görev Yeri	Göreve Gelme Şekli
Muhtar		
Kaymakam		
	il / ilçe	Seçim ile

1. Yukarıda sembollerle gösterilen yerlere gelmesi gerekenler hangi seçenekte verilmiştir?

- A)  köy  seçim ile  il  seçim ile  belediye başkanı
- B) mahalle seçim ile ilçe atama ile belediye başkanı
- C) mahalle atama ile ilçe atama ile vali


2.



Benim babam halk tarafından seçilip ilde yaşayan halka hizmet edip ili yönetmektedir.

Eğitim ve sağlık hizmetleri.	Park ve bahçelerin bakımı.
Pazar yeri ve iş yeri denetimi.	Ulaşım hizmetleri.




Tabloda verilen hizmetlerden Hasan'ın babasının görevi olanları boyarsak hangi seçenek doğru olur?




- A) 
- B) 
- C) 


3.

- Kaymakam valiye bağlı olarak çalışır.
- İlçe içindeki halkın can ve mal güvenliğinden belediye başkanı sorumludur.
- Cumhurbaşkanı yerel yöneticilerdendir.
- Devletin ildeki ulaşım , sağlık , eğitim hizmetlerinin yönetilmesinden vali sorumludur

Yukarıda verilen ifadelerden doğru olanlar yeşile, yanlış olanlar kırmızıya boyanırsa doğru seçenek aşağıdakilerden hangisi olur?

- A) 
- B) 
- C) 

 ,  ,  canlılarına ait özelliklerinin yazıldığı tablo aşağıda verilmiştir.

	Suda yaşar.	Yumurta ile çoğalır.	Yavru bakımı vardır.
	EVET	EVET	HAYIR
	HAYIR	HAYIR	EVET
	HAYIR	HAYIR	EVET

4.




Tabloya göre sembollerle gösterilen canlılar hangi seçenekte verilen canlılar olabilir?

			
A) Kurbağa	İnek	Yunus	
B) Balık	Kuş	Koyun	
C) Hamsi	Tavşan	Yarasa	

5.

meyve kabuğu	salça kutusu	defter
soda şişesi	yemek atıkları	akü

Tabloda geri dönüşümü yapılabilen maddeler boyanırsa tablonun görünümü nasıl olur?

- A) 
- B) 
- C) 

6.

-  ulaşım  barınma
-  tarım  hastane yapma

Yukarıdakilerden kaç tanesi insanların yaşadıkları doğal çevreyi değiştirme nedeni olabilir?

- A) 2 B) 3 C) 4

7.



Yukarıda verilen şemadaki bilgilerin doğru yanlış durumuna göre oklar takip edildiğinde kaçınıcı çıkışa ulaşılır?

- A) 2.ÇIKIŞ B) 3.ÇIKIŞ C) 4.ÇIKIŞ

8.



LEYLA

Paramın üçte biri ,Yusuf'un parası kadardır.



ALPER

Paramın 10 lirasını Leyla'ya verirsem paralarımız eşitleniyor.



YUSUF

Cüzdanımda 30 lira vardır.

Üç arkadaş cüzdanındaki paralarla ilgili yukarıdaki bilgileri vermişlerdir.

Buna göre bu üç arkadaşın toplam kaç lirası vardır?

- A) 220 B) 230 C) 235



Elisa , Defne , Ada ve Nil'in doğru saate göre durumları aşağıda verilmiştir.

Elisa'nın saati 15 dakika ileridir.

Defne'nin saati 10 dakika geridir.

Ada'nın saati 20 dakika ileridir.

Nil'in saati 15 dakika geridir.

9. ve 10. soruları yukarıda verilen bilgilere göre cevaplayınız.

9.

Nil'in saati 16:45'i gösterdiğinde , Elisa'nın saati kaç gösterir?

- A) 17:00 B) 17.15 C) 17:30

10.

Ada'nın saatine göre 18:30 'da başlayan bir gösteri Defne'nin saatine göre 19.50'de bitmiştir.

Bu gösteri kaç dakika sürmüştür?

- A) 110 B) 100 C) 80



Bir manav çarşamba gününe özel tüm ürünleri yarı fiyatına satmaktadır.

11.

Çarşamba günü yarım kilo biberi 2 liraya ve 1 kg elmayı 3 liraya alan biri ;perşembe günü 1 kg biber ve 2 kg elma almış olsaydı kaç lira öderdi?

- A) 10 B) 14 C) 20

12.

Hatice, Hasan, Halil , Hamza ve Halime aynı okulda çalışan 5 arkadaşdır. Okula her ay birinin aracılığıyla beraber gitmeyi düşünmektedirler..Okula geliş gidiş için şu kararları almışlardır.

→ Okula birlikte geliş gidiş ekim ayında başlayacaktır.

→ Her bir kişi diğer arkadaşlarını bir ay boyunca kendi aracılığıyla okula getirip götürecektir.

→ Araçla götürme sırası isimlerin alfabetik sırasına göre olacaktır.

Buna göre aşağıdakilerden hangisi **yanlıştır**?

- A) Ocak ayında Hatice arkadaşlarını okula getirip götürecektir.
B) Aralık ayında Hamza arkadaşlarını okula getirip götürecektir.
C) Kasım ayında Halime arkadaşlarını okula getirip götürecektir.

13.



Yandaki verilen görselin hecelerinden biri aşağıdakilerden hangisinin hecelerinin birinde **bulunmaz**?

- A) Maske B) kasaba C) Salatalık

B	C	A	C	A	C	A	C	A	C	B	B	C	C	A	C	A	C	A	A							
1	2	3	4	5	6	7	8	9	10	11	12	13	13	13	12	11	10	9	8	7	6	5	4	3	2	1

RECEP ALPTEKİN