

## NESNE GRAFİĞİNİ ÖĞRENIYORUM

2.sınıf öğrencilerine aşağıda bulunan taşıtlardan en çok hangisini sevdikleri soruldu.

Verdikleri yanıtlar aşağıdadır.

Otomobil sevenler: 7

Kamyon sevenler: 6

Tren sevenler: 8





Otobüs sevenler: 5

Öğrencilerin yanıtlarını sıklık grafiğinde gösteriniz.

.....	
TAŞIT ADLARI	SIKLIK SAYISI

Öğrencilerin verdikleri cevapları çetele ve şekil grafiğın de gösteriniz.

.....	
TAŞIT ADLARI	ÇETELE SAYISI

8				
7				
6				
5				
4				
3				
2				
1				
T				

2.sınıf öğrencilerine aşağıda bulunan meyvelerden en çok hangisini sevdikleri soruldu.

Verdikleri cevaplar aşağıdadır.

Karpuz sevenler: 8

Elma sevenler: 7

Erik sevenler: 5

Muz sevenler: 9

Öğrencilerin yanıtlarını sıklık grafiğinde gösteriniz.

.....	
MEYVE ADLARI	SIKLIK SAYISI

Öğrencilerin verdikleri cevapları çetele ve nesne grafiğlerinde gösteriniz.

.....	
MEYVE ADLARI	ÇETELE SAYISI

9				
8				
7				
6				
5				
4				
3				
2				
1				
M	