

2021 / 2022 EĞİTİM – ÖĞRETİM YILI
MATEMATİK DERSİ 2.DÖNEM 1 . YAZILI SINAVI

Adı Soyadı:

Sınıfı ve Numarası:

Aldığı Puan:

1) Aşağıdaki toplama işlemleri yapınız. 4P

$$\begin{array}{r} 3.982 \\ + 825 \\ \hline \end{array} \quad \begin{array}{r} 1.890 \\ + 2.233 \\ \hline \end{array} \quad \begin{array}{r} 3.608 \\ + 2.233 \\ \hline \end{array}$$

2) Aşağıdaki çıkarma işlemleri yapınız. 4P

$$\begin{array}{r} 2427 \\ - 1.309 \\ \hline \end{array} \quad \begin{array}{r} 5000 \\ - 1.246 \\ \hline \end{array}$$

3) Aşağıdaki çarpım tablosunu doldurunuz. 6P

X	3	4	6
7			
8			

4) Aşağıdaki bölme işlemlerini yapınız. 4P

$$\begin{array}{r} 450 \overline{) 30} \\ \hline \end{array} \quad \begin{array}{r} 672 \overline{) 8} \\ \hline \end{array}$$

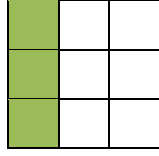
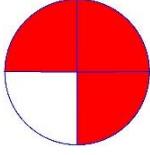
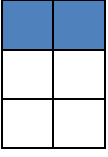
5) Hasan Bey'in 420 TL si vardı. 175 TL ye gömlek aldı. Geriye kaç lirası kaldı? 4P

6) Bir okuldaki erkek öğrenci sayısı 630dur. Kız öğrenci sayısı, erkek öğrencilerden 34 eksiktir. Bu okuldaki tüm öğrencilerin sayısı kaçtır? 6P

7) Ben 12 yaşımdayım. Ablam benden 4 yaş büyüktür. Kardeşim ise benden 3 yaş küçüktür. Üçümüzün yaşları toplamı kaçtır? 6P

8) Önümde 7 kutu var. Her kutuda 15 tane kalem olduğuna göre, kutuların tamamında kaç kalem vardır? 4P

9) Aşağıda boyalı kısımları gösterilen kesirlerin değerlerini yazınız. 3P



.....

10) Aşağıdakilerden hangisi basit kesirdir? 3P

- A) $\frac{8}{7}$ B) $\frac{7}{8}$ C) $\frac{9}{9}$ D) $3\frac{2}{5}$

11) Aşağıdaki kesirlerden hangisi en büyüktür? 3P

- A) $\frac{1}{2}$ B) $\frac{1}{5}$ C) $\frac{1}{4}$ D) $\frac{1}{3}$

12) Önümdeki pastanın önce $\frac{1}{8}$ ini, daha sonra

$\frac{3}{8}$ ünü yedim. Pastanın kaçta kaçını yedim? 4P

13) Cebimdeki 81 liranın $\frac{3}{9}$ ü ile kitap aldım.

Kaç lira harcadım? 6P

14) 120 sayfalık kitabımın $\frac{2}{5}$ sini okudum.

Geriye kaç sayfa kaldı? 6P

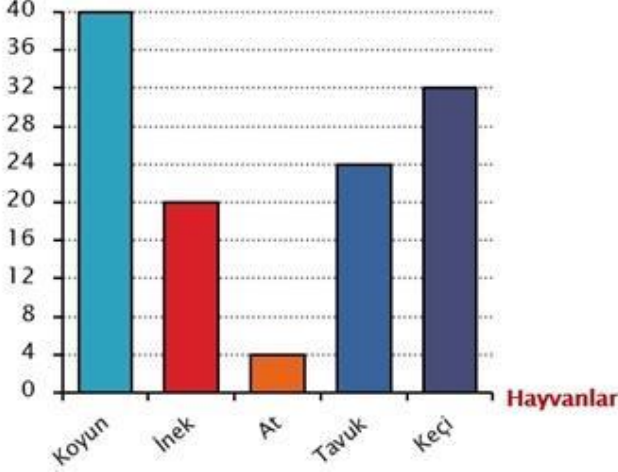
15) 2 saat 15 dakika spor yapan Elif, kaç dakika spor yapmış olur? 4P

16) Bir izci grubu 2 hafta 3 gün kamp yaptı. Bu izci grubu, kaç gün kamp yapmış oldu? 4P

17) Aşağıdakilerden hangisi diğerlerine göre daha kısadır? 5P

- A) 6 hafta B) 1 ay 1 hafta
C) 40 gün D) 1 ay 8 gün

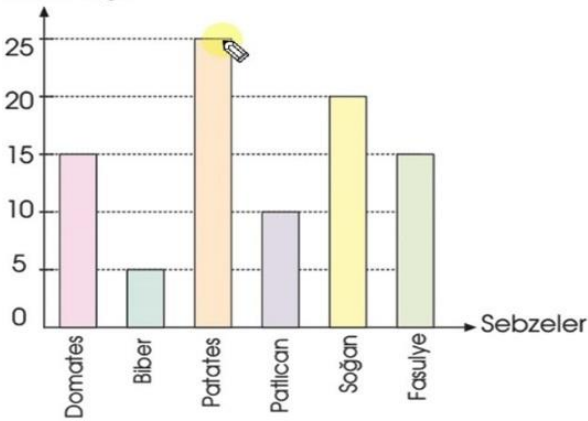
18) Hayvan Sayısı



Yukarıdaki grafiği inceleyerek, aşağıdaki soruları cevaplayınız. 6P

- a) Bu çiftlikte en az olan hayvan hangisidir?.....
- b) İneklerin sayısı atların sayısından kaç fazladır?.....
- c) Bu çiftlikte kaç hayvan yaşamaktadır?.....

19) Grafik: Lokantanın Kullandığı Sebze Miktarları
Miktar (kg)



Yukarıdaki grafiği inceleyerek, aşağıdaki soruları cevaplayınız. 6P

- a) Hangi sebzeler eşit miktarda kullanılmıştır?.....
- b) Lokantanın kullandığı soğan ve patateslerin toplamı kaç kilogramdır?.....
- c) En az hangi sebze kullanılmıştır?.....

20) Aşağıdaki tabloyu inceleyerek, bu bilgileri gösteren bir grafik çizin. 6P

SEVİLEN MEYVELER	ÖĞRENCİ SAYISI
Elma	2
Çilek	6
Kiraz	5
Karpuz	9

21) 74 sayısının 3 katının 28 eksiği kaç yapar?
6P



Cevapladığın tüm soruları

mutlaka kontrol et.

Başarılar dilerim ...